




# RPP DARING/PJJ BAHAN AJAR KELAS 1 MATEMATIKA TEMA 3 ST 1

## TEMA 3 KEGIATANKU



Satuan Pendidikan : SDN .....

Kelas / Semester : I (Satu) / 1

**Tema 3 : Kegiatanku**

**Sub Tema 3 : Kegiatan Sore Hari**

**Muatan Pelajaran : Matematika**

**Pembelajaran : 2 Alokasi Waktu : 1 x Pertemuan (2 x 35 menit)**

## **Kompetensi Inti (KI)**

KI 1 : Menerima dan menjalankan ajaran Agama yang dianutnya

KI 2 : Memiliki perilaku jujur, disiplin, tanggung jawab, santun, peduli, dan percaya diri dalam berinteraksi dengan keluarga, teman dan guru

KI 3 : Memahami pengetahuan faktual dengan cara mengamati mendengar, melihat, membaca dan menanya berdasarkan rasa ingin tahu tentang dirinya, makhluk ciptaan Tuhan dan kegiatannya, dan benda-benda yang dijumpainya di rumah, sekolah

KI 4 : Menyajikan pengetahuan faktual dalam bahasa yang jelas dan logis dan sistematis, dalam karya yang estetis dalam gerakan yang mencerminkan anak sehat, dan dalam tindakan yang mencerminkan perilaku anak beriman dan berakhlak mulia

## **Kompetensi Dasar**

**Sub Tema 1 : Kegiatan Pagi Hari**

**Matematika**

3.1 Menjelaskan makna bilangan cacah sampai dengan 99 sebagai banyak anggota suatu kumpulan objek.

3.2 Menjelaskan bilangan sampai dua angka dan nilai tempat penyusun lambang bilangan menggunakan kumpulan benda konkret serta cara membacanya.

## Tujuan Pembelajaran



1. Dengan menggunakan benda-benda konkret/gambar siswa dapat membilang 11 sampai dengan 20 secara urut dengan tepat
2. Dengan menggunakan gambar dan kartu bilangan siswa mampu menunjukkan lambang bilangan 11 sampai dengan 20 dengan tepat.
3. Dengan menggunakan benda-benda konkret/gambar, siswa dapat mengelompokkan benda sesuai dengan bilangan 11 sampai dengan 20 yang ditentukan, dengan tepat.

## Indikator

- 3.1.1 Membilang secara urut, bilangan 11 sampai dengan 20 dengan bantuan benda konkret.
- 3.2.1 Mengenal lambang bilangan 11 sampai dengan 20 dengan tepat.

## Pendahuluan

- Berdoa bersama
- Belajar bersama tepuk dan salam PPK
- Menyanyikan lagu Indonesia Raya



1 - Doa Sebelum Belajar



2 - Belajar bersama tepuk dan salam PPK



3 - Menyanyikan Lagu Indonesia Raya

## Materi Pembelajaran




Sudah siapkah anak-anak belajar hari ini? Sebelum pelajaran kita mulai, mari kita bersama-sama tepuk semangat ...






4 - Anak-anak perhatikan gambar diatas? Lani sedang berolahraga. Coba olahraga apa yang dilakukan Lani?

Betul olahraga yang dilakukan Lani yaitu **berlari**....



5 - Sambil berlari, Lani menghitung benda-benda yang ditemui dijalan... Gambar anak panah menunjukkan ada berapa ekor ayam yang ditemui Lani? Betul ada **8 ekor ayam**...




6 - Lani juga menemukan bunga anak-anak. Coba kalian hitung ada jumlah bunga yg ditemui Lani? Betul sekali ada **7 buah bunga** yang ditemu Lani saat berlari.

Pagi hari Lani berolahraga. Lani jalan pagi di sekitar rumahnya. Sambil jalan pagi Lani melihat sekeliling. Lani menghitung benda-benda yang dilihatnya. Coba hitung banyak benda-benda tersebut. Anak-anak, Lani menemukan apa saja ya?




7 - Lani menemukan ayam, coba kalian hitung ada berapa ekor ayam yang ditemui Lani? Iya betul Anak-anak jumlah Ekor ayam berjumlah **11**.



8 - Lani juga menemukan pohon, coba kalian hitung ada berapa jumlah pohon yang ditemui Lani? Iya betul Anak-anak jumlah pohon berjumlah **12**.





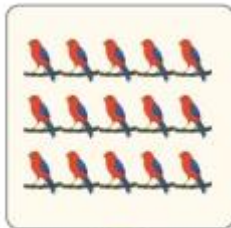
9 - Lani menemukan bunga, coba kalian hitung ada berapa bunga yang ditemui Lani? Iya betul anak-anak jumlah bunga berjumlah **13**.



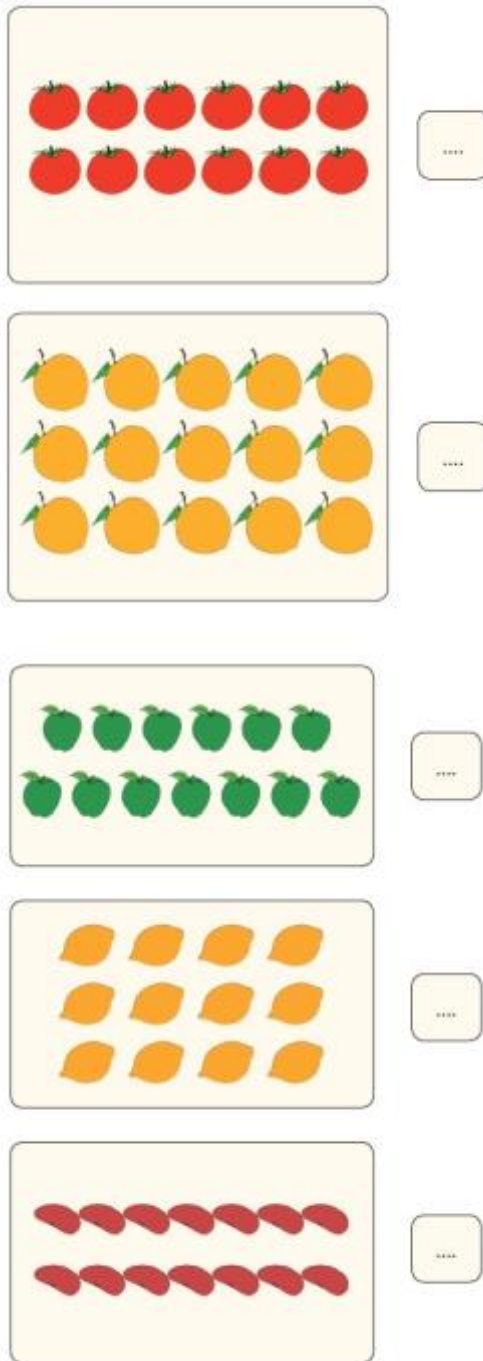
10 - Lani juga menemukan kupu-kupu, coba kalian hitung ada berapa jumlah kupu-kupu yang ditemui Lani? Iya betul anak-anak jumlah kupu-kupu berjumlah **14**.

Selanjutnya Lani belajar menghitung benda-benda lainnya....

Yuck kalian bantu Lani untuk menghitung jumlah benda-benda di bawah ini... Jumlahnya ada berapa? Kerjakan di buku kalian ya...







Setelah kalian sudah mempelajari dan menghitung jumlah banyaknya benda. Mudah bukan?

Sekarang kita belajar mengurutkan bilangan.

Perhatikan bilangan berikut ini.

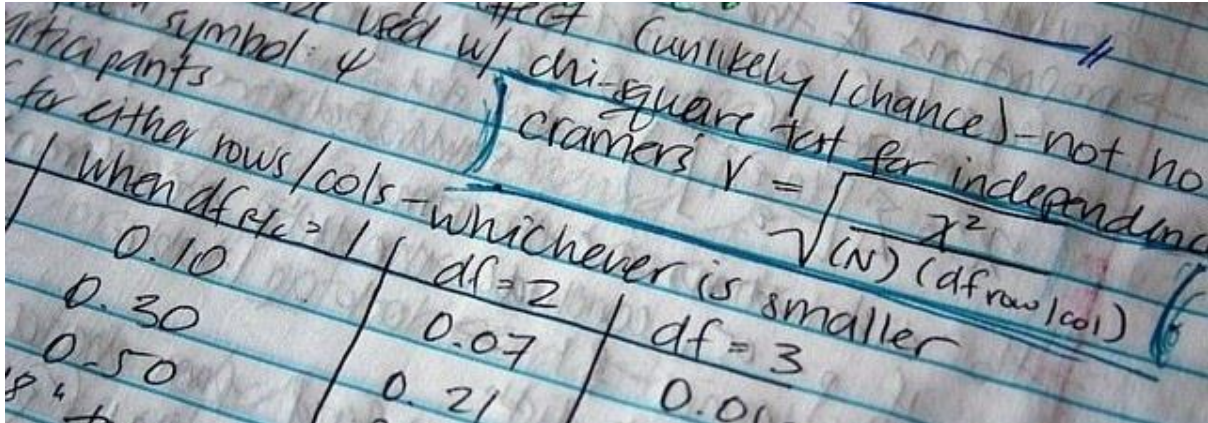
20 15 13 18 14 12 17 11 16 19

Sekarang urutkan bilangan tersebut dari yang terkecil.

... ..

Hubungkanlah bilangan-bilangan gambar diatas secara berurutan. Iya betul, urutan bilangan dari terkecil yang ke besar adalah: 11 12 13 14 15 16 17 18 19 20

## Latihan

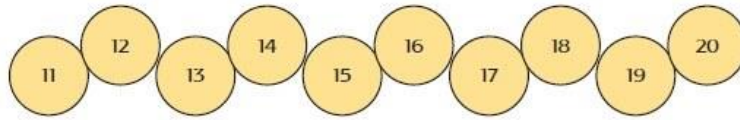


Gambar buah-buahan sesuai bilangannya!

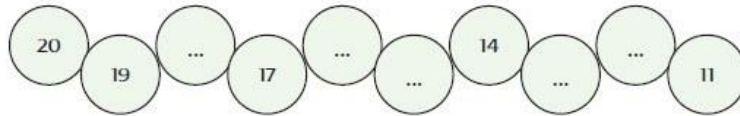
19	20

11 - 1. Gambarlah jumlah jenis buah-buahan atau benda sesuai bilangannya !

Urutan bilangan 11 sampai 20 dari yang terkecil.



Sekarang lengkapilah urutan bilangan berikut ini!



12 - 2. Lengkapi urutan bilangan di atas dari yang terbesar ke terkecil!


13 - 3. Tentukan atau pasangan bilangan yang tepat pada kumpulan benda di bawah ini!

## SUMBER DAN MEDIA PEMBELAJARAN

1. Buku Pedoman Guru Tema : Kegiatanku Kelas 1 (Buku Tematik Terpadu Kurikulum 2013 Rev.2017, Jakarta: Kementerian Pendidikan dan Kebudayaan, 2013 Rev.2017).
2. Buku Siswa Tema : Kegiatanku Kelas 1 (Buku Tematik Terpadu Kurikulum 2013 Rev.2017, Jakarta: Kementerian Pendidikan dan Kebudayaan, 2013 Rev.2017).
3. Poster
4. LCD Proyektor
5. <https://sway.office.com/ELVjoGc8DaobJBG?ref=Link&loc=play>

## Refleksi

Demikian materi yang Bapak atau Ibu guru sampaikan. Mudah-mudahan kalian semua menjadi siswa yang kreatif yang pantang menyerah... Selalu jaga kesehatan dan cuci tangan setelah beraktifitas...