

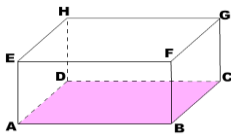
LEMBAR EVALUASI

Nama Siswa :

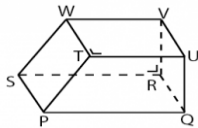
Nomor Absen :

I. Berilah tanda silang (X) pada jawaban yang benar !

1. Ciri-ciri tempat yang bersih adalah ...
 - a. Sampah berserakan
 - b. Tidak ada sampah yang berserakan
 - c. Banyak lalat



2. Bangun di samping mempunyai ruas garis sebanyak ...
 - a. 10
 - b. 11
 - c. 12

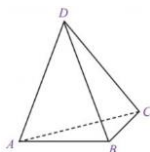
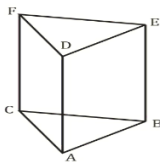


3. Bangun di samping mempunyai ruas garis sebanyak ...
 - a. 10
 - b. 12
 - c. 14

4. Yang bukan termasuk alat untuk menggambar adalah ...
 - a. Cat air
 - b. cat tembok
 - c. krayon
5. Agar gambar tampak lebih menarik adalah fungsi dari ...
 - a. Sketsa
 - b. mewarnai
 - c. membayangkan

II. Isilah titik-titik di bawah ini dengan jawaban yang tepat !

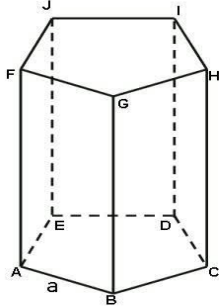
6. Rumah yang bersih akan membuat penghuninya menjadi
7. Lingkungan yang kotor akan menyebabkan
8. Bangun di samping memiliki ruas garis sebanyak



9. Bangun disamping memiliki ruas garis sebanyak
10. Untuk membuat sketsa kita menggunakan

III. Jawablah pertanyaan di bawah ini !

11. Tulislah ciri-ciri dari tempat yang bersih !
12. Tulislah cara menjaga kebersihan di tempat bermain !
13. Analisislah ruas garis pada bangun di bawah ini !



14. Apa yang dimaksud dengan menggambar imajinatif ?
15. Tuliskan langkah-langkah menggambar imajinatif !