

**EVALUASI PEMBELAJARAN**  
**KELAS 1 TEMA 3 SUBTEMA 4 PEMBELAJARAN 5**

**KISI – KISI SOAL**

**Mata Pelajaran/Tema : Tematik (Matematika, Bahasa Indonesia)**  
**Kelas/Semester : 1 / 1**

No.	Kompetensi Dasar/Muatan Mapel	Materi	Indikator Soal	Level Kognitif	Bentuk Soal	No. Soal
1.	3.3 Menjelaskan dan melakukan penjumlahan dan pengurangan bilangan cacah sampai dengan 99 dalam kehidupan sehari-hari serta mengaitkan penjumlahan dan pengurangan.	- Konsep pengurangan bilangan cacah	- Disajikan pernyataan, siswa mampu menyebutkan hasil dari pengurangan 2 angka	C1	PG	1
			- Disajikan gambar siswa mampu menunjukkan hasil pengurangan 2 angka	C1	PG	2
			- Disajikan gambar, siswa mampu menghitung hasil dari pengurangan 2 angka	C3	PG	3
			- Disajikan soal cerita, siswa mampu menghitung hasil pengurangan 2 angka	C3	PG	4
			- Disajikan gambar siswa mampu menjelaskan hasil pengurangan 2 angka	C2	PG	5

2.	3.7 Mengenal kosa kata yang berkaitan dengan peristiwa siang dan malam melalui teks pendek (berupa gambar, slogan sederhana, tulisan, dan atau syair lagu)	- Kosa kata yang berhubungan dengan kegiatan malam hari	<p>- Disajikan pernyataan, siswa mampu menyebutkan suasana yang berhubungan dengan malam hari”</p> <p>- Disajikan pernyataan siswa mampu menyebutkan nama benda langit yang terlihat pada malam hari</p> <p>- Disajikan pernyataan siswa mampu menyebutkan kebiasaan baik yang dilakukan sebelum tidur pada malam hari</p> <p>- Disajikan pernyataan siswa mampu menyusun huruf acak yang berhubungan dengan nama benda yang terlihat pada malam hari</p> <p>Disajikan gambar siswa mampu menjelaskan kegiatan yang dilakukan pada malam hari.</p>	C1	PG	6
				C1	PG	7
				C1	PG	8
				C4	PG	9
				C2	PG	10

Berilah tanda silang (x) pada jawaban yang benar !

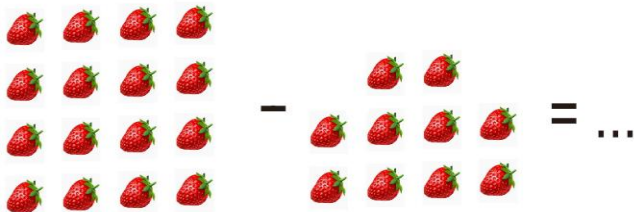
1. Dinda memiliki 12 permen, ia memakannya 4 permen, sisa permen Dinda adalah... Buah

A. 7

B. 8

C. 9

2.



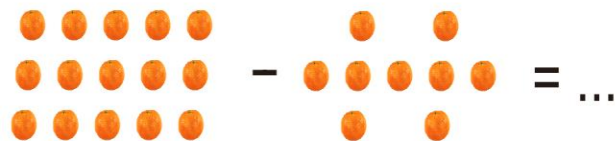
Hasil pengurangan buah Strawberry diatas adalah....

A. 6 buah

B. 7 buah

C. 8 buah

3.



Hasil pengurangan buah jeruk diatas adalah...

A. 6 buah

B. 7 buah

C. 8 buah

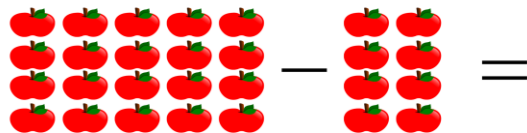
4. Ibu menyiapkan 18 buah pisang goreng di meja makan, kakak mengambil 9 buah pisang goreng untuk di berikan kepada kakek dan nenek, sisa pisang goreng yang ada diatas meja adalah.... Buah.

A. 7

B. 8

C. 9

5. Ibu membeli 20 buah apel, Bayu mengambilnya 8 buah apel untuk di berikan keapda temannya Rudi dan Anton, sisa buah apel yang Ibu beli adalah...



A. 11

B. 12

C. 13

6. Setelah matahari terbenam maka hari berganti...

A. Malam

B. Pagi

C. Siang

7. Benda langit yang terlihat Ketika malam hari adalah...

A. Bulan dan Matahari

B. Matahari dan Bintang

C. Bintang dan Bulan

8. Sebelum tidur Putri... Terlebih dahulu
- A. Bermain
  - B. Berdoa
  - C. Berjalan-jalan
9. Perhatikan huruf acak berikut  
g-t-n-a-b-i-n  
Susunan kata yang benar adalah...
- A. Bulan
  - B. Matahari
  - C. Bintang
10. Kegiatan baik yang bisa dilakukan siswa pada malam hari adalah...
- A. Belajar
  - B. Bekerja
  - C. Bermain

<https://forms.gle/LaEhew3woTqpZ2ZB9>

No.	Kunci jawaban	Skor perolehan
1.	B	1
2.	A	1
3.	A	1
4.	C	1
5.	B	1
6.	A	1
7.	C	1
8.	B	1
9.	C	1
10.	A	1

Skor =  $\frac{\text{Skor perolehan} \times 100}{10} = \dots$

10

<https://forms.gle/LaEhew3woTqpZ2ZB9>

<https://forms.gle/LaEhew3woTqpZ2ZB9>