

TUGAS AKHIR EVALUASI PEMBELAJARAN KELAS 2 TEMA 4 SUBTEMA 2 PB 3



- 1.Kisi-kisi soal**
- 2.Soal Evaluasi**
- 3.Kunci Jawaban**
- 4.Link Google Form**

Oleh :

Muhamamad Hendra Hamidi, S.Pd

**SDN NANGELA
KECAMATAN NANGGUNG KABUPATEN BOGOR**

KISI-KISI SOAL PENILAIAN EVALUASI

Satuan Pendidikan : SDN Nangela
 Kelas/Semester : 2 /1
 Tema : 4. Hidup Bersih dan Sehat
 Sub Tema/Pb : 2. Hidup Bersih dan Sehat di Sekolah / PB 3
 Tahun Pelajaran : 2020/2021

NO	MUATAN PELAJARAN	KOMPETESI DASAR		INDIKATOR SOAL	BENTUK SOAL	LEVEL KOGNITIF	BOBOT	NO SOAL
1	Bahasa Indonesia	3.4	Mengenal kosakata dan konsep tentang lingkungan sehat dan lingkungan tidak sehat di lingkungan sekitar serta cara menjaga kesehatan lingkungan dalam Bahasa Indonesia atau bahasa daerah melalui teks tulis, lisan, dan visual.	Disajikan gambar untuk peserta didik mengidentifikasi mengenai gambar yang ditampilkan	PG	L2, C2	1	1
				Menyebutkan salah satu ciri benda kotor	PG	L1, C1	1	2
				Disajikan gambar mengenai informasi yang didapat	Essay	L2, C2	3	1
2	Matematika	3.10	Menjelaskan bangun datar dan bangun ruang berdasarkan ciri-cirinya.	Disajikan gambar untuk diidentifikasi jumlah titik sudut	PG	L2, C2	1	3
				Disajikan gambar untuk diidentifikasi jumlah sisi, sudut, dan titik sudut	Essay	L2, C2	3	2

Nanggung, 2020
 Guru Kelas

Muhammad Hendra Hamidi, S.Pd
 NIP. 198911252019021003

Berikan tanda silang (x) pada jawaban yang benar !

1. Apa yang dilakukan Dayu dan teman-teman?



- a. mengotori kelas
 - b. membersihkan kelas
 - c. merusak dinding
 - d. mengotori lapangan
2. Debu dan sampah mengandung
- a. udara
 - b. Energi
 - c. air
 - d. kuman
3. Amati gambar di bawah dengan teliti!



Tentukan berapa banyak titik sudut pada bangun diatas !

- a. 4
- b. 5
- c. 7
- d. 8

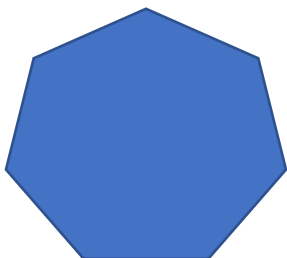
Isilah titik titik dengan jawaban yang tepat !

1. Amati gambar di bawah dengan teliti!



Informasi apa saja yang dapat kamu berikan dengan melihat gambar tersebut?

2. Hitunglah banyak sisi, sudut, dan titik sudut pada bangun-bangun datar berikut!



Kunci Jawaban

PG.

1. b
2. d
3. a

Essay

1. lingkungan yang bersih dan tertata rapih
2. Sisi : 7
Sudut : 7
Titik sudut : 7

Skor maksimal X 100 =

6

Soal Evaluasi kelas 2

Tema 4 subtema 2 pb 3

* Wajib

<https://forms.gle/jGbctod7Bv7Rzt1y9>

1. Nama *

2. Kelas *

Berikan tanda silang (x) pada jawaban yang benar !

3. 1. Apa yang dilakukan Dayu dan teman-teman? *



Tandai satu oval saja.

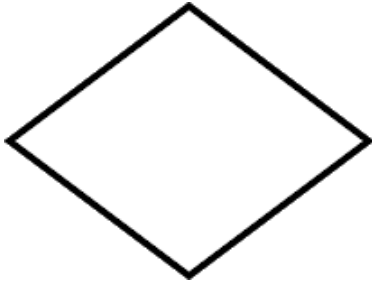
- a. mengotori kelas
- b. membersihkan kelas
- c. merusak dinding
- d. mengotori lapangan

4. 2. Debu dan sampah mengandung ... *

Tandai satu oval saja.

- a. udara
- b. energi
- c. air
- d. kuman

5. 3. Amati gambar di bawah dengan teliti! *



Tentukan berapa banyak titik sudut pada bangun diatas !

Tandai satu oval saja.

- a. 4
- b. 5
- c. 7
- d. 8

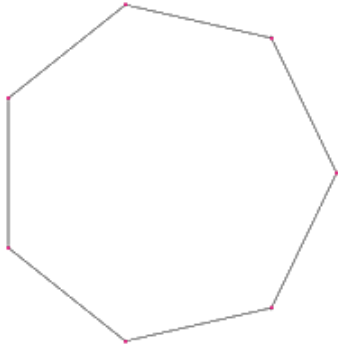
Isilah titik titik dengan jawaban yang tepat !

6. 1. Amati gambar di bawah dengan teliti! *



Informasi apa saja yang dapat kamu berikan dengan melihat gambar tersebut ?

7. 5. Hitunglah banyak sisi, sudut, dan titik sudut pada bangun-bangun datar berikut! *



Konten ini tidak dibuat atau didukung oleh Google.

Google Formlir