



1. Gambar disamping terbuat dari.....
- a. Kain
  - b. Kayu
  - c. plastik
  - d. Tanah liat

2. Yang merupakan kerajinan yang terbuat dari tanah liat adalah.....

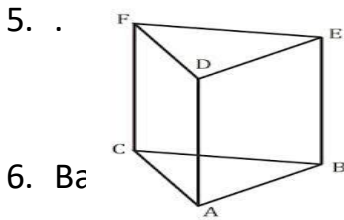
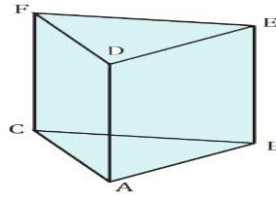
- a. Baju
- b. sapu
- c. Pot bunga
- d. buku

3. Yang bukan merupakan alat dan bahan untuk membuat patung adalah.....

- a. Air
- b. Sendok
- c. plastic
- d. tanah liat

4. Gambar disamping adalah bangun ruang.....

- a. Tabung
- b. Prisma
- c. bola
- d. kerucut



Yang bukan ruas garis prisma adalah.....

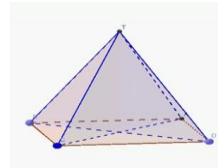
- a. AD
- b. BC
- c. PQ
- d. EF

6. Banyak rusuk prisma segitiga adalah.....

- a. 9 buah
- b. 8 buah
- c. 7 buah
- d. 6 buah

7. Gambar berikut adalah limas.....

- a. Segi tiga
- b. Segi empat
- c. segi lima
- d. segi enam



8. Teks percakapan berisi tentang.....

Teman-teman, tempat kita menjadi becek, kumuh, dan banyak bercak-bercak tanah. Tempat ini harus kita bersihkan kembali.

Betul kata Dayu. Tempat ini juga berantakan. Kita juga harus merapikannya kembali.



- a. Meninggalkan tempat yang kotor                      c. Melupakan tempat yang kotor  
b. Membiarkan tempat yang kotor                      d. Membersihkan tempat yang kotor
9. Jika kita tidak hati-hati berjalan ditempat yang becek dan mengandung air, kita dapat.....  
a. Jatuh dan terpeleset                      c. Berlari kencang  
b. Berenang                      d. Terbang tinggi
10. Bau yang tidak enak dan pencemaran lingkungan dapat menumbulkan.....  
a. Kesehatan                      c. Ketenangan  
b. Penyakit                      d. Penderitaan

### **Kunci Jawaban**

- 1. D**  
**2. C**  
**3. B**  
**4. B**  
**5. C**  
**6. A**  
**7. B**  
**8. D**  
**9. A**  
**10.B**

Soal dalam bentuk google form <https://forms.gle/FYcxZo6jQTq1Umie7>

Password : coba1