

EVALUASI PEMBELAJARAN

Satuan Pendidikan : SD Negeri Situjaya
Kelas / Semester : 3 / 1
Tema : Kewajiban dan Hakku (Tema 4)
Sub Tema : Kewajiban dan Hakku dalam Bertetangga (Sub Tema 3)
Pembelajaran ke : 1
Alokasi waktu : 1 Pembelajaran

KOMPETENSI DASAR DAN INDIKATOR PENCAPAIAN KOMPETENSI

Muatan : Bahasa Indonesia

No	Kompetensi	Indikator
3.1.	Mencermati ungkapan atau kalimat saran, masukan, dan penyelesaian masalah (sederhana) dalam teks tulis.	3.1.1 Membandingkan kalimat saran dan bukan saran.
4.1	Memeragakan ungkapan atau kalimat saran, masukan, dan penyelesaian masalah (sederhana) sebagai bentuk ungkapan diri menggunakan kosa kata baku dan kalimat efektif yang dibuat sendiri.	4.1.1 Menuliskan kalimat saran.

Muatan : Matematika

No	Kompetensi	Indikator
3.1	Menyatakan suatu bilangan sebagai jumlah, selisih, hasil kali, atau hasil bagi dua bilangan cacah.	3.1.1 Menyatakan dua bilangan cacah yang hasil kalinya diketahui

Muatan : SBdP

No	Kompetensi	Indikator
3.1	Mengetahui unsur-unsur rupa dalam karya dekoratif	- Mengkategorikan bidang dan warna sebagai unsur karya dekoratif.
4.1	Membuat karya dekoratif	- Mengkreasikan karya dekoratif.

A. TUJUAN PEMBELAJARAN

1. Setelah membaca teks pada power point, peserta didik dapat **membandingkan** kalimat saran dan kalimat bukan saran dengan tepat. (*HOTS, TPACK*)
2. Setelah menyaksikan tayangan video, peserta didik dapat **membuat** kalimat saran dengan baik dan benar. (*TPACK*)
3. Setelah berlatih bersama guru, peserta didik dapat **menyelesaikan** dua bilangan cacah yang hasilnya diketahui dengan tepat. (*4C*)
4. Dengan mengamati contoh masalah, peserta didik dapat **membuat** permasalahan berkaitan dengan perkalian dua bilangan cacah yang hasilnya ditentukan sendiri dengan tepat.
5. Setelah mengamati berbagai bentuk bangun datar di rumah, peserta didik dapat **memilih** bidang dan warna sebagai unsur karya dekoratif dengan tepat
6. Setelah mengamati bidang dan warna dasar pada buku siswa, peserta didik dapat **membuat** sebuah gambar dekoratif dengan penuh kreatifitas.

**KISI-KISI SOAL EVALUASI KELAS 3 TEMA 4 KEWAJIBAN DAN HAKKU
SUB TEMA 3 KEWAJIBAN DAN HAKKU DALAM BERTETANGGA PEMBELAJARAN 1**

No.	Kompetensi Dasar	Indikator	Materi	Indikator Soal	Level Kognitif	PG	Bobot Soal	No. Soal
1	Bahasa Indonesia 3.1 Mencermati ungkapan atau kalimat saran, masukan, dan penyelesaian masalah (sederhana) dalam teks tulis	3.1.1 Membandingkan kalimat saran dan bukan saran	Kalimat Saran	- Disajikan teks. Siswa dapat menyebutkan kalimat saran yang terdapat pada soal.	C1	PG	10	1, 2
				- Disajikan teks. Siswa dapat menentukan masukan yang terdapat pada soal.	C3	PG	10	4
2	Matematika Menyatakan suatu bilangan sebagai jumlah, selisih, hasil kali, atau hasil bagi dua bilangan cacah.	3.1. Memutuskan dua bilangan cacah yang hasil kalinya diketahui	Perkalian dua bilangan cacah yang hasilnya diketahui	- Disajikan soal. Siswa dapat menemukan perkalian dua bilangan cacah yang hasilnya ditentukan sendiri	C4	PG	10	5, 6
				- Disajikan soal. Siswa dapat menentukan dua bilangan cacah yang hasil kalinya diketahui dengan tepat.	C3	PG	10	10
				- Disajikan soal cerita. Siswa dapat menyelidiki dua perkalian bilangan cacah yang hasilnya	C1	PG	10	8


No.	Kompetensi Dasar	Indikator	Materi	Indikator Soal	Level Kognitif	PG	Bobot Soal	No. Soal
				ditentukan sendiri dengan tepat				
3.	SBdP Mengetahui unsur-unsur rupa dalam karya dekoratif	- Memilih bidang dan warna sebagai unsur karya dekoratif.	Karya dekoratif	- Disajikan soal. Siswa dapat mengidentifikasi garis dan warna sebagai unsur karya dekoratif.	C1	PG	10	3, 9
				- Disajikan gambar. Siswa dapat membuktikan garis, bidang dan warna sebagai unsur karya dekoratif.	C3	PG	10	7

LEMBAR EVALUASI

Nama :

Berilah tanda silang (x) pada huruf A, B, atau C di depan jawaban yang benar!


1. Berikut yang termasuk kalimat saran adalah
 - A. Kamu selalu menghormati kedua orang tuamu.
 - B. kapan kamu menghormati orang tuamu.
 - D. Hormatilah kedua orang tuamu.
2. Sebaiknya kamu mengenal dan berbuat baik dengan tetangga.
Kalimat tersebut merupakan contoh dari
 - A. Kalimat saran
 - B. Kalimat ucapan terima kasih
 - C. Kalimat perintah.
3. Berikut ini merupakan contoh bentuk bangun datar, yaitu
 - A. kubus
 - B. kerucut
 - C. persegi Panjang
4. Adi menghilangkan buku yang dia pinjam dari Edo. Dia merasa bingung apa yang harus dilakukan. Sebagai teman yang baik saranmu adalah
 - A. Sebaiknya kamu meminta maaf dan akan menggantinya
 - B. Sebaiknya kamu pura-pura tidak tahu bukunya hilang
 - C. Sebaiknya kamu diam saja.
5. Hasil perkalian dari 16×5 adalah
 - A. 160
 - B. 80
 - C. 32
6. Mas Mamik memiliki 500 buah mangga. Apabila Mas Mamik berbagi buah mangga kepada lima orang tetangganya, dan banyaknya manga yang diterima oleh masing-masing tetangga sama, maka masing-masing tetangga mendapatkan ... buah mangga.
 - A. 100
 - B. 500
 - C. 50



(1)



(2)



(3)

7. Perhatikan gambar tersebut.


Bidang lingkaran dan persegi ditunjukkan oleh gambar nomor

- a. no. 3
- b. no. 2
- c. no. 1

8. Bu Ida membeli buku 350 buah buku. Sebagai kenang-kenangan, buku tersebut akan diberikan pada siswa-siswa kelas tiga sebanyak 35 orang. Setiap siswa akan menerima ... buku.

- A. 5
- B. 10
- C. 20

9. . Perhatikan gambar berikut!



Motif dekoratif yang ditunjukkan gambar tersebut adalah

- A. membuat pola segiempat
- B. membuat pola lingkaran
- C. menyiapkan alat

10. Pasangan bilangan berikut yang hasil perkaliannya 560 yaitu

- A. 40 dan 14
- B. 28 dan 30
- C. 80 dan 70



KEMENTERIAN PENDIDIKAN DAN KEBUDAYAAN
KARTU SOAL
TAHUN PELAJARAN 2020/2021

PAKET

Jenis Sekolah : SEKOLAH DASAR
Mata Pelajaran : Bahasa Indonesia
Bahan Kelas : III (Tiga)

Nama Penyusun

FITRI NOVIYANTI, S.Pd.

Satuan Pendidikan

SDN Situjaya

Kompetensi Dasar :

3.1 Mencermati ungkapan atau kalimat saran, masukan, dan penyelesaian masalah (sederhana) dalam teks tulis.

Level Kognitif :

Pengetahuan
(C1)

Materi:

Kalimat Saran

Indikator :

Disajikan teks. Siswa dapat menyebutkan kalimat saran yang terdapat pada soal.

Bentuk Soal :

Pilihan Ganda

Rumusan Butir Soal

Nomor Soal

1

Kunci Jawaban

C

Berikut yang termasuk kalimat saran adalah

- A. Kamu selalu menghormati kedua orang tuamu
- B. kapan kamu menghormati orang tuamu
- C. Hormatilah kedua orang tuamu



KEMENTERIAN PENDIDIKAN DAN KEBUDAYAAN
KARTU SOAL
TAHUN PELAJARAN 2020/2021

PAKET

Jenis Sekolah : SEKOLAH DASAR
Mata Pelajaran : Bahasa Indonesia
Bahan Kelas : III (Tiga)

Nama Penyusun

FITRI NOVIYANTI, S.Pd.

Satuan Pendidikan

SDN Situjaya

Kompetensi Dasar :

3.1 Mencermati ungkapan atau kalimat saran, masukan, dan penyelesaian.

Level Kognitif :

Pengetahuan
(C1)

Materi:

Kalimat Saran

Indikator :

Disajikan teks. Siswa dapat menyebutkan kalimat saran yang terdapat pada soal.

Bentuk Soal :

Pilihan Ganda

Rumusan Butir Soal

Nomor Soal

2

Kunci Jawaban

A

Sebaiknya kamu mengenal dan berbuat baik dengan tetangga.
Kalima tersebut merupakan contoh dari

- A. Kalimat saran
- B. Kalimat ucapan terima kasih
- C. Kalimat perintah.



KEMENTERIAN PENDIDIKAN DAN KEBUDAYAAN
KARTU SOAL
TAHUN PELAJARAN 2020/2021

PAKET

Jenis Sekolah : SEKOLAH DASAR
Mata Pelajaran : SBdP
Bahan Kelas : III (Tiga)

Nama Penyusun
FITRI NOVIYANTI, S.Pd.

Satuan Pendidikan
SDN Situjaya

Kompetensi Dasar :

3.1 Mengetahui unsur-unsur rupa dalam karya dekoratif

Level Kognitif :

Pengetahuan
(C1)

Materi:

Karya dekoratif

Indikator :

Disajikan soal. Siswa dapat mengidentifikasi garis dan warna sebagai unsur karya dekoratif

Bentuk Soal :

Pilihan Ganda

Rumusan Butir Soal

Nomor Soal

3

Kunci Jawaban

A

Berikut ini merupakan contoh bentuk bangun datar, yaitu....

- A. kubus
- B. kerucut
- C. persegi Panjang



KEMENTERIAN PENDIDIKAN DAN KEBUDAYAAN
KARTU SOAL
TAHUN PELAJARAN 2020/2021

PAKET

Jenis Sekolah : SEKOLAH DASAR
Mata Pelajaran : Matematika
Bahan Kelas : III (Tiga)

Nama Penyusun
FITRI NOVIYANTI, S.Pd.

Satuan Pendidikan
SDN Situjaya

Kompetensi Dasar :

Menyatakan suatu bilangan sebagai jumlah, selisih, hasil kali, atau hasil bagi dua bilangan cacah

Level Kognitif :

Pengetahuan
(C4)

Materi:

Perkalian dua bilangan cacah yang hasilnya diketahui

Indikator :

Disajikan soal. Siswa dapat menemukan perkalian dua bilangan cacah yang hasilnya ditentukan sendiri.

Bentuk Soal :

Pilihan Ganda

Rumusan Butir Soal

Nomor Soal

5

Kunci Jawaban

B

Hasil perkalian dari 16×5 adalah

- A. 160
- B. 80
- C. 32



KEMENTERIAN PENDIDIKAN DAN KEBUDAYAAN
KARTU SOAL
TAHUN PELAJARAN 2020/2021

PAKET



Jenis Sekolah : SEKOLAH DASAR
Mata Pelajaran : Matematika
Bahan Kelas : III (Tiga)

Nama Penyusun

FITRI NOVIYANTI, S.Pd.

Satuan Pendidikan

SDN Situjaya

Kompetensi Dasar :

Menyatakan suatu bilangan sebagai jumlah, selisih, hasil kali, atau hasil bagi dua bilangan cacah

Level Kognitif :

Pengetahuan
(C4)

Materi:

Perkalian dua bilangan cacah yang hasilnya diketahui
Kalimat Saran

Indikator :

Disajikan soal. Siswa dapat menemukan perkalian dua bilangan cacah yang hasilnya ditentukan sendiri.

Bentuk Soal :

Pilihan Ganda

Rumusan Butir Soal

Nomor Soal

6

Kunci Jawaban

A

Mas Mamik memiliki 500 buah mangga. Apabila Mas Mamik berbagi buah mangga kepada lima orang tetangganya, dan banyaknya mangga yang diterima oleh masing-masing tetangga sama, maka masing-masing tetangga mendapatkan ... buah mangga.

- A. 100
- B. 500
- C. 50



KEMENTERIAN PENDIDIKAN DAN KEBUDAYAAN
KARTU SOAL
TAHUN PELAJARAN 2020/2021

PAKET

Jenis Sekolah : SEKOLAH DASAR
Mata Pelajaran : SBdP
Bahan Kelas : III (Tiga)

Nama Penyusun

FITRI NOVIYANTI, S.Pd.

Satuan Pendidikan

SDN Situjoya

Kompetensi Dasar :

3.1 Mengetahui unsur-unsur rupa dalam karya dekoratif

Level Kognitif :

Pengetahuan
(C3)

Materi:

Karya dekoratif

Indikator :

Disajikan soal. Siswa dapat mengidentifikasi garis dan warna sebagai unsur karya dekoratif

Bentuk Soal :

Pilihan Ganda

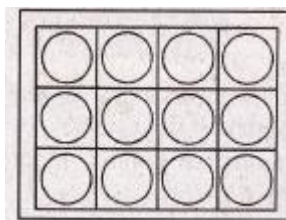
Rumusan Butir Soal

Nomor Soal

7

Kunci Jawaban


C



(1)



(2)



(3)

Perhatikan gambar tersebut.

Bidang lingkaran dan persegi ditunjukkan oleh gambar nomor

- A. no. 3
- B. no. 2
- C. no. 1



KEMENTERIAN PENDIDIKAN DAN KEBUDAYAAN
KARTU SOAL
TAHUN PELAJARAN 2020/2021

PAKET

Jenis Sekolah : SEKOLAH DASAR
Mata Pelajaran : Matematika
Bahan Kelas : III (Tiga)

Nama Penyusun
FITRI NOVIYANTI, S.Pd.

Satuan Pendidikan
SDN Situjaya

Kompetensi Dasar :

Menyatakan suatu bilangan sebagai jumlah, selisih, hasil kali, atau hasil bagi dua bilangan cacah

Level Kognitif :

Pengetahuan
(C1)

Materi:

Perkalian dua bilangan cacah yang hasilnya diketahui

Indikator :

Disajikan soal. Siswa dapat menemukan perkalian dua bilangan cacah yang hasilnya ditentukan sendiri.

Bentuk Soal :

Pilihan Ganda

Rumusan Butir Soal

Nomor Soal

8

Kunci Jawaban

B

Bu Ida membeli buku 350 buah buku. Sebagai kenang-kenangan, buku tersebut akan diberikan pada siswa-siswa kelas tiga sebanyak 35 orang. Setiap siswa akan menerima ... buku.

- A. 5
- B. 10
- C. 20



KEMENTERIAN PENDIDIKAN DAN KEBUDAYAAN
KARTU SOAL
TAHUN PELAJARAN 2020/2021

PAKET

Jenis Sekolah : SEKOLAH DASAR
Mata Pelajaran : SBdP
Bahan Kelas : III (Tiga)

Nama Penyusun
FITRI NOVIYANTI, S.Pd.

Satuan Pendidikan
SDN Situjaya

Kompetensi Dasar :

3.1 Mengetahui unsur-unsur rupa dalam karya dekoratif

Level Kognitif :
Pengetahuan
(C1)

Materi:

Karya dekoratif

Indikator :

Disajikan soal. Siswa dapat mengidentifikasi garis dan warna sebagai unsur karya dekoratif

Bentuk Soal :
Pilihan Ganda

Rumusan Butir Soal


Nomor Soal

9

Kunci Jawaban

A

Perhatikan gambar berikut!



Motif dekoratif yang ditunjukkan gambar tersebut adalah

- A. membuat pola segiempat
- B. membuat pola lingkaran
- C. menyiapkan alat



KEMENTERIAN PENDIDIKAN DAN KEBUDAYAAN
KARTU SOAL
TAHUN PELAJARAN 2020/2021

PAKET

Jenis Sekolah : SEKOLAH DASAR
Mata Pelajaran : Matematika
Bahan Kelas : III (Tiga)

Nama Penyusun
FITRI NOVIYANTI, S.Pd.

Satuan Pendidikan
SDN Situjaya

Kompetensi Dasar :

Menyatakan suatu bilangan sebagai jumlah, selisih, hasil kali, atau hasil bagi dua bilangan cacah

Level Kognitif :

Pengetahuan
(C3)

Materi:

Perkalian dua bilangan cacah yang hasilnya diketahui

Indikator :

Disajikan soal. Siswa dapat menentukan dua bilangan cacah yang hasil kalinya diketahui dengan tepat.

Bentuk Soal :

Pilihan Ganda

Rumusan Butir Soal

Nomor Soal

10

Kunci Jawaban

A

Pasangan bilangan berikut yang hasil perkaliannya 560 yaitu

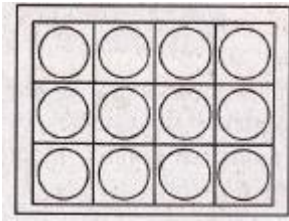
- A. 40 dan 14
- B. 28 dan 30
- C. 80 dan 70

LEMBAR EVALUASI

Nama :

Berilah tanda silang (x) pada huruf A, B, atau C di depan jawaban yang benar!


1. Berikut yang termasuk kalimat saran adalah
 - A. Kamu selalu menghormati kedua orang tuamu.
 - B. kapan kamu menghormati orang tuamu.
 - D. Hormatilah kedua orang tuamu.
2. Sebaiknya kamu mengenal dan berbuat baik dengan tetangga.
Kalimat tersebut merupakan contoh dari
 - A. Kalimat saran
 - B. Kalimat ucapan terima kasih
 - C. Kalimat perintah.
3. Berikut ini merupakan contoh bentuk bangun datar, yaitu
 - A. kubus
 - B. kerucut
 - C. persegi Panjang
4. Adi menghilangkan buku yang dia pinjam dari Edo. Dia merasa bingung apa yang harus dilakukan. Sebagai teman yang baik saranmu adalah
 - A. Sebaiknya kamu meminta maaf dan akan menggantinya
 - B. Sebaiknya kamu pura-pura tidak tahu bukunya hilang
 - C. Sebaiknya kamu diam saja.
5. Hasil perkalian dari 16×5 adalah
 - A. 160
 - B. 80
 - C. 32
6. Mas Mamik memiliki 500 buah mangga. Apabila Mas Mamik berbagi buah mangga kepada lima orang tetangganya, dan banyaknya manga yang diterima oleh masing-masing tetangga sama, maka masing-masing tetangga mendapatkan ... buah mangga.
 - A. 100
 - B. 500
 - C. 50



(1)



(2)



(3)

7. Perhatikan gambar tersebut.


Bidang lingkaran dan persegi ditunjukkan oleh gambar nomor

- a. no. 3
- b. no. 2
- c. no. 1

8. Bu Ida membeli buku 350 buah buku. Sebagai kenang-kenangan, buku tersebut akan diberikan pada siswa-siswa kelas tiga sebanyak 35 orang. Setiap siswa akan menerima ... buku.

- A. 5
- B. 10
- C. 20

9. . Perhatikan gambar berikut!



Motif dekoratif yang ditunjukkan gambar tersebut adalah

- A. membuat pola segiempat
- B. membuat pola lingkaran
- C. menyiapkan alat

10. Pasangan bilangan berikut yang hasil perkaliannya 560 yaitu

- A. 40 dan 14
- B. 28 dan 30
- C. 80 dan 70

**LAMPIRAN PENILAIAN
PENILAIAN KOGNITIF**

KUNCI JAWABAN			
1	C	6	A
2	A	7	C
3	A	8	B
4	A	9	A
5	B	10	A

PEDOMAN PENSKORAN	
NILAI= $\frac{\text{BANYAK SOAL DIJAWAB BENAR X 10}}{\text{SKOR TOTAL}} \times 100$	CONTOH= $\frac{(7 \times 10)}{100} \times 100 = 70$

PENILAIAN SIKAP

Lembar Penilaian Sikap

Bubuhkan tanda centang (✓) pada jawabanmu

No	Sikap yang diamati	Melaksanakan	
		Ya	Tidak
1.	Apakah saya berdoa sebelum dan sesudah melakukan kegiatan?		
2.	Saya suka mengeluh Ketika belajar		
3.	Saya mengerjakan sendiri tugas yang diberikan tanpa menjiplak tugas orang lain		
4.	Apakah saya selalu tidak berbohong?		

PENILAIAN KETERAMPILAN

Rubrik menulis saran

No.	Kriteria	Baik sekali	Baik	Cukup	Perlu Bimbingan
		4	3	2	1
1	Penulisan	Menggunakan kosa kata baru, kalimat efektif, kata tertulis dengan benar, , menggunakan tanda baca, tulisan jelas dan mudah terbaca.	Memenuhi tiga kriteria	Memenuhi 2 kriteria	Belum memenuhi kriteria
2	Isi	Menuliskan lima saran yang sesuai dengan pernyataan.	Menuliskan empat saran yang sesuai dengan pernyataan.	Menuliskan tiga saran yang sesuai dengan pernyataan.	Menuliskan dua saran yang sesuai dengan pernyataan atau kurang.

Rubrik membuat gambar dekoratif

No.	Kriteria	Baik sekali	Baik	Cukup	Perlu Bimbingan
		4	3	2	1
1	Kemampuan menggambar	Gambar memenuhi kertas gambar, bentuk dan kualitas garis baik, ukuran bagian-bagian gambar proporsional.	Hanya memenuhi dua aspek.	Hanya memenuhi satu aspek.	Tidak memenuhi kriteria.
2	Pewarnaan	Bervariasi, harmonis, rapi, penuh.	Memenuhi tiga kriteria	Memenuhi dua kriteria	Memenuhi satu kriteria.
3.	Sikap tanggung jawab	Berinisiatif, komitmen pada tugas sampai selesai, menjaga kerapian, bersemangat.	Memenuhi tiga kriteria	Memenuhi dua kriteria.	Memenuhi satu kriteria.