



**KISI-KISI EVALUASI PEMBELAJARAN
TEMA 5 SUBTEMA 1 PB 3**

Jenjang Pendidikan : SD
Muatan Pelajaran : IPA, Bahasa Indonesia
Kurikulum : 2013
Kelas : VI
Jumlah Soal : 6
Bentuk Soal : 6 PG

A. PENILAIAN PENGETAHUAN

NO		KOMPETENSI DASAR	MATERI	INDIKATOR SOAL	LEVEL KOGNITIF	NO SOAL	BUTIR SOAL	BENTUK SOAL	KUNCI JAWABAN
1	3.5	Mengidentifikasi sifat-sifat magnet dalam kehidupan sehari-hari.	Sifat-sifat Magnet	Disajikan gambar untuk menganalisis sifat-sifat magnet	L3	1	 <p>Dari gambar diatas sifat magnet yang tepat adalah...</p> <p>a. Magnet dapat menarik benda tertentu b. Kutub senama tolak menolak c. Kutub tidak senama Tarik menarik d. Memiliki dua buah kutub</p>	PG	a

NO		KOMPETENSI DASAR	MATERI	INDIKATOR SOAL	LEVEL KOGNITIF	NO SOAL	BUTIR SOAL	BENTUK SOAL	KUNCI JAWABAN
						4	1. Pensil 2. Kertas 3. Peniti 4. Pulpen Benda yang dapat ditarik magnet adalah.. a. Pensil dan kertas b. Pulpen dan peniti c. Pulpen dan kertas d. peniti	PG	d
2.	3.6	Menggali isi teks penjelasan (eksplanasi) Mencermati petunjuk dan isi teks formulir (pendaftaran, kartu anggota, pengiriman uang melalui bank/kantor pos, daftar riwayat hidup, dsb.)	Teks formulir	Disajikan gambar teks formulir untuk dianalisis komponen, tujuan dan manfaatnya	L3	5	 <p>Yang bukan komponen dari teks formulir diatas adalah...</p> a. nama b. alamat c. warna kulit d. jenis kelamin	PG	C
						6	petunjuk pengisian formulir yang benar adalah.. a. isilah formulir dengan nama panggilan b. tulislah alamat secara lengkap c. isilah formulir dengan huruf kecil d. tanda tangan tidak perlu disertai nama lengkap	PG	b

**EVALUASI PEMBELAJARAN
KELAS 6 TEMA 5 SUBTEMA 1 PB 3**

NAMA :
NO. ABSEN :
KELAS :

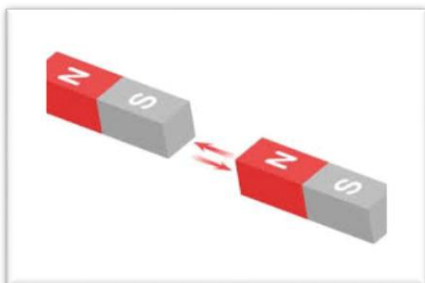
<https://quizizz.com/join?gc=38807152>

3 8 8 0 7 1 5 2


Pilihlah jawaban yang tepat dengan memberikan tanda sialng (X) pada huruf A, B, C, atau D!



1. Dari gambar diatas sifat magnet yang tepat adalah...
 - a. Magnet dapat menarik benda tertentu
 - b. Kutub senama tolak menolak
 - c. Kutub tidak senama Tarik menarik
 - d. Memiliki dua buah kutub



2. Dari gambar diatas sifat magnet yang tepat adalah...
 - a. Magnet dapat menarik benda tertentu
 - b. Kutub senama tolak menolak
 - c. Kutub tidak senama Tarik menarik
 - d. Memiliki dua buah kutub



3. Dari gambar diatas sifat magnet yang tepat adalah...
 - a. Magnet dapat menarik benda tertentu
 - b. Kutub senama tolak menolak
 - c. Kutub tidak senama Tarik menarik
 - d. Memiliki dua buah kutub

- Pensil
 - Kertas
 - Peniti
 - Pulpen
4. Benda yang dapat ditarik magnet adalah..
- a. Pensil dan kertas
 - b. Pulpen dan peniti
 - c. Pulpen dan kertas
 - d. peniti

**KLUB SAHABAT PENA
SISWA-SISWI NEGARA ASEAN**

Nama lengkap : _____

Tempat/tanggal lahir : _____

Kebangsaan : _____

Jenis kelamin : _____

Kelas : _____

Alamat sekarang : _____

Kode pos: _____

Telepon rumah : _____

Sekolah : _____

Alamat sekolah : _____

Kode pos: _____

Telepon sekolah : _____

Hobi : _____

Tujuan menjadi anggota :

.....

.....

.....

(.....)

Tanda tangan dan nama jelas

5. Yang bukan komponen dari teks formulir diatas adalah...
- a. nama
 - b. alamat
 - c. warna kulit
 - d. jenis kelamin
6. petunjuk pengisian formulir yang benar adalah..
- a. isilah formulir dengan nama panggilan
 - b. tulislah alamat secara lengkap
 - c. isilah formulir dengan huruf kecil
- tanda tangan tidak perlu disertai nama lengkap

No Soal	Skor
1	1
2	1
3	1
4	1
5	1
6	1
<i>Skor maksimal</i>	6

Pendoman Penskoran

$$\text{Nilai} = \frac{\text{Skor yang diperoleh}}{\text{Total skor maksimal}} \times 100$$

B. Penilaian Sikap

Kisi-Kisi Indikator Penilaian Sikap

No	Indikator	Level Kognitif
1	Menunjukkan sikap tanggung jawab dalam mengerjakan tugas	A5
2	Menunjukkan sikap santun dalam berkata baik lisan maupun tulisan	A5
3	Menunjukkan sikap percaya diri dalam mengemukakan pendapat	A5
4	Menunjukkan sikap disiplin dalam mengikuti kegiatan	A5

Lembar Observasi

No	Nama Peserta Didik	SIKAP				Skor Rata-rata
		Tanggung Jawab	Santun	Percaya Diri	Disiplin	
1						
2						
3						
4						
dst						

Kolom Aspek sikap diisi dengan angka yang sesuai dengan kriteria berikut.

- 4 = sangat baik
- 3 = baik
- 2 = cukup
- 1 = kurang

C. Penilaian Keterampilan

- 4.5 Membuat laporan hasil percobaan tentang sifat-sifat magnet dan penerapannya dalam kehidupan sehari-hari.

Laporan hasil percobaan dinilai dengan daftar periksa.

No	Indikator	Ya	Tidak	Catatan
1	Siswa dapat menuliskan tujuan percobaan dengan benar			
2	Siswa dapat menuliskan alat dan bahan secara lengkap			
3	Siswa dapat menuliskan langkah-langkah percobaan dengan runtut			
4	Siswa dapat menuliskan hasil percobaan dengan benar			
5	Siswa dapat menuliskan kesimpulan dengan benar			

- 4.6 Mengisi teks formulir (pendaftaran, kartu anggota, pengiriman uang melalui bank/kantor pos, daftar riwayat hidup, dll.) sesuai petunjuk pengisiannya.

2. Bahasa Indonesia

Jawaban siswa tentang teks formulir dinilai dengan daftar periksa.

No	Indikator	Ya	Tidak	Catatan
1	Siswa dapat menuliskan alasan pentingnya sebuah petunjuk dalam pengisian formulir.			
2	Siswa menuliskan informasi penting yang perlu dicantumkan dalam formulir pendaftaran.			
3	Siswa menuliskan alasan mengapa alamat harus dicantumkan secara lengkap ketika mengisi formulir pendaftaran.			
4	Siswa menuliskan apa yang terjadi jika alamat tidak lengkap.			
5	Siswa menuliskan mengapa kita perlu mencantumkan kode pos di bagian alamat ketika mengisi formulir.			

