

RENCANA PELAKSANAAN PEMBELAJARAN

Satuan Pendidikan : SDN 244 Guruminda
Kelas / Semester : 5 /II
Mata Pelajaran : Matematika
Materi Pokok : Jaring-Jaring Kubus dan Balok
Alokasi waktu : 1 Hari

A. TUJUAN PEMBELAJARAN

Dipandu melalui WA dengan mengamati video tentang “Jaring-Jaring Kubus dan Balok” siswa kelas 5 dapat mengidentifikasi jaring-jaring balok dan kubus dengan baik dan benar


B. KEGIATAN PEMBELAJARAN

Kegiatan	Deskripsi Kegiatan	Alokasi Waktu
Pendahuluan	<ol style="list-style-type: none">Berdoa masing-masing setelah dipandu pada grup WAMembaca slide tentang petunjuk pembelajaran yang akan dilakukan	5 menit
Inti	<ol style="list-style-type: none">Siswa mengamati video tentang “ Jaring-Jaring Kubus dan Balok”Siswa diberi kesempatan untuk bertanya jika ada yang belum dipahamiSiswa mengerjakan soal latihan tentang jaring-jaring kubus dan balok dengan mengunduh dan mengprint file soal yang telah dibagikanSiswa memfotokan hasil pengerjaannya ke WA grup sebagai bukti kehadirannyaGuru memberi umpan balik terhadap tugas siswa yang telah dikirimkan	110 menit
Penutup	<ol style="list-style-type: none">Siswa dengan bimbingan guru menyimpulkan materi pembelajaran yang telah dilakukanGuru melakukan refleksi kepada siswa selama pembelajaranGuru merekap nama siswa yang telah mengirimkan tugasnyaSiswa berdoa	5 menit


C. Penilaian

Teknik penilaian pengetahuan (terlampir)

Mengetahui,
Kepala SDN 244 Guruminda


Nunung Nurlaila, S.Pd, M.M.Pd
NIP.196805042003122007

Bandung, 13 April 2021
Guru Model


Nunung Nurlaila, S.Pd, M.M.Pd
NIP.196805042003122007



Penilaian

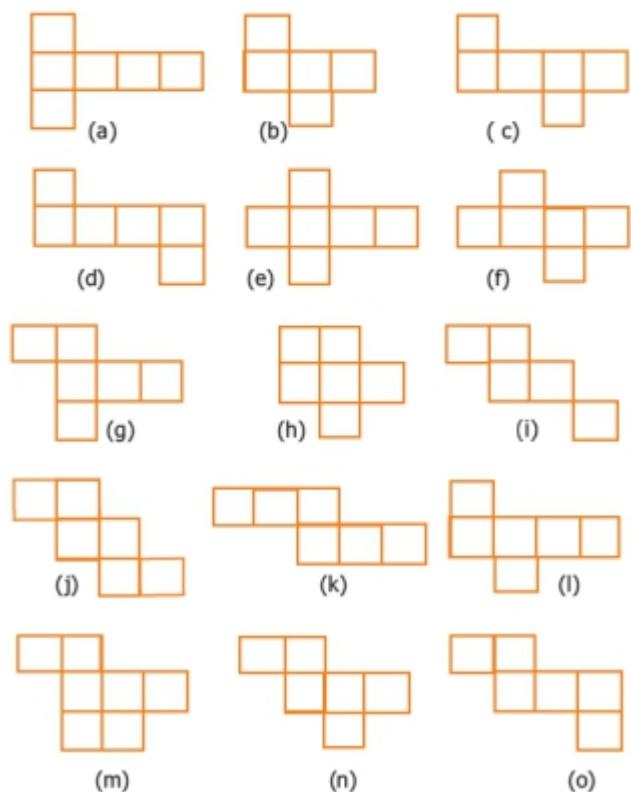
Prosedur penilaian : tes

Teknik penilaian : tertulis

Alat tes : soal

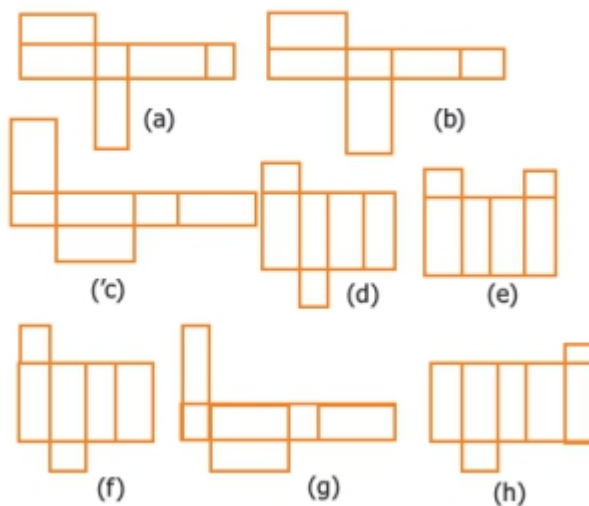
NAMA :
KELAS 5

Tentukan gambar berikut yang merupakan jaring-jaring kubus!



Perhatikan gambar berikut!

Di antara jaring-jaring di bawah ini, manakah yang membentuk balok?



Penskoran

Nomor soal (kubus)	Kunci jawaban	skor
a,c,d,,ef,g,j,k,l,n,o	benar	1 x 11 =11
b,h,i,m	salah	1 x 4 = 4
Jumlah skor soal kubus		15

Nomor soal (balok)	Kunci jawaban	skor
a,b,c,g	benar	1 x 4 =4
d,e,f,h	salah	1 x 4 = 4
Jumlah skor soal balok		8

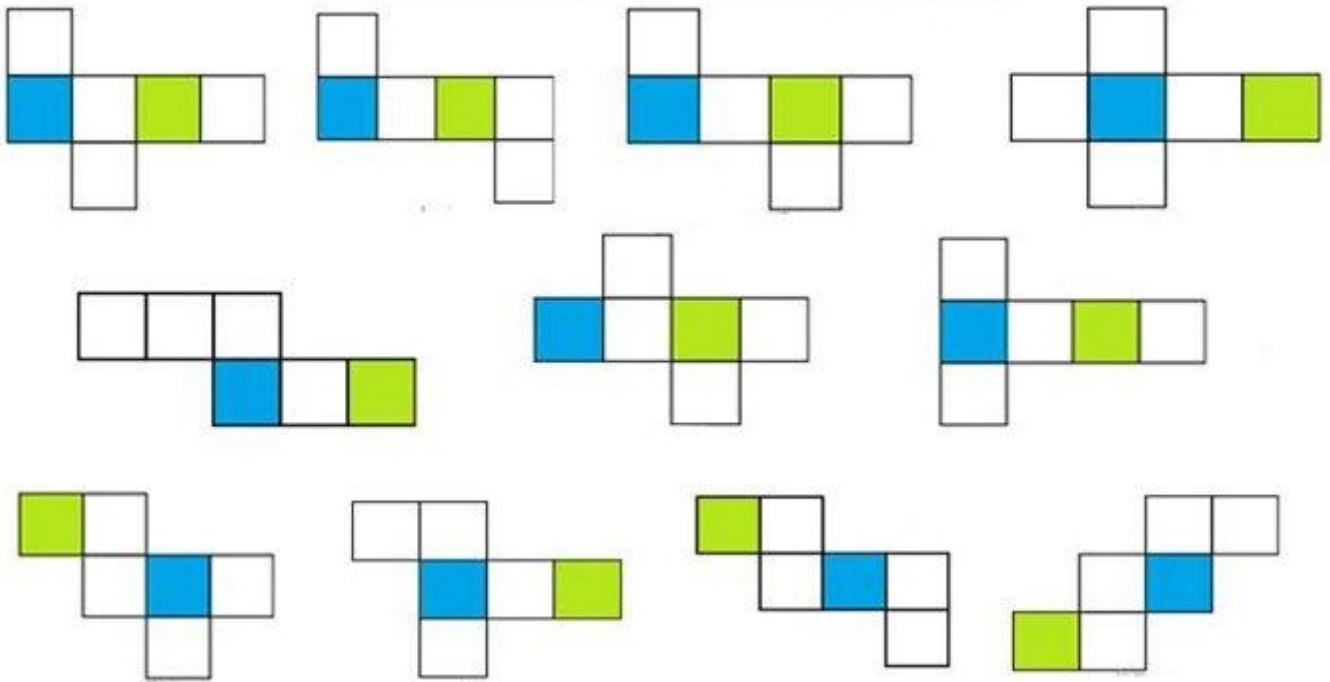
NA ADALAH $\frac{Jumlah\ Skor\ Kubus + Jumlah\ Skor\ Balok}{23} \times 100$

$$\frac{15 + 8}{23} \times 100 = 100$$

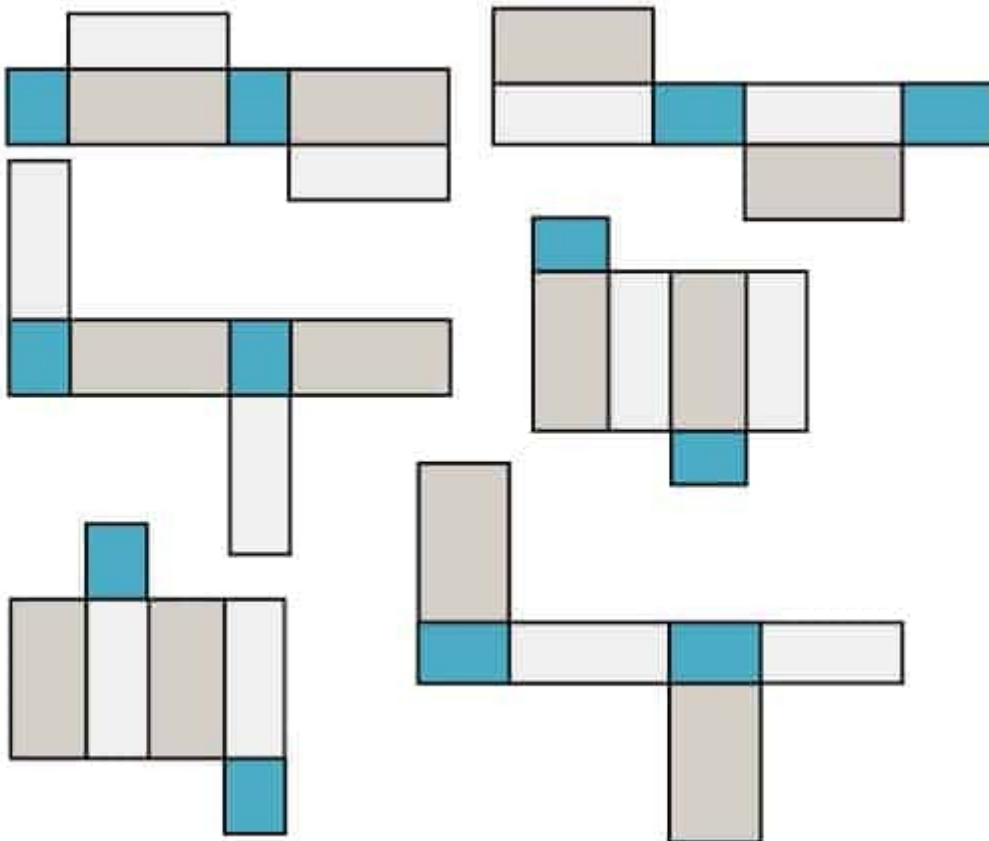
Materi : Jaring-Jaring Balok dan Kubus

Jaring-jaring adalah sisi yang direntangkan mengikuti rusuk-rusuknya

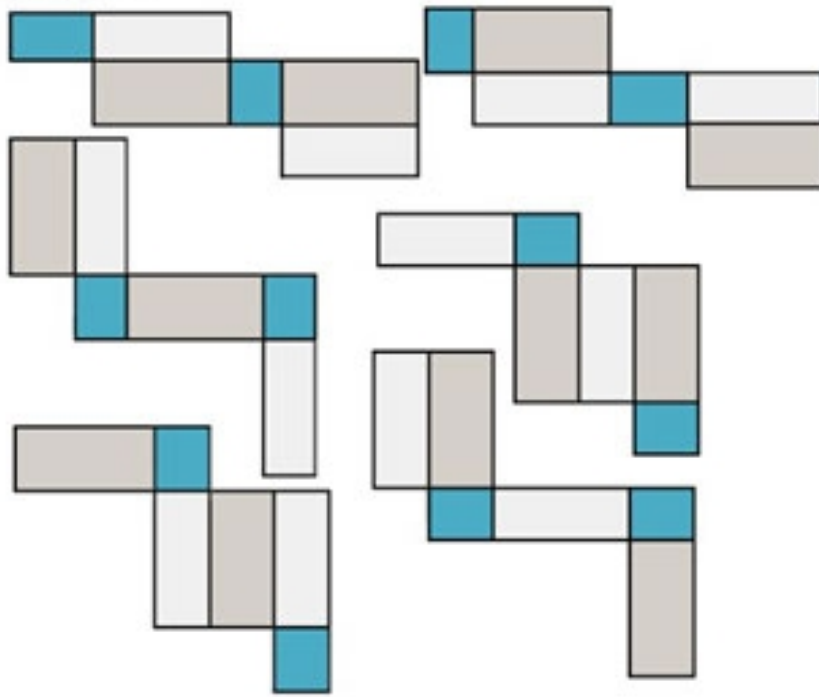
POLA GAMBAR JARING KUBUS



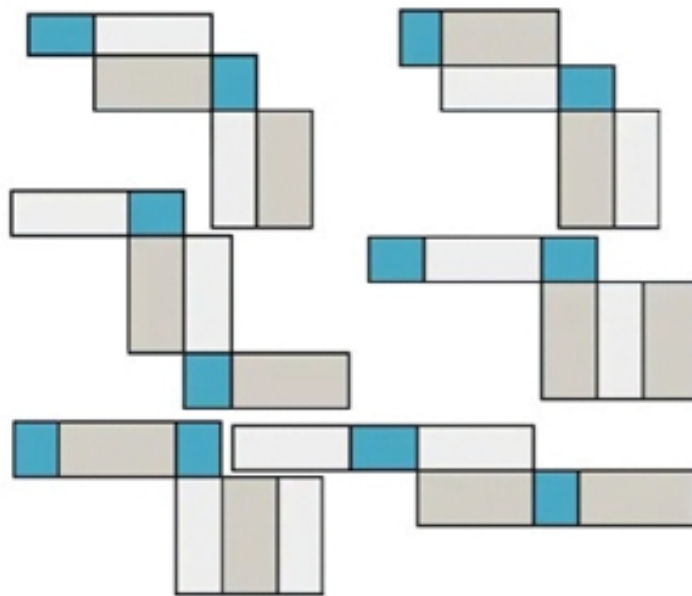
balok 1



Jaring-jaring balok 3



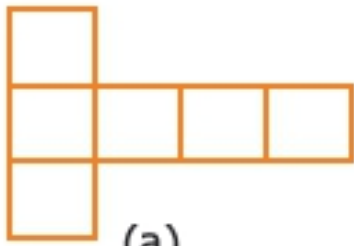
Gambar balok 6



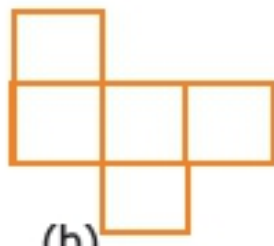
NAMA :

KELAS 5

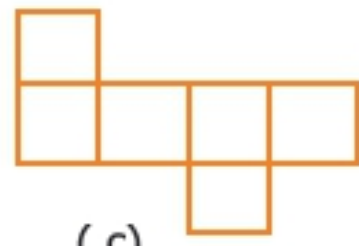
Tentukan gambar berikut yang merupakan jaring-jaring kubus!



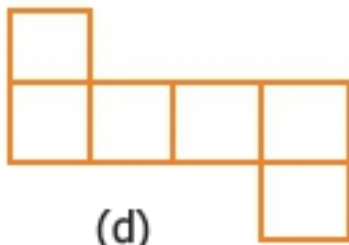
(a)



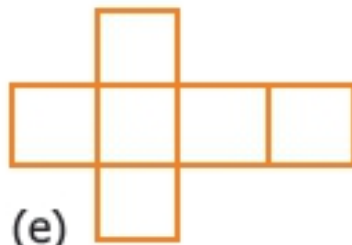
(b)



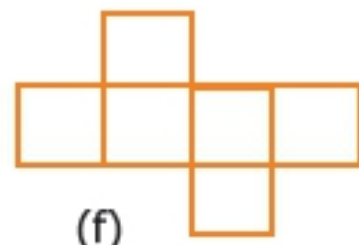
(c)



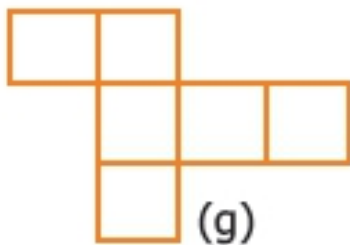
(d)



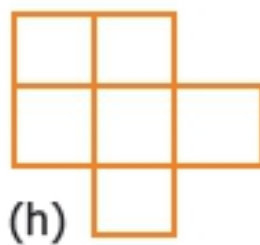
(e)



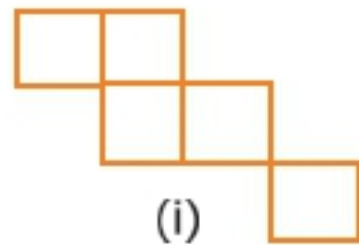
(f)



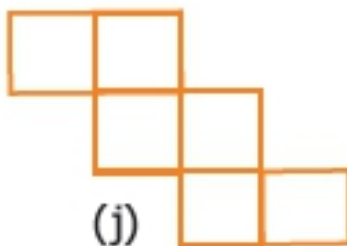
(g)



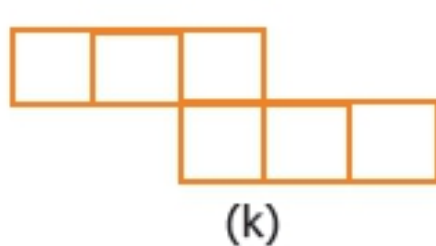
(h)



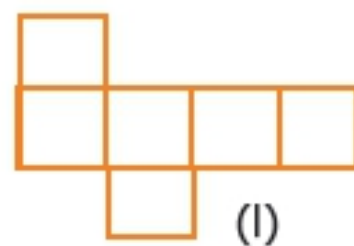
(i)



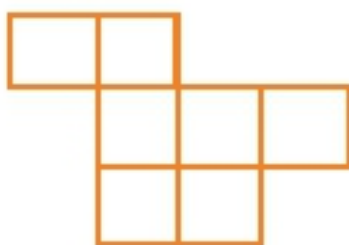
(j)



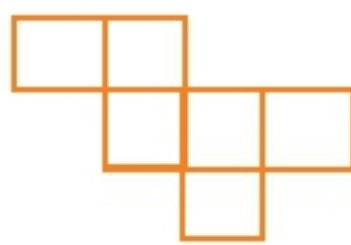
(k)



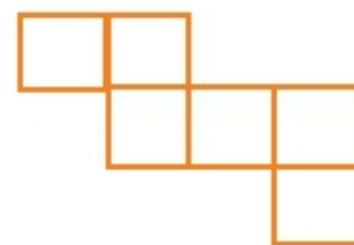
(l)



(m)



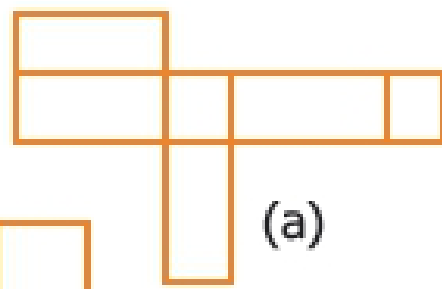
(n)



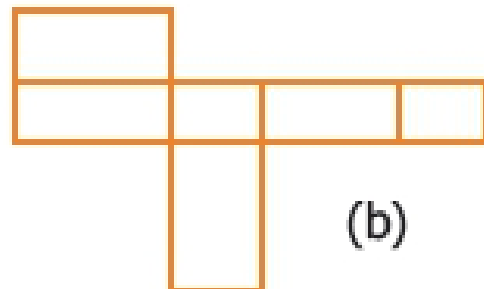
(o)

Perhatikan gambar berikut!

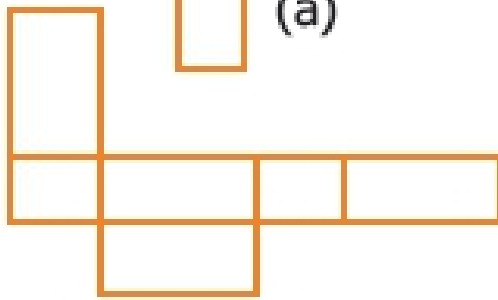
Di antara jaring-jaring di bawah ini, manakah yang membentuk balok?



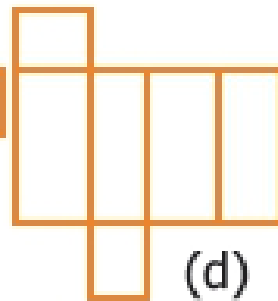
(a)



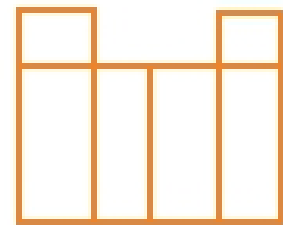
(b)



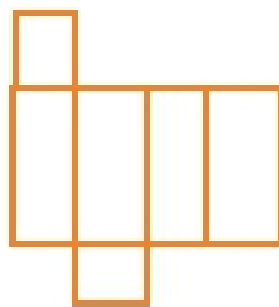
(c)



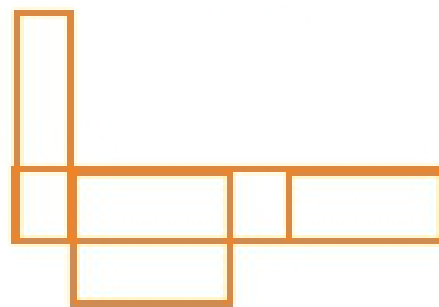
(d)



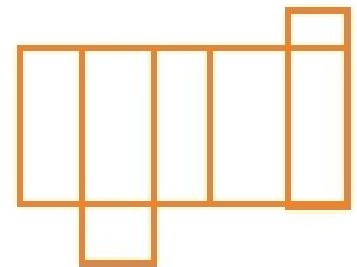
(e)



(f)



(g)



(h)