

## Kisi-Kisi Soal

Tema/Sub Tema : 3. Kegiatanku / 3. Kegiatan Sore Hari

Kelas/Semester : I (Satu) / 1

Pembelajaran ke : 5 (Matematika, Bahasa Indonesia)

N O	Mapel	Kompetensi Dasar	Materi	Indikator Soal	Level Kognitif	Bentuk Soal	Nomor Soal
1.	Matematika	3.3 Membandingkan dua bilangan sampai dua angka dengan menggunakan kumpulan benda-benda konkret	<ul style="list-style-type: none"> <li>Perbandingan dua bilangan</li> </ul>	Disajikan gambar, siswa dapat menganalisis banyak benda dengan benar	C4	Pilihan ganda	1
				Disajikan teks, siswa dapat mengidentifikasi banyak benda dengan benar	C4	Pilihan ganda	2
				Disajikan gambar, siswa dapat mengidentifikasi perbandingan dua benda dengan benar	C4	Pilihan ganda	3
2.	B. Indonesia	3.7 Menentukan kosakata yang berkaitan dengan peristiwa siang dan malam melalui teks pendek (gambar, tulisan, dan/atau syair lagu) dan/atau eksplorasi lingkungan.	<ul style="list-style-type: none"> <li>Kosakata tentang kegiatan sore hari</li> </ul>	Disajikan teks, siswa dapat Menyusun kata yang berhubungan dengan kegiatan sore hari dengan benar	C4	Pilihan ganda	4
				Disajikan gambar, siswa dapat mengidentifikasi kegiatan yang dilakukan pada waktu sore hari dengan benar	C4	Pilihan ganda	5

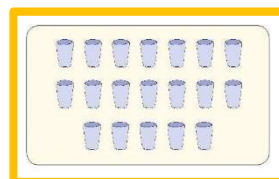
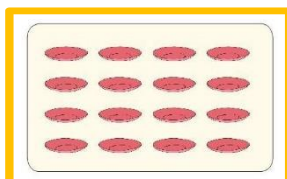
## SOAL EVALUASI MELALUI GOOGLE FORM

<https://docs.google.com/forms/d/1eCDH8BevHfK0FATiYu14bq1ZWAoiUh7RJVI4GtdhDOU/edit>

Penilaian Kelas 1

Tema 3 Subtema 3 Pembelajaran ke 5

Pilihlah jawaban yang paling tepat dengan cara menyilang pada pilihan jawaban a, b, atau c pada lembar yang telah disediakan.



1.

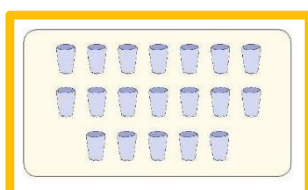
Dari gambar diatas, benda manakah yang jumlahnya lebih banyak ? ....

- a. Mangkok
- b. Piring
- c. Gelas

2. Beni punya 15 kelereng. Edo punya 10 kelereng. Jadi, 15 ..... dari 10.

- a. Kurang dari
- b. Sama banyak
- c. Lebih dari

3.



Dari gambar di atas benda manakah yang jumlahnya lebih sedikit? ....

- a. Mangkok
- b. Piring
- c. Gelas

4. matahari – terbenam - barat -sebelah-di  
Susunan yang tepat kata-kata di atas adalah ...

- a. Matahari sebelah terbenam barat di
- b. Matahari terbenam di sebelah barat
- c. Barat terbenam di sebelah matahari



5.

Dari gambar di atas, gambar manakah yang menunjukkan kegiatan yang dilakukan pada waktu sore?...

- a. Siti dan teman-temannya berangkat sekolah
- b. Siti dan teman-temannya pulang sekolah
- c. Lani dan rina sedang bermain, sementara Siti menyiram bunga

**Kunci jawaban :**

1. C
2. C
3. A
4. B
5. C

**Pedoman Penskoran Tematik**

Jenis Soal	Jumlah Soal	Bobot Skor per nomor	Skor total
Pilihan ganda	5	20	100
Total	5		100

Nilai Tematik:  $\frac{\text{Perolehan Nilai}}{\text{Skor Maksimal}} \times 100$

**LEMBAR REKAP PENILAIAN PENGETAHUAN**

No	Nama	Tematik
1.		
2.		
3.		
4.		
5.		
6.		
Nilai Rata-rata		
Nilai Maksimum		
Nilai Minimum		

