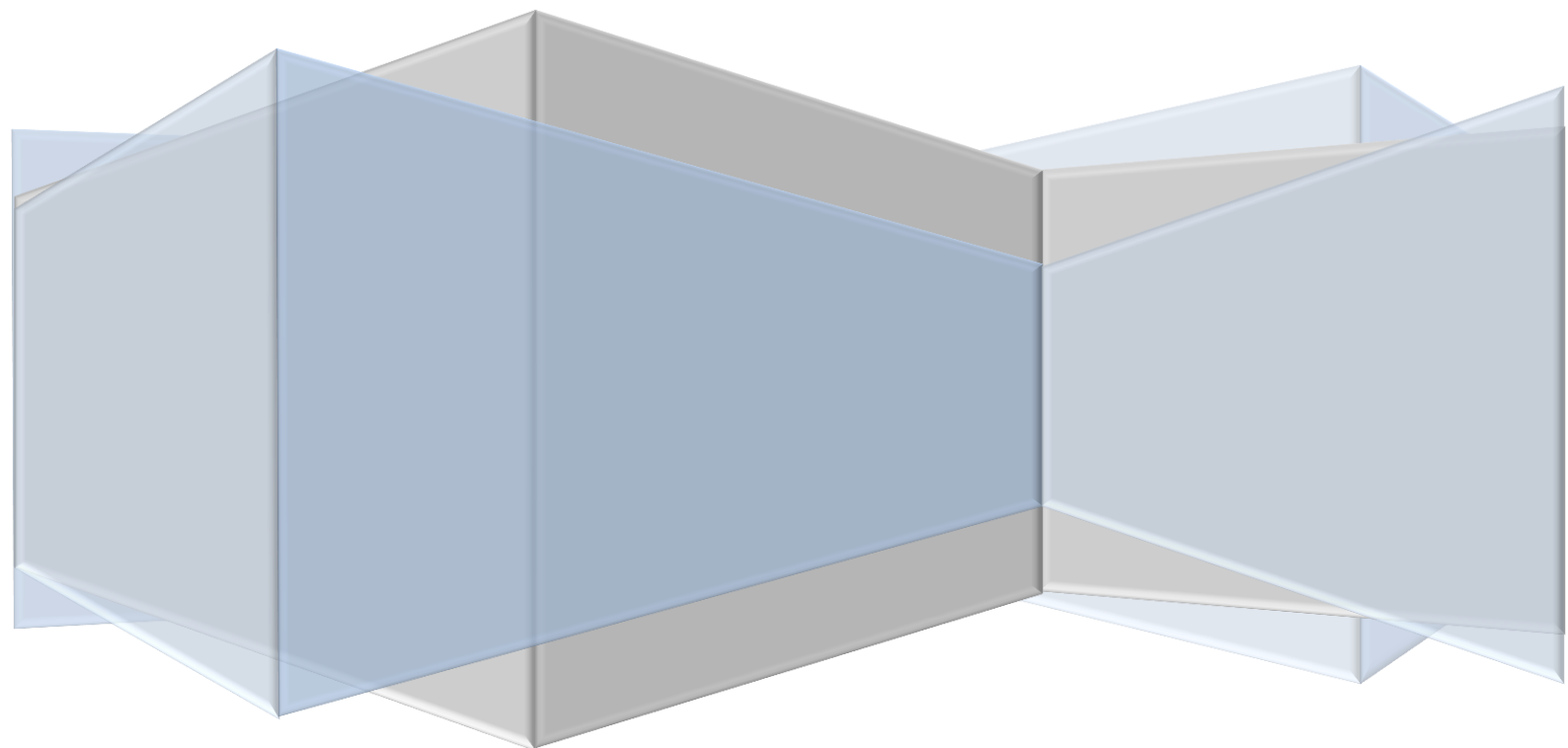


EVALUASI PEMBELAJARAN

KELAS 3

KELAS 3 TEMA 3 “BENDA DI SEKITARKU”

SUBTEMA 2 “WUJUD BENDA” PEMBELAJARAN 2



A. PENILAIAN SIKAP (AFEKTIF)

PENILAIAN DIRI

Nama :
No. Absen :
Kelas :
Semester :



Petunjuk

Berilah tanda centang (v) pada kolom “Ya” atau “Tidak” sesuai dengan keadaan yang sebenarnya !

NO.	PERNYATAAN	YA	TIDAK
1.	Saya selalu berdoa sebelum melakukan aktivitas.		
2.	Saya tidak mengganggu teman yang beragama lain ketika berdoa sesuai agamanya.		
3.	Saya berani mengakui kesalahan saya.		
4.	Saya menyelesaikan tugas-tugas tepat waktu.		
5.	Saya menghargai pendapat orang lain		
6.	Saya mengembalikan barang yang saya pinjam.		
7.	Saya meminta maaf jika saya melakukan kesalahan.		
8.	Saya datang ke sekolah tepat waktu.		
9.	Saya mencium tangan orangtua sebelum berangkat sekolah		
10.	Saya menghormati teman yang berbeda pendapat		

Tampilan screenshot google form penilaian afektif :

docs.google.com/forms/d/e/1FAIpQLSe12zB59NfiAY4CPC3oinM7R2MAZmHH4VPOg-Vxalgm2ytlg/viewform?vc=0&c=0&w=1&ftr=0&gxids=762B



PENILAIAN AFEKTIF (SIKAP)

PENILAIAN DIRI
***Wajib**

Nama *
Jawaban Anda

Kelas *
Jawaban Anda

Nomor Absen *
Jawaban Anda

Activate Windows
Go to Settings to activate Windows

docs.google.com/forms/d/e/1FAIpQLSe12zB59NfiAY4CPC3oinM7R2MAZmHH4VPOg-Vxalgm2ytlg/viewform?vc=0&c=0&w=1&ftr=0&gxids=762B

Saya selalu berdoa sebelum melakukan aktivitas *
 YA
 TIDAK

Saya tidak mengganggu teman yang beragama lain ketika berdoa sesuai agamanya *
 YA
 TIDAK

Saya berani mengakui kesalahan saya *
 YA
 TIDAK

Saya menyelesaikan tugas-tugas tepat waktu *
 YA
 TIDAK

Activate Windows
Go to Settings to activate Windows

docs.google.com/forms/d/e/1FAIpQLSe12zB59NfiAY4CPC3oinM7R2MAZmHH4VPOg-Vxalgm2ytlg/viewform?vc=0&c=0&w=1&ftr=0&gxids=762B

Saya menghargai pendapat orang lain *
 YA
 TIDAK

Saya mengembalikan barang yang saya pinjam *
 YA
 TIDAK

Saya meminta maaf jika saya melakukan kesalahan *
 YA
 TIDAK

Saya datang ke sekolah tepat waktu *
 YA
 TIDAK

Activate Windows
Go to Settings to activate Windows

docs.google.com/forms/d/e/1FAIpQLSe12zBS9NfiAY4CPC3oinM7R2MAZrnHH4VPOg-Vxalgm2tylg/viewform?vc=0&c=0&w=1&flr=0&gxids=7628

Saya datang ke sekolah tepat waktu *

YA

TIDAK

Saya mencium tangan orangtua sebelum berangkat sekolah *

YA

TIDAK

Saya menghormati teman yang berbeda pendapat *

YA

TIDAK

Kirim Halaman 1 dari 1

Jangan pernah mengirimkan sandi melalui Google Formulir.

Konten ini tidak dibuat atau didukung oleh Google. [Laporkan Penyalahgunaan](#) - [Persyaratan Layanan](#) - [Kebijakan Privasi](#)

Google Formulir

Activate Windows
Go to Settings to activate Windows

Link pengisian penilaian afektif (penilaian diri) ada pada link google form berikut :

<https://docs.google.com/forms/d/e/1FAIpQLSe12zBS9NfiAY4CPC3oinM7R2MAZrnHH4VPOg-Vxalgm2tylg/viewform?vc=0&c=0&w=1&flr=0&gxids=7628>

B. PENILAIAN PENGETAHUAN (KOGNITIF)

TES TERTULIS



Petunjuk

Pilihlah salah satu jawaban pada pilihan a, b, c, atau d dengan benar !

PPKn KD 3.1.1

1. Lambang negara Indonesia adalah berupa...

- a. Burung Elang
- b. Burung Cendrawasih
- c. Burung Garuda
- d. Burung Jalak



2. Lambang sila pada gambar disamping merupakan lambang sila ke

- a. Sila 1
- b. Sila 2
- c. Sila 3
- d. Sila 5

3. Sila "Ketuhanan Yang Maha Esa" dilambangkan dengan lambang...



a.



c.



b.



d.

4. Lambang sila berupa "Kepala banteng" terdapat pada sila ke....

- a. Sila ke 2
- b. Sila ke 3
- c. Sila ke 4
- d. Sila ke 5

5. Contoh pengamalan dari sila ketiga yang berbunyi "Persatuan Indonesia" adalah...
- Menghormati orang yang berbeda agama
 - Membantu orang yang sedang tertimpa musibah
 - Melakukan musyawarah dalam pemilihan ketua kelas
 - Mencintai barang-barang buatan dalam negeri

Bahasa Indonesia KD 3.1.1

6. Benda yang mempunyai sifat keras seperti

- Kayu
- Karet
- Air
- Tanah liat



7. Sifat-sifat benda dari gambar disamping, **kecuali...**

- Mengalir dari tempat yang tinggi ke tempat yang terendah
- Bentuk benda selalu sama
- Dapat melewati celah-celah kecil
- Bentuk benda sesuai wadahnya

8. Sifat benda yang dapat menempati ruang dan menekan ke segala arah adalah sifat dari jenis benda...

- Batu
- Gas
- Cair
- Padat

9.



Benda di samping memiliki sifat...

- Bentuknya selalu sama
- Mengalir dari tempat yang tinggi ke tempat yang rendah
- Menekan ke segala arah
- Melewati celah-celah kecil

10. Perhatikan benda-benda berikut !



Dari benda-benda di atas, manakah yang memiliki sifat bentuknya menyesuaikan wadahnya...

- 1 dan 2
- 3 dan 4
- 1 dan 3
- 2 dan 4

Tampilan screenshott penilaian kognitif pada QUIZZ :

The screenshot shows the QUIZZ interface. At the top, there is a navigation bar with the QUIZZ logo, a search bar, and user information. The main content area displays the quiz title "Penilaian Pengetahuan Kelas 3 Tema 3 Subtema 2 Pb 2" and the creator's name "ani hour ago by ululazmif_57195". Below the title, there are buttons for "Mulai kuis langsung" and "Berikan pekerjaan rumah". The first question is displayed: "Q. Lambang negara Indonesia adalah berupa...". The interface also includes a sidebar with navigation options and a right-hand panel with an advertisement for "Remove distracting ads".

This screenshot shows the second and third questions of the quiz. The second question is: "Q. Lambang sila pada gambar disamping merupakan lambang sila ke", accompanied by an image of a green and gold symbol. The third question is: "Q. Sila 'Ketuhanan Yang Maha Esa' dilambangkan dengan lambang...", accompanied by four images representing different symbols: a yellow star on a black background, a red and white striped banner, a red bull head, and a green tree. The interface elements are consistent with the previous screenshot.

This screenshot shows the fourth and fifth questions of the quiz. The fourth question is: "Q. Lambang sila berupa 'Kepala banteng' terdapat pada sila ke...", with four radio button options: "Sila ke-2", "Sila ke-3", "Sila ke-4", and "Sila ke-5". The fifth question is: "Q. Contoh pengamalan dari sila ketiga yang berbunyi 'Persatuan Indonesia' adalah...", with four radio button options: "Menghormati orang yang berbeda agama", "Membantu orang yang sedang tertimpa musibah", "Melakukan musyawarah dalam pemilihan ketua kelas", and "Menggunakan barang-barang buatan dalam negeri". The interface elements are consistent with the previous screenshots.

QUIZIZZ Cari Perpustakaan k... Pelajaran baru Enter Code

Ulul Fauzi Rencana: Dasar

Tingkatkan ke Super

Buat

Cari Perpustakaanku Hasil Pengaturan Lebih

Mulai kuis langsung Berikan pekerjaan rumah

Pertanyaan 6 60 detik


Q. Benda yang mempunyai sifat keras seperti

Pilihan jawaban

- Kayu
- Air
- Karet
- Tanah liat

Pertanyaan 7 60 detik

Q. Sifat-sifat benda dari gambar disamping, **kecuali...**



Pilihan jawaban

- Mengalir dari tempat yang tinggi ke tempat yang terendah
- Dapat melewati celah-celah kecil
- Bentuk benda selalu sama
- Bentuk benda sesuai wadahnya

Remove distracting ads. Get rid of ads and unlock great new features with Super! Go Super!

Hilangkan iklan

Activate Windows Go to Settings to activate Windows.

QUIZIZZ Cari Perpustakaan k... Pelajaran baru Enter Code

Ulul Fauzi Rencana: Dasar

Tingkatkan ke Super

Buat

Cari Perpustakaanku Hasil Pengaturan Lebih

Mulai kuis langsung Berikan pekerjaan rumah

Pertanyaan 8 60 detik


Q. Sifat benda yang dapat menempati ruang dan menekan ke segala arah adalah sifat dari jenis benda...

Pilihan jawaban

- Batu
- Cair
- Gas
- Padat

Pertanyaan 9 60 detik

Q. Benda di samping memiliki sifat...



Pilihan jawaban

- Bentuknya selalu sama jika ditempatkan dimana saja
- Menekan ke segala arah
- Mengalir dari tempat yang tinggi ke tempat yang rendah
- Dapat melewati celah-celah kecil

Remove distracting ads. Get rid of ads and unlock great new features with Super! Go Super!

Hilangkan iklan

Activate Windows Go to Settings to activate Windows.

QUIZIZZ Cari Perpustakaan k... Pelajaran baru Enter Code

Ulul Fauzi Rencana: Dasar

Tingkatkan ke Super


Buat

Cari Perpustakaanku Hasil Pengaturan Lebih

Mulai kuis langsung Berikan pekerjaan rumah

Pertanyaan 10 30 detik





Q. Dari benda-benda di samping, manakah yang memiliki sifat bentuknya menyesuaikan wadahnya...



Pilihan jawaban

- 1 dan 2
- 1 dan 3
- 3 dan 4
- 2 dan 4

Quiz yang mungkin anda sukai

-  The Muscular System 2.6k plays Science - 7th 19 Qs
-  Joints 1.5k plays 12 Qs
-  Tissues 1.5k plays 18 Qs
-  Skeletal, Muscular, Integumentary 14.9k plays 20 Qs

Remove distracting ads. Get rid of ads and unlock great new features with Super! Go Super!

Hilangkan iklan

Activate Windows Go to Settings to activate Windows.

Pengisian penilaian kognitif dapat di akses melalui link QUIZZ berikut :

<https://quizizz.com/join?gc=61131344>

RUBRIK PENILAIAN KOGNITIF

JAWABAN BENAR	JAWABAN SALAH
1	0

Nilai = Skor perolehan x 100

10

KUNCI JAWABAN :

1. C	6. A
2. D	7. B
3. A	8. B
4. C	9. A
5. D	10. D

C. PENILAIAN KETERAMPILAN (PSIKOMOTOR)

Penilaian Unjuk Kerja (Praktik)



Petunjuk

PPKn 4.1.1

1. Siapkanlah alat dan bahan yang sudah diperlukan !
2. Lakukanlah presentasi tentang arti lambang garuda pancasila dengan alat dan bahan yang tersedia dengan durasi 5 menit !

Alat dan bahan :

- a. Kertas karton
- b. Styrofoam
- c. 5 Gambar sila pancasila
- d. Lem kertas

RUBRIK PENILAIAN

Aspek Penilaian	Nilai				Jumlah
	1	2	3	4	
Menyiapkan alat dan bahan yang diperlukan					4
Melakukan presentasi kesesuaian arti lambang garuda pancasila					5
Jumlah					9

No.	Indikator	Rubrik
1	Menyiapkan alat dan bahan yang diperlukan	4 = menyiapkan seluruh (4) alat dan bahan yang diperlukan 3 = menyiapkan 3 alat dan bahan yang diperlukan 2 = menyiapkan 2 alat dan bahan yang diperlukan 1 = menyiapkan 1 alat dan bahan yang diperlukan 0 = tidak menyiapkan alat dan bahan
2	Melakukan presentasi kesesuaian arti lambang garuda pancasila	5 = mampu mempresentasikan arti seluruh (5) lambang sila pada garuda pancasila dengan tepat 4 = mampu mempresentasikan arti 4 lambang sila pada garuda pancasila dengan tepat 3 = mampu mempresentasikan arti 3 lambang sila pada garuda pancasila dengan tepat 2 = mampu mempresentasikan arti 2 lambang sila pada garuda pancasila dengan tepat

		1 = mampu mempresentasikan arti 1) lambang sila pada garuda pancasila dengan tepat 0 = tidak mampu mempresentasikan arti lambang garuda pancasila
--	--	--

Nilai = $\frac{\text{Skor perolehan}}{9} \times 100$

9

Petunjuk



Bahasa Indonesia 4.1.1

1. Siapkanlah alat dan bahan yang sudah diperlukan !
2. Lakukanlah unjuk kerja dengan mengikuti langkah-langkah yang tersedia !
3. Amati hasil dari percobaan yang dilakukan !

Alat dan bahan :

- a. Pensil
- b. Air
- c. Balon
- d. Gelas
- e. Meja

RUBRIK PENILAIAN

Aspek Penilaian	Nilai				Jumlah
	1	2	3	4	
Menyiapkan alat dan bahan yang diperlukan					5
Melakukan unjuk kerja pembuktian sifat-sifat benda berdasarkan langkah-langkah yang tersedia					4
Jumlah					9

Langkah-langkah kerja :

1. Siapkan alat dan bahan kegiatan berupa pensil, air, balon, dan gelas
2. Tempatkan pensil di atas meja
3. Tuangkan air dalam gelas
4. Tiup balon sampai besar

No.	Indikator	Rubrik
1	Menyiapkan alat dan bahan yang diperlukan	5 = menyiapkan seluruh (5) alat dan bahan yang diperlukan 4 = menyiapkan 4 alat dan bahan yang diperlukan 3 = menyiapkan 3 alat dan bahan yang diperlukan 2 = menyiapkan 2 alat dan bahan yang diperlukan 1 = menyiapkan 1 alat dan bahan yang diperlukan 0 = tidak menyiapkan alat dan bahan
2	Melakukan unjuk kerja pembuktian sifat-sifat benda berdasarkan langkah-langkah yang tersedia	4 = mampu melakukan 4 langkah kerja dengan tepat 3 = mampu melakukan 3 langkah kerja dengan tepat 2 = mampu melakukan 2 langkah kerja dengan tepat 1 = mampu melakukan 1 langkah kerja dengan tepat 0 = tidak mampu melakukan langkah kerja

Nilai = Skor perolehan x 100