

EVALUASI PEMBELAJARAN

TEMATIK kelas

3

TEMA 3 BENDA DI SEKITARKU
Subtema 2 Wujud Benda
Pembelajaran 6

Semester 1

Evi Susanti, S.Pd.

A. PENILAIAN SIKAP (AFEKTIF)

PENILAIAN DIRI

NAMA :

NO ABSEN :

KELAS :

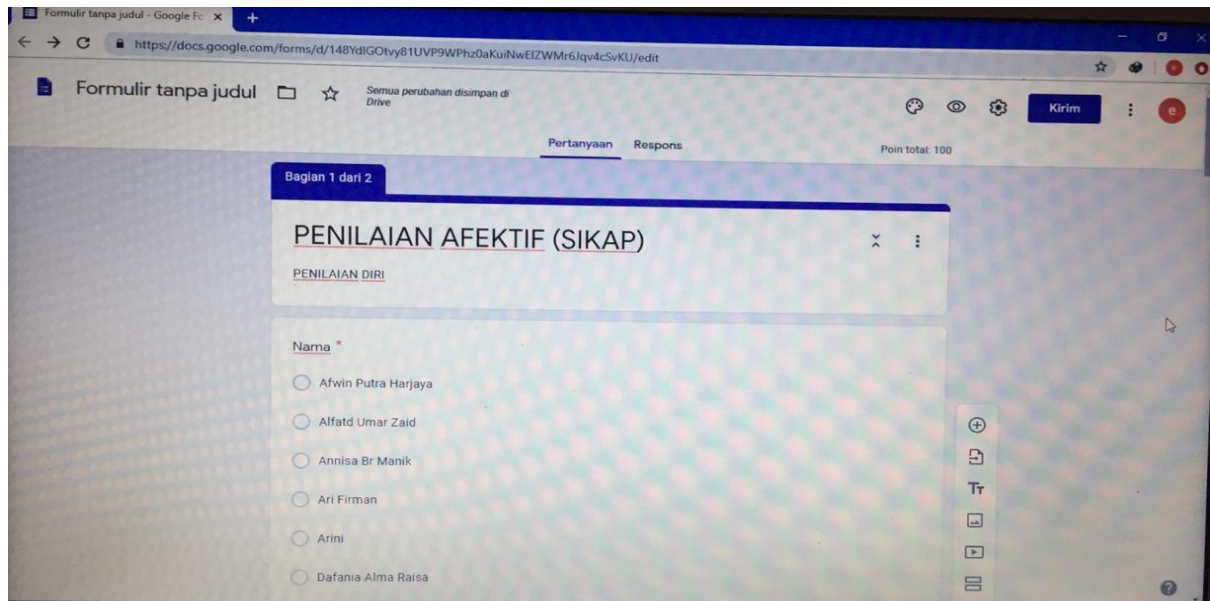
SEMESTER :

Petunjuk

Berilah tanda centang (✓) pada kolom “Ya” atau “Tidak” sesuai dengan keadaan yang sebenarnya !

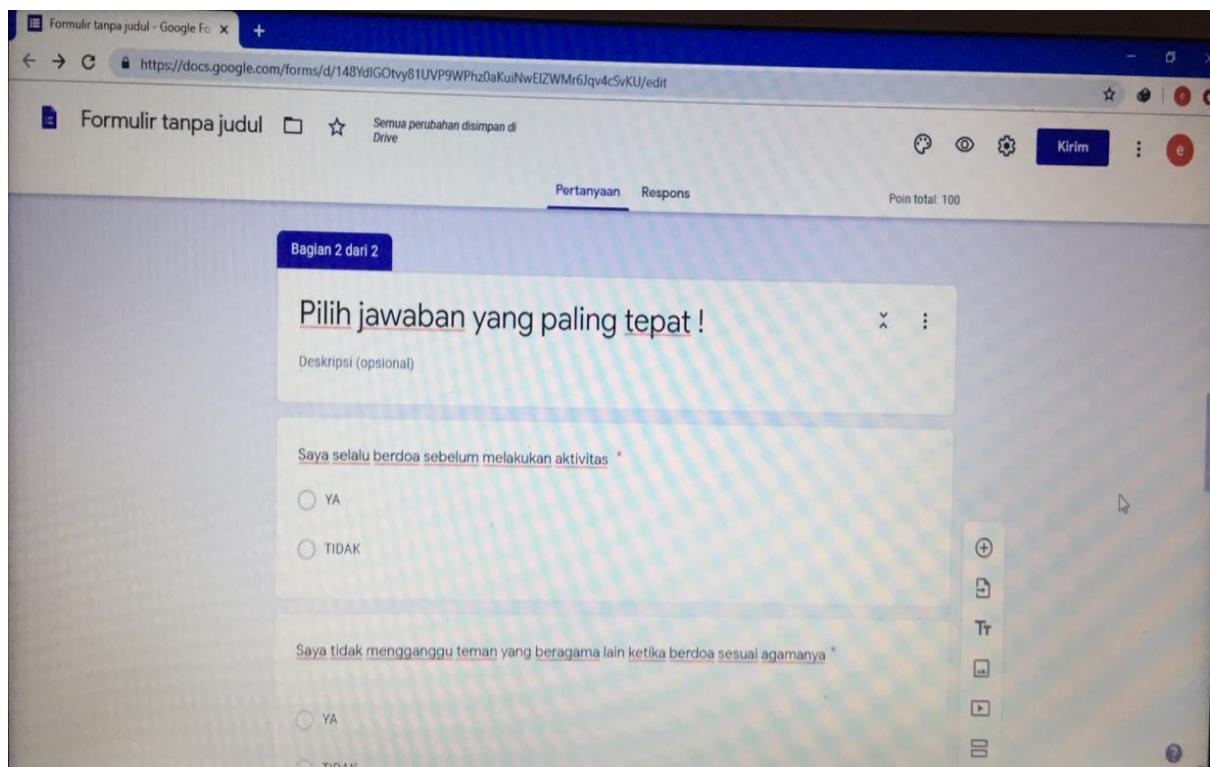
NO.	PERNYATAAN	YA	TIDAK
1.	Saya selalu berdoa sebelum melakukan aktivitas.		
2.	Saya tidak mengganggu teman yang beragama lain ketika berdoa sesuai agamanya.		
3.	Saya berani mengakui kesalahan saya.		
4.	Saya menyelesaikan tugas-tugas tepat waktu.		
5.	Saya menghargai pendapat orang lain		
6.	Saya mengembalikan barang yang saya pinjam.		
7.	Saya meminta maaf jika saya melakukan kesalahan.		
8.	Saya datang ke sekolah tepat waktu.		
9.	Saya mencium tangan orangtua sebelum berangkat Sekolah		
10.	Saya menghormati teman yang berbeda pendapat		

Tampilan screenshot google form penilaian afektif :



The screenshot shows a Google Form titled "PENILAIAN AFEKTIF (SIKAP)" with a sub-section "PENILAIAN DIRI". The form is titled "Bagian 1 dari 2". The question is "Nama *". The options are:

- Afwin Putra Harjaya
- Alfatd Umar Zaid
- Annisa Br Manik
- Ari Firman
- Arini
- Dafania Alma Raisa



The screenshot shows a Google Form titled "Pilih jawaban yang paling tepat !" with a sub-section "Bagian 2 dari 2". The question is "Saya selalu berdoa sebelum melakukan aktivitas *". The options are:

- YA
- TIDAK

The next question is "Saya tidak mengganggu teman yang beragama lain ketika berdoa sesuai agamanya *". The options are:

- YA
- TIDAK

Link pengisian penilaian afektif (penilaian diri) ada pada link google form berikut :

<https://forms.gle/4LhwDrTQnNYVmCu29>

B. PENILAIAN PENGETAHUAN (KOGNITIF)

TES TERTULIS



Petunjuk

Pilihlah salah satu jawaban pada pilihan a, b, c, atau d dengan benar !

Bahasa Indonesia KD 3.1

- Berikut ini adalah sifat benda padat, kecuali..
 - Bentuknya tetap walaupun wadahnya berbeda
 - Dapat digenggam
 - Bentuknya berubah mengikuti wadah
 - Volume-nya tetap sekalipun berpindah wadah
- Berikut ini adalah sifat benda cair, kecuali
 - Dapat digenggam
 - Tidak dapat di genggam
 - Bentuknya mengikuti wadah
 - volume dan massa tetap walaupun berpindah tempat
- Sifat dari benda padat antara lain adalah
 - Memiliki bentuk dan volume yang tetap
 - Bentuknya berubah sesuai tempatnya
 - Bentuknya kasar dan licin
 - Volume-nya berubah sesuai permukaan
- Wujud benda yang dapat berubah sesuai tempatnya adalah ...
 - Benda cair dan gas
 - Benda padat dan gas
 - Benda cair saja
 - Benda cair dan padat
- Benda di bawah ini yang bisa berubah bentuk sesuai tempatnya adalah
 - Kayu dan kaca
 - Emas dan perak
 - Air dan minyak
 - Pasir dan batu

PPKn KD 3.1

- Para warga desa Tambakromo semangat gotong royong membangun jembatan. Kegiatan gotong royong tersebut bisa membuat warga menjadi
 - Saling bersaing
 - Bermusuhan
 - Semakin rukun
 - Saling bertengkar

7. Contoh kegiatan gotong royong yang baik dilakukan di sekolah seperti
- Saling mencontek saat ulangan
 - Bekerja sama mencoret-coret tembok sekolah
 - Berkelahi dengan siswa kelas lain
 - Kerja bakti membersihkan lingkungan sekolah
8. Gotong-royong adalah salah satu sikap yang dimiliki bangsa Indonesia, dengan gotong royong pekerjaan yang berat akan terasa
- Semakin berat
 - Lebih lama
 - Lebih ringan
 - Biasa saja
9. Ayah Andi selalu berpesan agar ia bisa selalu hidup sederhana. Hidup sederhana adalah menjalani hidup dengan sesuai kebutuhan. Contoh dari hidup sederhana seperti
- Tidak suka memberi bantuan kepada orang lain
 - Tidak berlebihan menggunakan uang yang dimiliki
 - Memakai pakaian yang lusuh dan kotor
 - Selalu menabung setiap hari
10. Dengan membiasakan hidup sederhana sejak dini, kita bisa mencegah diri kita mempunyai sifat
- Boros
 - Rendah hati
 - Selalu bersyukur
 - Peduli

Matematika KD 3.7

11. Kain adalah salah satu benda padat yang banyak dimanfaatkan manusia untuk membuat
- Perhiasan
 - Bahan makan an
 - Bahan bangunan
 - Pakaian
12. Benda padat di bawah yang banyak dimanfaatkan manusia untuk dibuat peralatan memasak adalah
- Karet
 - Kertas
 - Kaca
 - Logam



13. Timbangan di atas bisa digunakan dengan mudah untuk mengukur massa dari
- Bayi
 - Telur

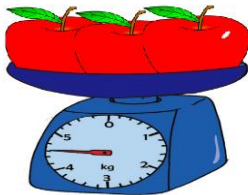
- c. Sekarung beras
- d. Perhiasan



14.

Benda di atas sering digunakan untuk mengukur massa emas dan perhiasan lainnya. Benda di atas dinamakan

- a. Neraca pegas
- b. Neraca digital
- c. Neraca sama lengan
- d. Neraca gantung

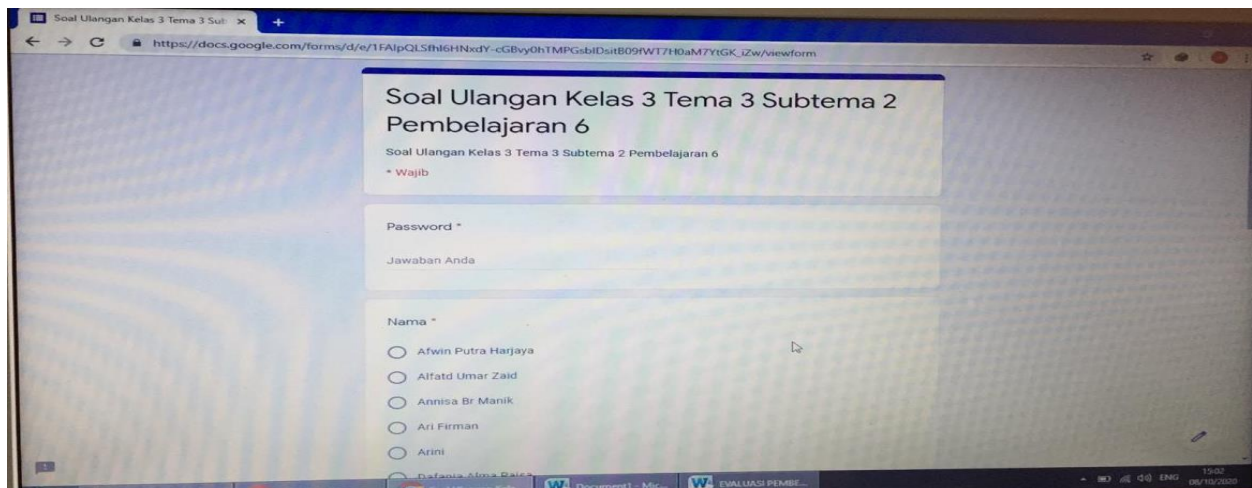


15.

Massa buah apel di atas adalah

- a. 4 kg 6 gram
- b. 4 kg 60 gram
- c. 4 kg 30 gram
- d. 4 kg 600 gram

Tampilan screenshott penilaian kognitif pada google form :



Pengisian penilaian kognitif dapat di akses melalui link google form berikut :

<https://forms.gle/X9W4cSqpaxa5UgkxF6>

RUBRIK PENILAIAN KOGNITIF

JAWABAN BENAR	JAWABAN SALAH
1	0

Nilai = $\frac{\text{Skor perolehan} \times 100}{15}$

15

KUNCI JAWABAN :

1	C
2	A
3	A
4	A
5	C
6	C
7	D
8	C
9	B
10	A
11	D
12	D
13	B
14	C
15	D

C. PENILAIAN KETERAMPILAN (PSIKOMOTOR)

Penilaian Unjuk Kerja (Praktik)



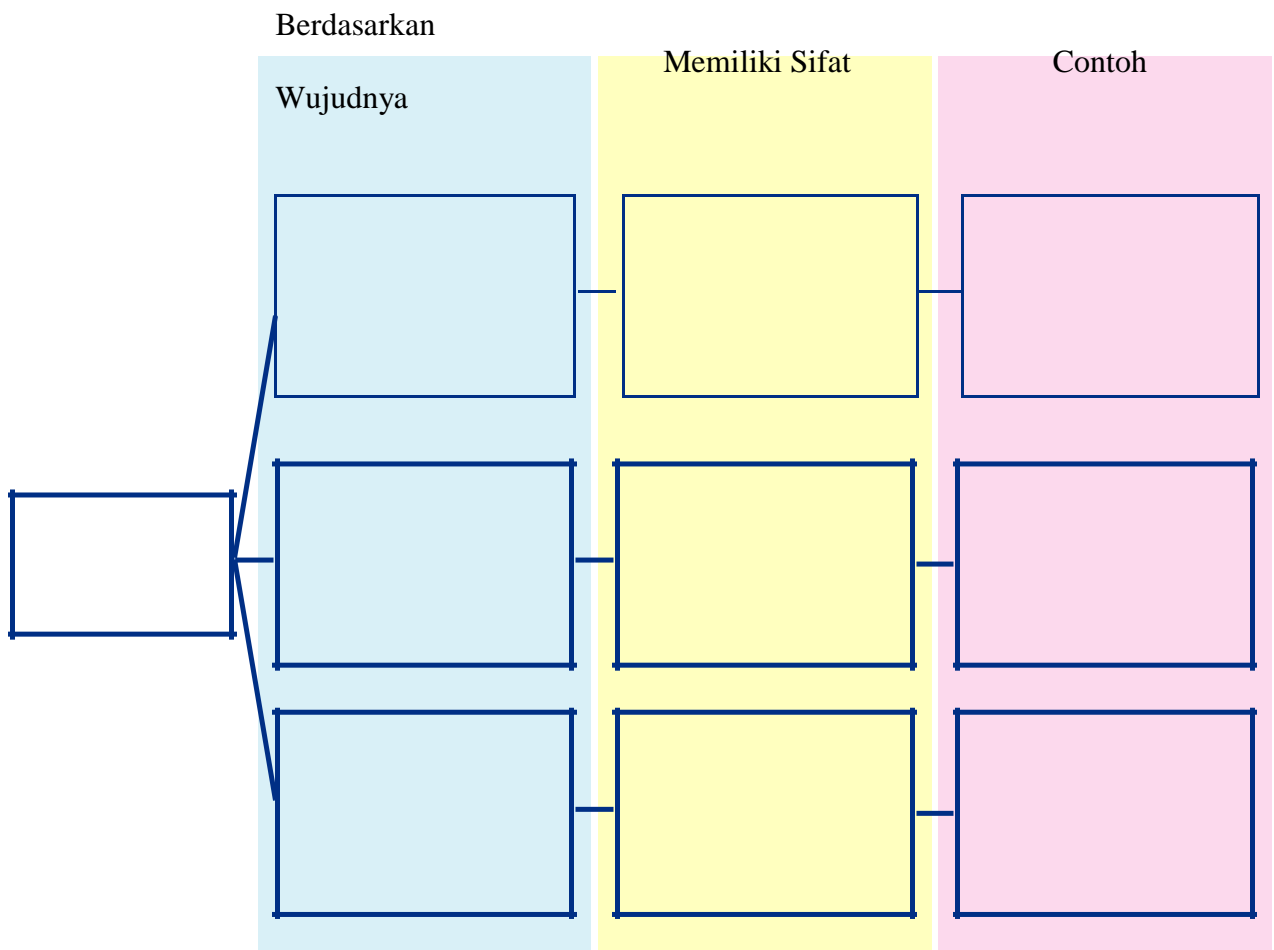
Petunjuk

Bahasa Indonesia 4.1.1

Aneka Wujud Benda sebagai Anugerah Tuhan

Benda diciptakan Tuhan dengan beraneka ragam wujudnya. Pernahkah kamu membayangkan jika wujud benda hanya satu? Apa yang akan terjadi?

Setiap benda mempunyai sifat dan fungsinya masing-masing. Kamu telah mempelajari benda dan sifatnya. Coba lengkapilah bagan berikut ini.



Jawaban:

Benda: Padat

Memiliki sifat: bentuk tetap

Contoh: meja, kursi dan batu

Benda: Cair

Memiliki sifat: mengikuti bentuk wadahnya

Contoh: air, kecap dan minyak

Benda: Gas

Memiliki sifat: mengikuti bentuk wadahnya

Contoh: udara, asap, oksigen

(Ubah ke dalam bentuk bagan.)

PPKn 4.1.1

Lani sering membantu ayahnya menjaga toko. Lani membantu ayah menimbang bahan-bahan makanan.

Orang tua Lani cukup berada. Namun, Lani anak yang sederhana. Hidup sederhana adalah hidup yang sesuai dengan kebutuhan. Hidup yang tidak berlebihan dalam menggunakan harta.

Diskusikan dengan teman di kelompokmu! Lingkari kata-kata berikut yang sesuai dengan hidup sederhana.



Jelaskan pilihanmu!

Mengapa sikap sederhana penting diterapkan dalam kehidupan sehari-hari? Tuliskan pendapatmu!

Jawaban:

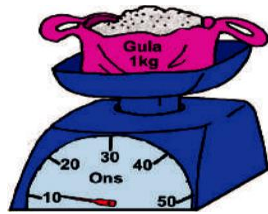
Hidup sederhana membawa banyak manfaat bagi manusia.

Dengan hidup sederhana, kita dapat belajar untuk selalu rendah hati, cermat dan juga disiplin.

Kebutuhan hidup akan tercukupi dan hati juga tenang.

Matematika 4.7.1

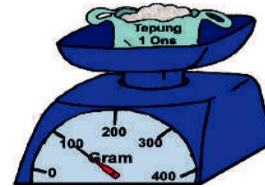
Lakukanlah percobaan berikut! Percobaan menimbang dengan timbangan kue! Perhatikan berat benda 1 kg dan 1.000 gram! Apakah benda tersebut menunjukkan berat yang sama?



Gambar 1



Gambar 2



Gambar 3

Perhatikan gambar di atas!

Gambar 1 menunjukkan bahwa 1 kg sama dengan 10 ons

Gambar 2 menunjukkan bahwa 1 kg sama dengan 1.000 gram

Gambar 3 menunjukkan bahwa 1 ons sama dengan 100 gram

Tentukanlah satuan berat yang tepat!

1. Berat badan Udin adalah 30
2. Ibu membeli telur seberat 1
3. Berat cincin ibu adalah 3
4. Gula pasir yang dibutuhkan untuk membuat kue adalah 250
5. Ibu memerlukan bawang seberat 100 untuk memasak.

Jawaban:

1. Berat badan Udin adalah 30 kg

2. Ibu membeli telur seberat 1 kg

3. Berat cincin ibu adalah 3 gram

4. Gula pasir yang dibutuhkan untuk membuat kue adalah 250 gram

5. Ibu memerlukan bawang seberat 100 gram untuk memasak.

Rubrik Penilaian:

JAWABAN BENAR	JAWABAN SALAH
1	0

Nilai = Skor perolehan x 100

5