

## RENCANA PELAKSANAAN (RPP)


Satuan Pendidikan	: SDN 01 Suruh
Kelas / Semester	: II (Dua) / 1 (Satu)
Tema	: Hidup Bersih dan Sehat (Tema 4)
Sub Tema	: Hidup Bersih dan Sehat di Sekolah (Sub Tema 2)
Pembelajaran ke	: 4
Muatan Pelajaran Terpadu	: Bahasa Indonesia (KD 3.4,4.4) dan Matematika (KD 3.11,4.11)
Alokasi Waktu	: 10 Menit


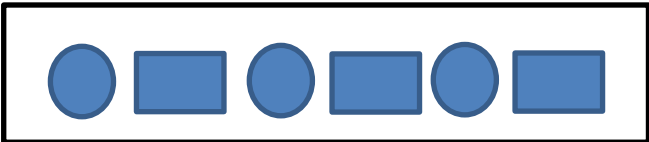
---

### A. TUJUAN PEMBELAJARAN

1. Dengan kegiatan membaca, siswa dapat menyebutkan isi teks pendek yang berkaitan dengan lingkungan tidak sehat dengan tepat.
2. Dengan mengamati gambar/vidio, siswa dapat menuliskan laporan sederhana dari hasil pengamatan tentang lingkungan tidak sehat dengan benar.
3. Melalui tanya jawab, siswa dapat menentukan bentuk bangun datar pada urutan berikutnya berdasarkan pola secara benar.
4. Dengan mengamati gambar bangun datar, siswa dapat membuat bentuk bangun datar pada urutan berikutnya berdasarkan pola secara benar.

### B. KEGIATAN PEMBELAJARAN

Kegiatan	Deskripsi Kegiatan	Alokasi Waktu
<b>Kegiatan Pendahuluan</b>	<ol style="list-style-type: none"><li>1. Melakukan pembukaan dengan senyum salam, menyapa anak dan menanyakan kabar anak dan dilanjutkan dengan membaca do'a</li><li>2. Guru mengecek kehadiran siswa,dengan mengisi absen</li><li>3. Mengaitkan materi sebelumnya dengan materi yang akan dipelajari</li><li>4. Guru menyampaikan tujuan pembelajaran hari ini,</li><li>5. Menyanyikan lagu"<b>Hidup Bersih dan Sehat</b>".Agar terbiasa hidup bersih dan sehat dalam kehidupan sehari-hari.</li></ol>	2 Menit
<b>Kegiatan Inti</b>	<p><b>Ayo Membaca</b></p> <ol style="list-style-type: none"><li>1. Siswa membaca nyaring teks yang terdapat di buku siswa halaman 79, yang berjudul "<b>Aku Malu Punya Pekarangan Sekolah yang Kotor</b>".</li><li>2. Bertanya jawab tentang isi teks yang berhubungan dengan ciri-ciri lingkungan tidak sehat. .</li></ol>  <p><b>Ayo Mengamati</b></p> <ol style="list-style-type: none"><li>3. Siswa mengamati gambar yang sesuai dengan ciri halaman sekolah yang kotor dan tidak sehat.</li><li>4. Bertanya jawab tentang isi gambar yang telah diamati.</li></ol>	6 Menit

	<p>5. Siswa menjawab pertanyaan yang diajukan guru.</p> <p>6. Guru menjelaskan materi tentang ciri-ciri lingkungan tidak sehat</p> <p>7. Siswa menyimak penjelasan materi dari guru.</p> <p>8. Siswa mengerjakan tugas LKPD sebagai Penilaian Keterampilan.</p> <p>9. Siswa menuliskan laporan sederhana dari hasil pengamatan tentang lingkungan tidak sehat.</p> <p><b>Ayo Mengamati</b></p>  <p>10. Menghubungkan dengan pembelajaran Matematika, siswa mengamati gambar diatas, dimana gambar tersebut terdapat beberapa bangun datar diantaranya tutup sampah yang berbentuk lingkaran, lubang angin yang berbentuk persegi.</p> <p>11. Siswa diarahkan untuk mengamati contoh bangun datar dan pola bangun datar.</p> <p>12. Siswa menyimak penjelasan guru tentang pengertian bangun datar dan contoh bentuk bangun datar.</p> <p><b>Amati Contoh Pola Bangun Datar</b></p>  <p>13. Dua orang siswa maju ke depan untuk mendemonstrasikan (mengisi bangun datar pada urutan pola berikutnya).</p> <p>14. Siswa mengerjakan soal-soal evaluasi sebagai penilaian pengetahuan.</p> <p>15. Guru mengamati kemampuan dan sikap siswa (Isi Rubrik Penilaian).</p> <p><b>Kegiatan bersama orang tua</b></p> <ul style="list-style-type: none"> <li>• Orang tua membantu siswa dalam memahami bangun datar dan pola bangun datar berikutnya.</li> </ul>	
<p><b>Kegiatan Penutup</b></p>	<p>16. Membuat kesimpulan dengan kuis berbantuan android</p> <p>17. Menyampaikan kilasan materi untuk pertemuan berikutnya (esok hari)</p> <p>18. Mengajak semua siswa berdo'a untuk mengakhiri kegiatan pembelajaran dipimpin oleh salah satu siswa.</p>	<p><b>2 Menit</b></p>

## C. PENILAIAN PEMBELAJARAN

### a. Teknik Penilaian

- |                           |                |
|---------------------------|----------------|
| 1. Penilaian Sikap        | : Observasi    |
| 2. Penilaian Pengetahuan  | : Tes Tertulis |
| 3. Penilaian Keterampilan | : Unjuk Kerja  |

## b. Instrumen Penilaian

### 1. Penilaian Sikap (Lembar Observasi dan Pedoman Penskoran Telampir)

No	Nama siswa	Jujur		Disiplin		Tanggung jawab		santun		Peduli		Percaya Diri	
		T	BT	T	BT	T	BT	T	BT	T	BT	T	BT
1													
2													
3													
4													
5													
6													
7													
8													
9													
10.													

Keterangan:

T : Terlihat

BT : Belum Terlihat

### 2. Penilaian Pengetahuan (Lembar Soal dan Pedoman Penskoran Telampir)

#### Muatan Pelajaran Bahasa Indonesia (KD :3.4)

Menyebutkan isi teks dari bacaan

Soal : 5 Butir

Skor : 10

#### Muatan Pelajaran Matematika (KD :3.11)

Menentukan bentuk bangun datar pada urutan berikutnya berdasarkan pola.

Soal : 5 Butir

Skor : 10

### 3. Penilaian Keterampilan (LKPD dan Pedoman Penskoran Telampir)

#### A. Muatan Pelajaran Bahasa Indonesia (KD :4.4)

Menuliskan laporan sederhana tentang lingkungan sekolah yang tidak bersih.

Aspek	Baik Sekali (4)	Baik (3)	Cukup (2)	Perlu Bimbingan (1)
Kelengkapan isi laporan	Isi laporan lengkap	Isi laporan mencakup sebagian besar isi gambar	Isi laporan hanya mencakup sebagian kecil isi gambar	Isi laporan belum sesuai dengan isi gambar
Tampilan	Tulisan jelas, rapi, dan bersih	Tulisan jelas, tetapi kurang rapi atau bersih	Tulisan kurang jelas	Tulisan tidak bisa dibaca

## **B. Muatan Pelajaran Matematika KD :4.11 (Terlampir)**

Membuat bentuk bangun datar pada urutan berikutnya berdasarkan pola.

### **PEMBELAJARAN REMEDIAL**

- Mengulas kembali materi tentang ciri pekarangan sekolah yang tidak bersih bagi siswa yang belum paham.
- Menjelaskan kembali materi yang berkaitan dengan bentuk bangun datar pada urutan berikutnya bagi siswa yang belum paham.

### **PEMBELAJARAN PENGAYAAN**

- Siswa mensimulasikan ketidaksukaan terhadap lingkungan sekolah yang tidak bersih dan tidak sehat dengan ekspresi yang tepat.
- Siswa bermain tebak-tebakan tentang bentuk bangun datar selanjutnya mengikuti pola tertentu.
- Refleksi pencapaian siswa/formatif asesmen, dan refleksi guru untuk mengetahui ketercapaian proses pembelajaran dan perbaikan.

*Refleksi dan Konfirmasi:*

Mengetahui  
Kepala Sekolah

Suruh, 29 Juni 2021  
Guru Kelas

Sri Rejeki Widaningsih, S.Pd., M.Pd.  
NIP 196502011987022002

Siti Chotijah, S.Pd  
NIP 198206052008012023

## **LAMPIRAN-LAMPIRAN**

### **1. MATERI, MEDIA, SUMBER, PENDEKATAN, MODEL DAN METODE PEMBELAJARAN**

### **2. PENILAIAN**

#### **A. PENILAIAN SIKAP**

- *Lembar observasi sikap sosial*

#### **B. PENILAIAN PENGETAHUAN**

#### **❖ MUATAN PELAJARAN B. INDONESIA DAN MATEMATIKA**

##### **TERDIRI DARI :**

1. *Kisi – kisi pembuatan soal*
2. *Lembar soal*
3. *Kunci jawaban*

#### **C. PENILAIAN KETERAMPILAN**

##### **TERDIRI DARI :**

1. *Lembar kerja peserta didik (lkpd) muatan bahasa indonesia*
2. *Lembar kerja peserta didik (lkpd) muatan matematika*

### **3. PEDOMAN PENSKORAN**

### **4. ANALISIS HASIL EVALUASI**

# 1.MATERI,MEDIA,SUMBER, PENDEKATAN,STRATEGI DAN METODE PEMBELAJARAN

## Muatan Pelajaran : Bahasa Indonesia dan Matematika

### 1. MATERI PEMBELAJARAN

- Menyebutkan isi teks yang berhubungan dengan lingkungan tidak sehat di sekolah.
- Menuliskan laporan sederhana dari hasil pengamatan tentang lingkungan tidak sehat di sekolah.
- Menentukan bentuk bangun datar pada urutan berikutnya berdasarkan pola.
- Membuat bentuk bangun datar pada urutan berikutnya berdasarkan pola.

### 2. MEDIA :

- Teks Bacaan “**Aku Malu Punya Pekarangan Sekolah yang Kotor**”
- Gambar yang berhubungan dengan lingkungan sekolah yang kotor dan tidak sehat
- Model berbagai bentuk bangun datar
- Gambar berbagai bentuk bangun datar dan Pola Bangun Datar.
- Video nyanyian “Hidup Sehat dan Bersih”

### 3. SUMBER :

- Buku Guru, Kelas II Tematik Terpadu kurikulum 2013, (Edisi Revisi 2017), Tema 4 : *Hidup Bersih dan Sehat*, Sub Tema 2,PB 4.Halaman 74-80. Kementerian Pendidikan dan Kebudayaan, Jakarta: 2017.
- Buku Siswa, Kelas II, Tematik Terpadu kurikulum 2013, (Edisi Revisi 2017), Tema 4 : *Hidup Bersih dan Sehat*, Sub Tema 2,PB 4.Halaman 79-85. Kementerian Pendidikan dan Kebudayaan, Jakarta: 2017.
- Lingkungan Sekitar.

4. **PENDEKATAN** : Tematik dan Saintifik  
5. **STRATEGI** : Discovery Learning  
6. **METODE** : Ceramah, Tanya Jawab ,Demonstrasi dan Penugasan

## MATERI DAN MEDIA PEMBELAJARAN MUATAN B. INDONESIA

### 7. TEKS BACAAN

#### **Aku Malu Punya Pekarangan Sekolah yang Kotor**

Banyak warga sekolah tidak peduli terhadap lingkungan.Banyak siswa membuang sampah sembarangan.Taman-taman di depan kelas juga kurang di perhatikan.Lingkungan sekolah menjadi kotor dan tidak rapi.

Oleh karena itu banyak siswa yang sakit. Keindahan sekolahpun kurang terjaga.Sudah seharusnya kita membudayakan sikap malu.Malu jika pekarangan sekolah tidak bersih.

Pekarangan sekolah tidak bersih karena kurangnya rasa malu pada diri kita.Harusnya kita malu jika pekarangan sekolah kotor.Oleh sebab itu ,mulai sekarang mari kita bersihkan pekarangan sekolah dengan baik.

## MATERI DAN MEDIA PEMBELAJARAN MUATAN B. INDONESIA

1. **Lingkungan sekolah yang bersih** adalah yang terawat, tidak ada sampah berserakan dan banyak tanaman yang menghiasi halaman sekolah.
2. **CIRI- CIRI LINGKUNGAN BERSIH DAN SEHAT ADALAH**
  - a. Lingkungan yang terawat, tidak ada sampah berserakan dan banyak tanaman yang menghiasi halaman sekolah
  - b. Terdapat saluran air/selokan
  - c. Terdapat ventilasi
  - d. Tidak ada sampah berserakan
  - e. Terbebas dari pencemaran
3. **CONTOH LINGKUNGAN SEKOLAH SEHAT**  
**Contoh Gambar lingkungan sekolah yang tidak sehat dan kotor**



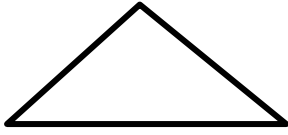
4. **MEDIA VIDEO TENTANG HIDUP BERSIH DAN SEHAT**

<https://youtu.be/qZ0JFgQ00oc>

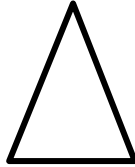
## MATERI DAN MEDIA PEMBELAJARAN

### Muatan Pelajaran : Matematika

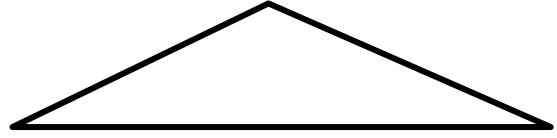
- **Bangun datar** merupakan sebuah bangun berupa bidang datar yang dibatasi oleh beberapa ruas garis.
- **Contoh gambar macam-macam dan bentuk Bangun Datar**



SEGI TIGA SAMA SISI



SEGI TIGA SAMA KAKI




SEGI TIGA SEMBARANG



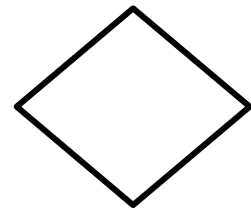
PERSEGI



PERSEGI PANJANG

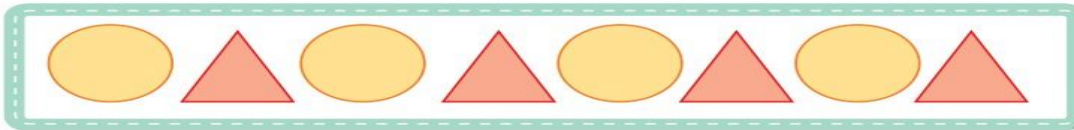


LINGKARAN




BELAH KETUPAT

**Amati pola bangun datar berikut!**



- **Pola bangun datar** tersebut terdiri dari bangun datar lingkaran dan segitiga dan seterusnya mengikuti pola berikutnya.
- **Contoh;**  
Buatlah bentuk bangun datar selanjutnya sesuai dengan pola-pola berikut ?



...

...



## 2. PENILAIAN

### A. Penilaian Sikap Sosial

Satuan Pendidikan : SDN 01 Suruh  
Kelas / Semester : II (Dua) / 1 (satu)  
Tema : 4 . Hidup Bersih dan Sehat  
Sub Tema : 2. Hidup Bersih dan Sehat di Sekolah  
Pembelajaran : 4  
Muatan Pelajaran : Bahasa Indonesia dan Matematika  
Kurikulum : 2013

---

No	Nama Siswa	Jujur		Disiplin		Tanggung Jawab		Santun		Peduli		Percaya Diri	
		T	BT	T	BT	T	BT	T	BT	T	BT	T	BT
1													
2													
3													
4													
5													
6													
7													
8													

Keterangan:

T : Terlihat

BT : Belum Terlihat

## B. PENILAIAN PENGETAHUAN

### KISI-KISI PEMBUATAN SOAL

Satuan Pendidikan : SDN 01 Suruh  
Kelas / Semester : II (Dua) / 1 ( satu )  
Tema : 4 . Hidup Bersih dan Sehat  
Sub Tema : 2. Hidup Bersih dan Sehat di Sekolah  
Pembelajaran : 4  
Muatan Pelajaran : Bahasa Indonesia dan Matematika  
Jumlah Soal : 10 Butir soal  
Bentuk Instumen : Isian  
Kurikulum : 2013

NO	Kompetensi Dasar	Level Kognitif	Indikator Pencapaian Kompetensi	Indikator Soal	Bentuk Soal	No Soal	Tingkat Kesukaran
1	<i>Bahasa Indonesia</i> 3.4 Mengenal kosakata dan konsep tentang lingkungan sehat dan lingkungan tidak sehat di lingkungan sekitar serta cara menjaga kesehatan lingkungan dalam bahasa Indonesia atau bahasa daerah melalui teks tulis, lisan, dan visual.	C1	3.4.1 Menyebutkan isi teks yang dibaca berkaitan dengan lingkungan tidak sehat	Disajikan dalam Teks bacaan, siswa dapat Menyebutkan isi teks pendek yang berkaitan dengan lingkungan tidak sehat	Isian	1,2,3 4 dan 5	Sulit dan Mudah
2	<i>Matematika</i> 3.11. Menjelaskan pola barisan bangun datar dan bangun ruang menggunakan model konkret.	C1	3.11.1 Menentukan bentuk bangun datar pada urutan berikutnya berdasarkan pola.	Diajikan gambar pola bangun datar, Siswa mampu menentukan bentuk bangun datar pada urutan berikutnya berdasarkan pola.	Isian	6,7,8. 9.10	Mudah

**LEMBAR SOAL EVALUASI  
PENILAIAN PENGETAHUAN  
TAHUN PELAJARAN 2020 / 2021**

Tema 4	: Hidup Bersih dan Sehat	Nama : .....		
Sub Tema 2	: Hidup Bersih dan Sehat di Sekolah	Paraf Guru	Paraf Orang Tua	Nilai
Pembelajaran	: 4			
Kelas / Semester	: II (Dua) / I (Satu)	Siti Chotijah,S.Pd		
Hari/Tanggal	:			
Muatan Pelajaran	: Bahasa Indonesia dan Matematika			
Waktu	: 5 Menit			

**Bacalah teks berikut!**

**Aku Malu Punya Pekarangan  
Sekolah yang Kotor**

Banyak warga sekolah tidak peduli terhadap lingkungan. Banyak siswa membuang sampah sembarangan. Taman-taman di depan kelas juga kurang di perhatikan. Lingkungan sekolah menjadi kotor dan tidak rapi.

Oleh karena itu banyak siswa yang sakit. Keindahan sekolahpun kurang terjaga. Sudah seharusnya kita membudayakan sikap malu. Malu jika pekarangan sekolah tidak bersih.

Pekarangan sekolah tidak bersih karena kurangnya rasa malu pada diri kita. Harusnya kita malu jika pekarangan sekolah kotor. Oleh sebab itu, mulai sekarang mari kita bersihkan pekarangan sekolah dengan baik.

**Jawablah pertanyaan berikut sesuai dengan teks bacaan !**

1. Siapa yang tidak peduli terhadap lingkungan?.....
2. Siswa membuang sampah..... sehingga lingkungan jadi kotor
3. Mengapa pekarangan sekolah harus bersih ?.....
4. Sikap apa yang seharusnya kita budayakan ?.....
5. Bagaimana keadaan lingkungan sekolah pada gambar A dan B di bawah ini ?




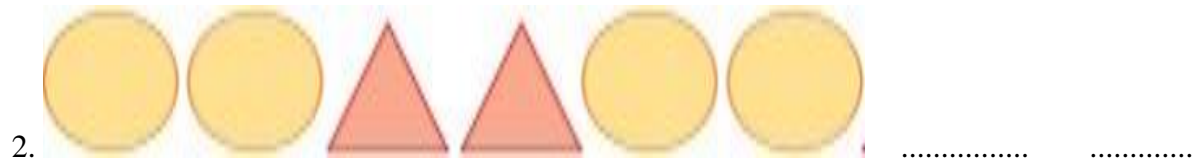
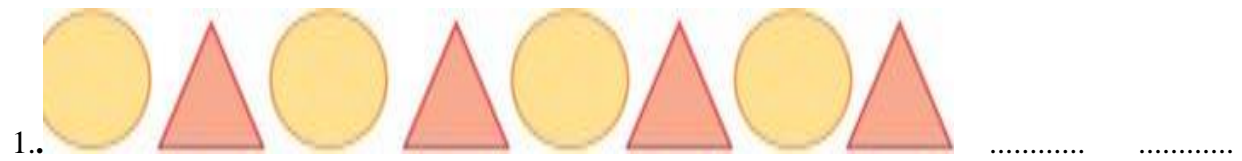
A .....



B.....






**Untuk Soal No 6-10**

**Tentukan bentuk bangun datar selanjutnya sesuai dengan pola-pola berikut!**



**KUNCI JAWABAN ,TINGKAT KESUKARAN SKOR NILAI  
PENILAIAN PENGETAHUAN**

<b>Tema</b>	<b>: 4.Hidup Bersih dan Sehat</b>	<b>Nama : .....</b>		
<b>Sub Tema</b>	<b>: 2 Hidup Bersih dan Sehat di Sekolah</b>	<b>Paraf Guru</b>	<b>Paraf Orang Tua</b>	<b>Nilai</b>
<b>Pembelajaran</b>	<b>: 4</b>			
<b>Kelas / Semester</b>	<b>: II (Dua) / I (Satu)</b>			
<b>Hari/Tanggal</b>	<b>:</b>			
<b>Muatan Pelajaran</b>	<b>: Bahasa Indonesia dan Matematika</b>			
		<small>Siti Chotijah,S.Pd.</small>		

NO	KUNCI JAWABAN	TINGKAT KESUKARAN	SKOR NILAI
1	Waga sekolah	SULIT	3
2	Sembarangan	MUDAH	1
3	Agar ekolah sehat dan tidak menjadi sarang penyakit	SULIT	3
4	Malu	MUDAH	1
5	A : Lingkungan Sekolah yang tidak sehat dan kotor,banyah sampah berserakan B: Lingkungan sekolah yang bersih dan sehat	MUDAH	2
6		MUDAH	2
7		MUDAH	2
8		MUDAH	2
9		MUDAH	2
10		MUDAH	2
<b>JUMLAH SKOR MAKSIMAL</b>			<b>20</b>

**Pedoman Penskoran**

$$\text{Nilai} = \frac{\text{jumlah skor}}{\text{skor maksimal}} \times$$

Ket :

Jumlah skor nilai maksimal B.Indonesia dan Matematika adalah 20

Tediri dari:

- A. Muatan pelajaran B.indonesia = 5 Butir Soal , Skor nilainya 10
- B. Muatan pelajaran Matematika = 5 Butir Soal , Skor nilainya 10

Jumlah 20

**C. PENILAIAN KETERAMPILAN**

**LEMBAR KERJA PESERTA DIDIK( LKPD -1 )**

Satuan Pendidikan : SDN 01 Suruh  
Kelas / Semester : II (Dua) / 1 ( satu )  
Tema : 4 . Hidup Bersih dan Sehat  
Sub Tema : 2. Hidup Bersih dan Sehat di Sekolah  
Pembelajaran : 4  
Pokus Pembelajaran : Bahasa Indonesia  
Nama : .....

---

**I. Amatilah gambar di bawah ini dengan teliti !**

**Tuliskanlah laporan hasil pengamatanmu terhadap gambar di atas pada kolom berikut dalam beberapa kalimat!**



**1. Bagaimana suasana sekolah yang kamu amati?**

.....  
.  
.....  
.

**2. Jika melihat pekarangan sekolah seperti gambar diatas, apa yang akan kamu lakukan?**

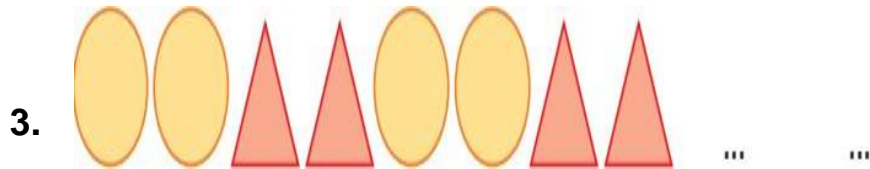
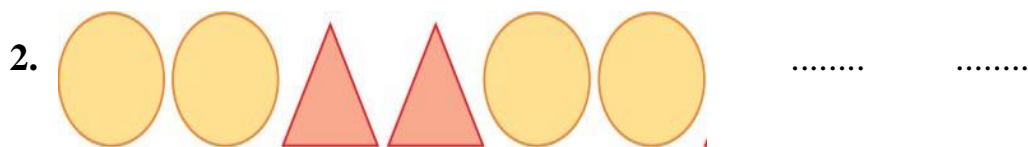
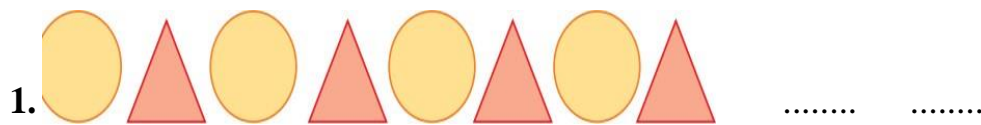
.....

**PENILAIAN KETERAMPILAN  
LEMBAR KERJA PESERTA DIDIK**

**Satuan Pendidikan** : SDN 01 Suruh  
**Kelas / Semester** : II (Dua) / 1 ( satu )  
**Tema** : 4 . Hidup Bersih dan Sehat  
**Sub Tema** : 2. Hidup Bersih dan Sehat di Sekolah  
**Pembelajaran** : 4  
**Muatan Pelajaran** : Matematika  
**Nama** : .....

---

**Buatlah bentuk bangun datar selanjutnya sesuai dengan pola-pola berikut!**



## PEDOMAN PENSKORAN

### **1. Muatan Pelajaran Bahasa Indonesia (KD 3.4)**

- a. Jumlah soal B.Indonesia ada 5 butir.
- b. Tiap satu soal mendapat skor nilai 1-2
- c. Skor maksimal 10

$$\text{Nilai} = \frac{\text{Jumlah Benar} \times \text{Skor Perolehan}}{\text{Skor Maksimal}} \times 100$$

- d. Contoh Pada Muatan Pelajaran Bahasa Indonesia, siswa menjawab benar 5 Butir soal . Maka,

- e. 
$$\text{Nilai} = \frac{\text{Jawab Benar} 5 \text{ butir soal} \times 2 \times 100}{10} = 100$$

### **2. Muatan Pelajaran Matematika (KD 3.11)**

- a. Jumlah soal ada 5 butir.
- b. Tiap satu soal mendapat skor nilai 2
- c. Skor maksimal 10

$$\text{Nilai} = \frac{\text{Jumlah Benar} \times \text{Skor Perolehan}}{\text{Skor maksimal}} \times 100$$

- d. Contoh Pada Muatan Pelajaran Matematika ,siswa menjawab benar 4 butir soal. Maka,

$$\text{Nilai} = \frac{\text{Jawab benar} 4 \text{ butir soal} \times 2 \times 100}{10} = 80$$



### **5.ANALISIS HASIL EVALUASI**

Satuan Pendidikan : SDN 01 Suruh  
Kelas / Semester : II (Dua) / 1 ( satu )  
Tema : 4 . Hidup Bersih dan Sehat  
Sub Tema : 2. Hidup Bersih dan Sehat di Sekolah  
Pembelajaran : 4  
Pokus Pembelajaran : Matematika dan Bahasa Indonesia  
Jumlah Soal : 10 Butir  
Bentuk Soal : Isian

NO	NAMA PESERTA DIDIK	NOMOR SOAL YANG DI ANALISIS (ISIAN)										JUMLAH BENAR MUATAN MATEMATIKA	NILAI	JUMLAH BENAR MUATAN B.INDONESIA	NILAI	KET (TUNTAS/ TIDAK TUNTAS)	
		1	2	3	4	5	6	7	8	9	10						
1.	Afifa Prawidana																
2.	Ailsa Arga Putri																
3.	Athaya Diandra Sasikirana																
4.	Bintang Afriza																
5.	Davian Arya Daniswara																
6.	Eka Oktaviani																
7.	Faezya Rafi Azkarais																
8	Fajar Viki Kristian																

Mengetahui  
Kepala Sekolah

Suruh, 29 Juni 2021  
Guru Kelas 2a

Sri Rejeki Widaningsish,S.Pd.M.Pd.  
NIP 196502011987022002

Siti Chotijah,S.Pd.  
NIP 198206052008012023