

SIMULASI MENGAJAR PENGAJAR PRAKTIK

Oleh : SRI ISTINA,M.Pd

Nama Pelatihan : **Calon Pengajar Praktik Pendidikan Guru Penggerak Angkatan 5**
Nama Mata Diklat : **Simulasi Mengajar**
Tujuan Pelatihan :
Indikator Pelatihan : 3.1.1. Mengidentifikasi letak benua Asia dan Benua Lainnya.
3.1.2. Mengidentifikasi Luas Wilayah benua Asia dan Benua Lainnya.
Alokasi Waktu : 10 menit

A. Kompetensi Dasar

3.1 Menelaah perubahan keruangan dan interaksi antar ruang negara-negara Asia dan benua lainnya yang diakibatkan faktor alam, manusia dan pengaruhnya terhadap keberlangsungan kehidupan manusia dalam ekonomi, sosial, pendidikan dan politik.

B. Tujuan Pembelajaran

Melalui kegiatan pembelajaran model **Kooperatif dengan Tipe Jigsaw**, peserta didik dapat Mengidentifikasi letak dan luas dan batas-batas wilayah benua Asia dan Benua Lainnya secara benar.

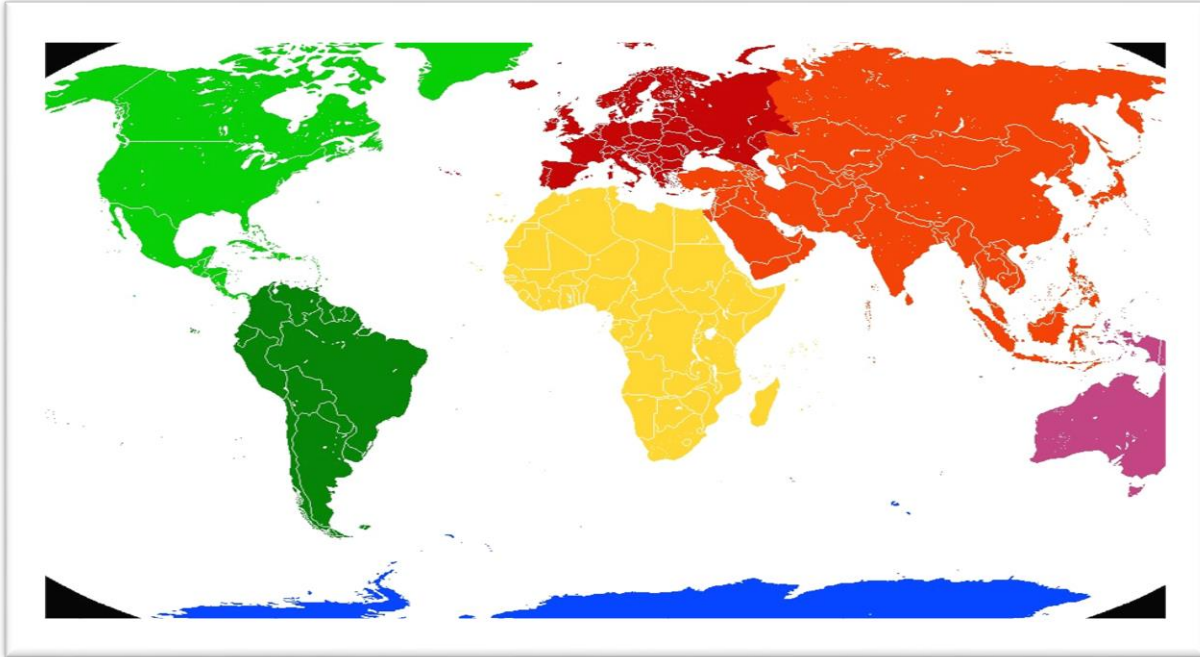
C. Kegiatan Pembelajaran

Kegiatan	Aktifitas Pembelajaran	Alokasi Waktu
Pendahuluan	<ul style="list-style-type: none">Ucap salam,Berdoa, mengecek kehadiran siswa.Apersepsi sharing pengalaman guru atau siswa dan Motivasi mengaitkan materi dengan kehidupan, menyampaikan tujuan pembelajaran serta Pemberian acuan, Pembentukan kelompok belajar dan menjelaskan mekanisme pelaksanaan pengalaman belajar sesuai dengan langkah-langkah pembelajaran	2 Menit
Kegiatan Inti	<ol style="list-style-type: none">Guru menampilkan globe,peta pergeseran benua, peta duniaPeserta didik mengamati peta dunia,atlas,globe dan peta pergeseran benua dan peta dunia pada zaman sekarang dan membaca buku sumber tentang letak dan luas benua Asia dan benua lainnya (rasa ingin tahu)Guru membagi siswa menjadi beberapa kelompok dan membagikan lembar kerja siswa.Peserta didik berdiskusi dan membagi tugas pada masing-masing anggota kelompok (kelompok awal)Peserta didik dari kelompok awal berdiskusi dengan kelompok lain sesuai dengan tugas masing-masing (kelompok ahli)Peserta didik dari kelompok ahli berdiskusi untuk merumuskan hasilPeserta didik dari kelompok ahli kembali ke kelompok awal untuk menyampaikan hasilPeserta didik menyimpulkan materi pelajaran dengan bimbingan guru	6 Menit
Penutup	<ol style="list-style-type: none">Peserta didik diminta melakukan refleksiGuru memotivasi peserta didik agar tetap semangat belajar di rumah dan selalu menjaga kesehatan dan menjaga jarak terkait covid 19.Guru memberikan tugas pembelajaran untuk pertemuan yang akan datang	2 Menit

Tuban,15 Desember 2021
Kepala SMPN 2 singgahan

Sri Istina,M.Pd
NIP. 19731110 199802 2 001

LAMPIRAN 1
LEMBAR KERJA SISWA



Kegiatan Pembelajaran

Setelah ananda mencermati peta diatas , silahkan ananda jawab pertanyaan berikut

- a. Tuliskan pengertian benua!

- b. Tuliskan Nama-nama benua dan samudra pada peta diatas
- c. Tuliskan nama benua secara berurutan berdasarkan luasnya berdasarkan data luas Benua dan gambar peta diatas.

NO	NAMA BENUA	LUAS
1	AMERIKA	24.71 km ² (Utara),17.84 km(Selatan)
2	AUSTRALIA	8.6 km ²
3	AFRIKA	30.37 km ²
4	ASIA	44.58 km ²
5	ANTARTIKA	14.2 km ²
6	EROPA	10.18 km ²

1.
2.
3.
4.
5.
6.

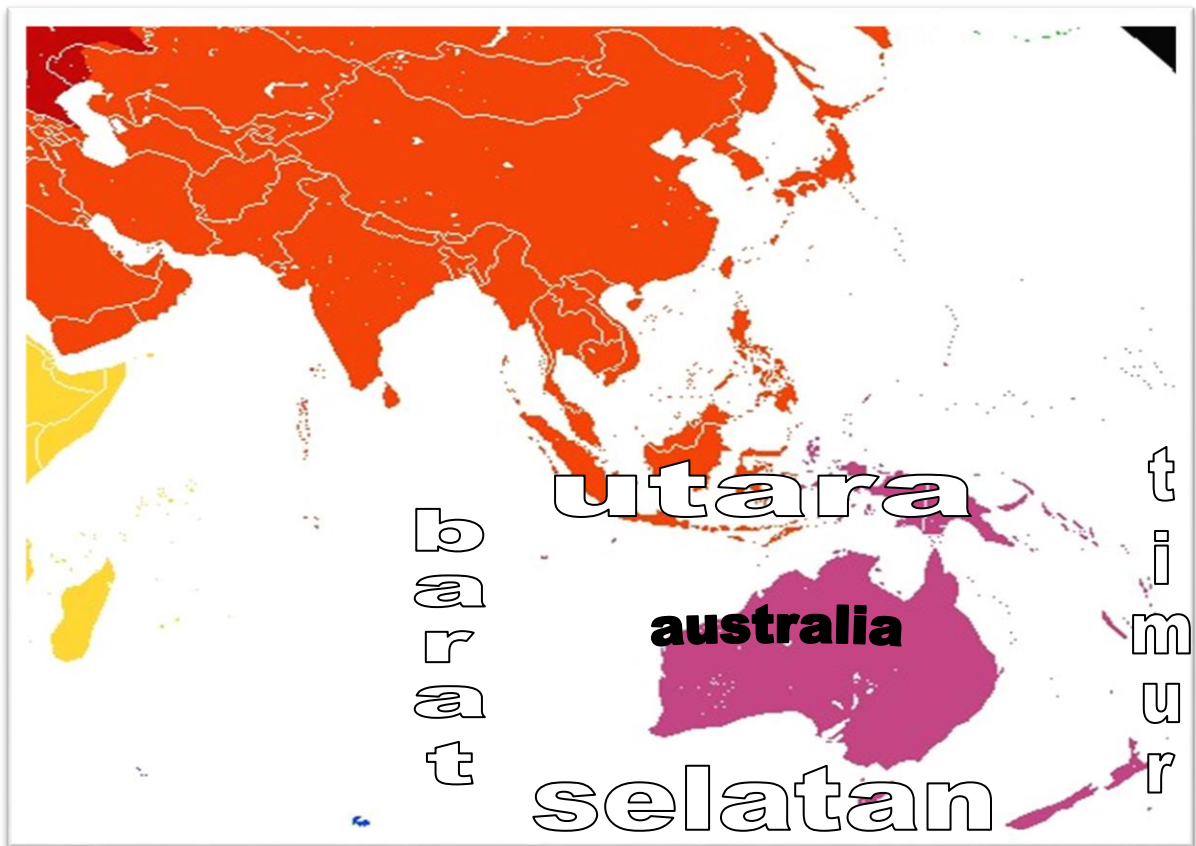
LAMPIRAN 2

LEMBAR KERJA SISWA

BENUA DAN SAMUDRA



BATAS – BATAS BENUA AUSTRALIA



UTARA :

TIMUR :

SELATAN :

BARAT :

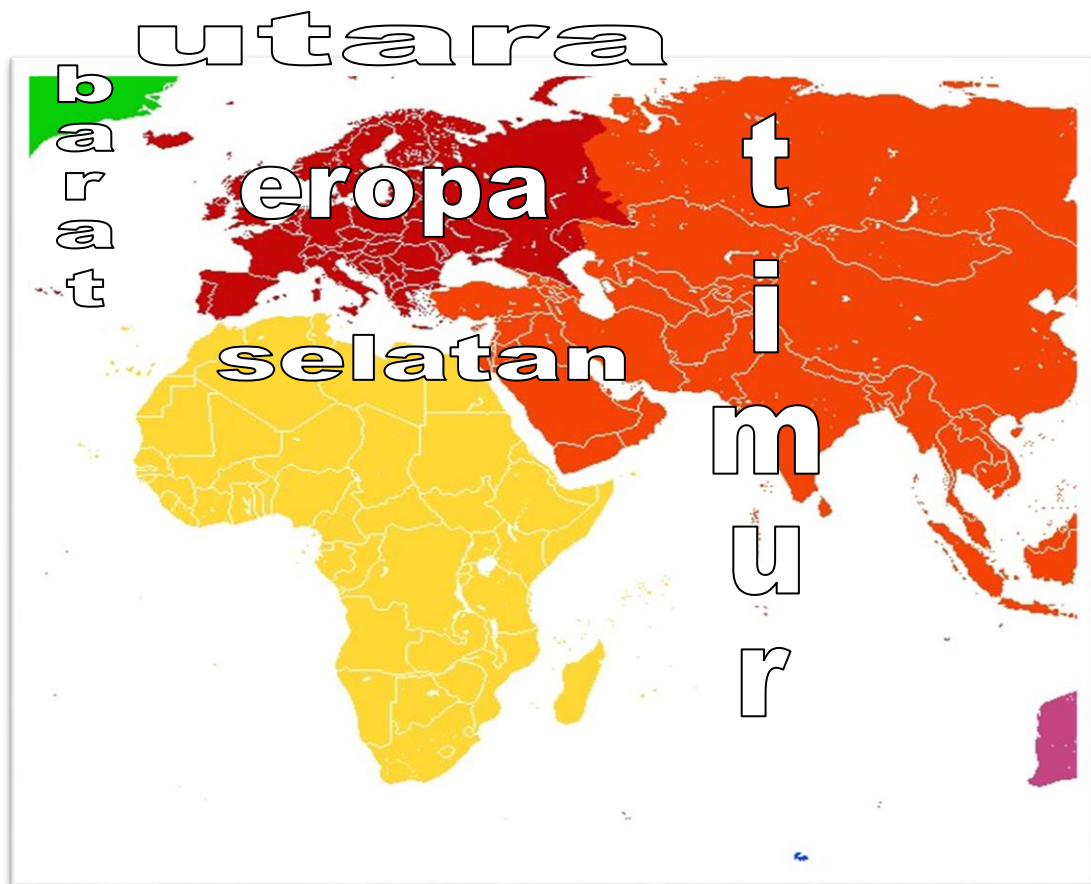
BATAS – BATAS BENUA EROPA

UTARA :.....

TIMUR :.....

SELATAN :.....

BARAT :.....



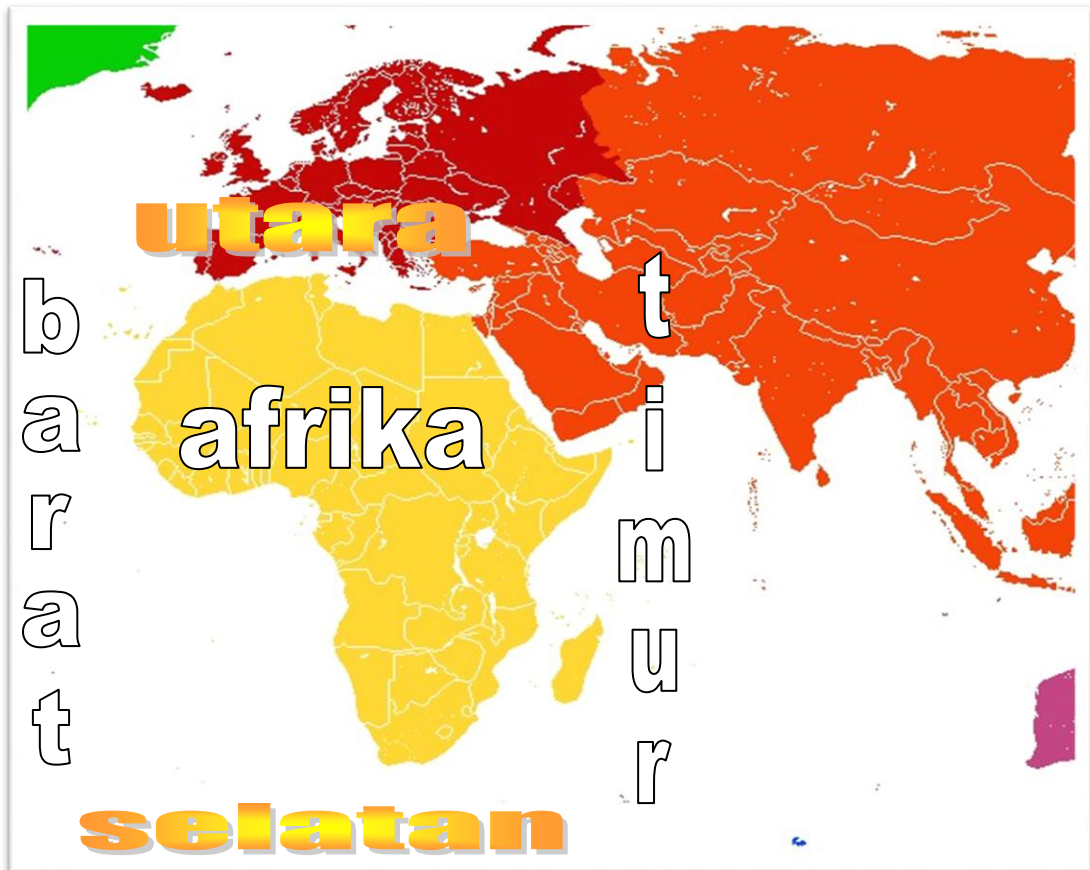
BATAS – BATAS BENUA AFRIKA

UTARA :.....

TIMUR :.....

SELATAN :.....

BARAT :.....



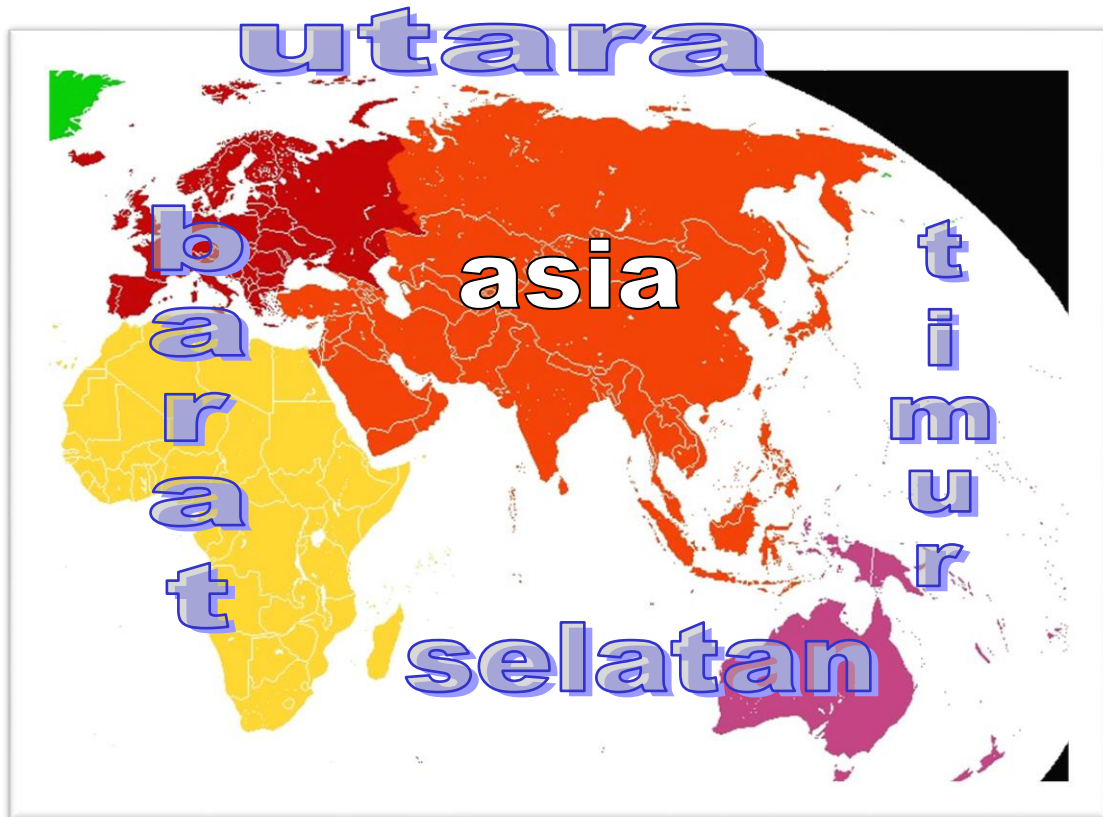
BATAS – BATAS BENUA ASIA

UTARA :.....

TIMUR :.....

SELATAN :.....

BARAT :.....



BATAS – BATAS BENUA AMERIKA

UTARA :

TIMUR :

SELATAN :

BARAT :

