

RENCANA PELAKSANAAN PEMBELAJARAN (RPP)

Satuan Pendidikan	:	SMP N 1 GERIH
Mata Pelajaran	:	Ilmu Pengetahuan Sosial (IPS)
Materi Pokok/ Sub Materi	:	Negara ASEAN / Perubahan akibat factor alam dan manusia (akibat covid 19)
Kelas/ Semester	:	VIII/Gasal
Alokasi Waktu	:	2 x 40 menit

KOMPETENSI DASAR	I P K
3.1. Memahami perubahan keruangan dan interaksi antarruang di Indonesia dan negara-negara ASEAN yang diakibatkan oleh faktor alam dan manusia (teknologi, ekonomi, pemanfaatan lahan, politik) dan pengaruhnya terhadap keberlangsungan kehidupan ekonomi, sosial, budaya, politik	<ul style="list-style-type: none"> - Mendeskripsikan Covid 19 - Menganalisis penyebab penyebaran Covid 19 - Mengevaluasi pengaruh adanya Covid 19 - Mencari solusi untuk mengatasi Covid 19
4.1. Menyajikan hasil telaah tentang perubahan keruangan dan interaksi antar ruang di Indonesia dan negara-negara ASEAN yang diakibatkan oleh faktor alam dan manusia (teknologi, ekonomi, pemanfaatan lahan, politik) dan pengaruhnya terhadap keberlangsungan kehidupan ekonomi, sosial, budaya, politik.	<ul style="list-style-type: none"> - Menyajikan hasil telaah

A. TUJUAN PEMBELAJARAN

Melalui model Discoveri Learning peserta didik diharapkan dapat : Mendeskripsikan, menganalisis, mengevaluasi dan mencari solusi adanya covid 19 dengan benar dan penuh tanggung jawab, rasa syukur serta menyajikan hasil telaah dengan percaya diri dan santun.

B. KEGIATAN PEMBELAJARAN

KEGIATAN	AKTIFITAS PEMBELAJARAN
Pendahuluan	<ul style="list-style-type: none"> - Guru menyampaikan salam kepada peserta didik melalui aplikasi whatsapp dan mengajak berdo'a sebelum memulai kegiatan pembelajaran, serta mengecek kehadiran siswa yang aktif dalam pembelajaran online tersebut. - Guru memberi motivasi kepada peserta didik untuk tetap semangat dan menjaga kesehatan di tengah pandemi Covid 19. - Guru menjelaskan aktivitas yang akan dilakukan dan cara pengerjaannya.
Kegiatan Inti	<ul style="list-style-type: none"> - Peserta didik mengamati peta sebaran kasus corona di Indonesia per provinsi yang dikirim melalui google classroom - Peserta didik dan guru mendiskusikan tentang virus corona. - Masing-masing kelompok berdiskusi dan mengerjakan Lembar Kerja yang dibagikan guru di google classroom dengan panduan pertanyaan yang ada di LK - Peserta didik bekerja secara berkelompok untuk membahas permasalahan dengan informasi dari berbagai sumber - Masing-masing kelompok diberi kesempatan untuk menayangkan hasil kerja kelompok di google classroom - Peserta didik bersama guru mendiskusikan pekerjaan kelompok di WA - Peserta didik mendapat kesempatan untuk bertanya mengenai materi yang belum dipahami - Peserta didik bersama guru menyimpulkan materi tentang Covid 19
Penutup	<ul style="list-style-type: none"> - Peserta didik diminta melakukan refleksi - Guru memotivasi peserta didik agar tetap semangat belajar di rumah dan selalu menjaga kesehatan - Guru memberikan tugas pembelajaran untuk pertemuan yang akan datang

C. PENILAIAN : Penilaian sikap : Keaktifan siswa dalam mengikuti kegiatan pembelajaran online dan disiplin waktu dalam mengerjakan tugas yang diberikan. Penilaian Pengetahuan : Tugas tertulis. Penilaian Keterampilan : Unjuk kerja kegiatan pembelajaran online

D. ALAT, MEDIA, DAN SUMBER BELAJAR (terlampir di LKPD)

Mengetahui :
Kepala SMP N 1 GERIH

Gerih, 13 Juli 2020
Guru Bidang Studi IPS


Drs. ARIF SUBIAKTO
NIP: 19680422 199403 1 004

LASI PURWANTI, S.Pd.
NIP: 19660605 199201 2 001

Materi Pokok	: Negara ASEAN / Perubahan akibat faktor alam dan manusia (akibat Covid 19)
Kelas/ Semester	: VIII / Gasal
Nama Siswa /	: 1./.....
No.Absen	: 2./.....
	: 3./.....
	:

Alat / Media / Sumber Belajar

1. **Alat** : Smartphone, Laptop, Kertas, dan alat tulis
2. **Media** : Internet dan peta penyebaran Covid 19
3. **Sumber Belajar** : Buku guru dan buku siswa kelas VIII SMP / MTs Kurikulum 13.Depdikbud,2017


Tugas 1
Prosedur Kerja /Tugas

1. Bentuklah kelompok 2-3 orang
2. Amatilah peta sebaran kasus virus corona di Indonesia, di bawah ini!
3. Bacalah wacana di bawah ini!
4. Bacalah buku sumber yang relevan !
5. Diskusikanlah dengan teman kelompokmu untuk mengerjakan tugas guru di bawah ini!
6. Laporkan hasil kerjamu kepada guru!

Kematian karena Covid-19 di Indonesia yang Tertinggi di Asia Tenggara, Penyebabnya karena Komorbid

Minggu, 14 Juni 2020 06:07



Peta sebaran kasus corona di Indonesia per provinsi

TRIBUNMATARAM.COM – Di Asia Tenggara, kematian karena virus corona di Indonesia disebut yang tertinggi, salah satu penyebabnya karena komorbid, ini penjelasan lengkapnya.

Virus corona mulai diketahui masuk ke Indonesia pada awal Maret 2020. Kini Indonesia juga disebut sebagai negara kedua tertinggi di Asia Tenggara setelah Singapura. Singapura memiliki pasien positif covid-19 yang terkonfirmasi mencapai 39.850 kasus.

Sedangkan di Indonesia per data Jum'at 12 Juni 2020 mencapai 36.406 kasus.

Meski demikian, angka kematian Indonesia termasuk yang tertinggi di Asia Tenggara.

<https://mataram.tribunnews.com/2020/06/14/kematian-karena-covid-19-di-indonesia-yang-tertinggi-di-asia-tenggara-penyebabnya-karena-komorbid>

- A. Berdasarkan wacana di atas, diskusikanlah dengan teman satu kelompok!
 1. Mengapa kematian akibat virus corona di Indonesia, menduduki peringkat tertinggi di Asia Tenggara?
 2. Mengapa virus corona mudah menyebar?
 3. Apa pengaruh adanya covid 19?
 4. Bagaimana solusi untuk mengatasi adanya pandemic covid 19?
- B. Jawaban kelompok dikirim melalui google classroom.
- C. Secara bergantian hasil kerja kelompok ditanggapi bersama.

-SELAMAT BEKERJA-

LAMPIRAN II
MATERI PENGAYAAN.

1. Letak Geografis negara - negara ASEAN




Asia Tenggara merupakan bagian dari benua Asia yang terletak di bagian Tenggara yang mencakup Indo Cina dan semenanjung.

Batas-batas kawasan Asia Tenggara sebagai berikut.

1. Utara : Negara Cina.
2. Selatan: Negara Timor Leste, Benua Australia, dan Samudra Hindia.
3. Barat: Negara India, Bangladesh, dan Samudra Hindia.
4. Timur : Negara Papua Nugini dan Samudra Pasifik.

Asia Tenggara biasa dipilah dalam dua kelompok: Asia Tenggara Daratan (ATD) dan Asia Tenggara Maritim (ATM).

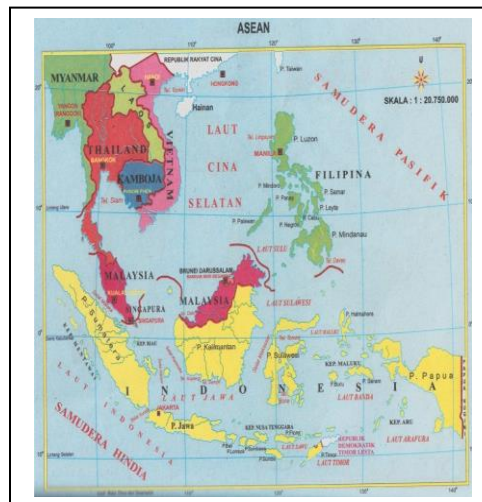
Negara-negara yang termasuk ke dalam ATD adalah

1.  Kamboja
2.  Laos
3.  Myanmar
4.  Thailand
5.  Vietnam

Negara-negara yang termasuk ATM adalah

1.  Brunei
2.  Filipina
3.  Indonesia
4.  Malaysia
5.  Singapura
6.  Timor Leste

- Posisi dan letak geografis kawasan Asia Tenggara dapat digunakan untuk meninjau letak Asia Tenggara. Asia Tenggara adalah suatu kawasan yang terletak di sebelah tenggara Benua Asia. Luas wilayah daratan dari Asia Tenggara sekitar 4.817.000 km², sedangkan perairan laut Asia Tenggara sekitar 5.060.100 km².



Posisi dan Letak Geografis Kawasan Asia Tenggara

a. Posisi Geografis Kawasan Asia Tenggara

Posisi geografis adalah letak suatu kawasan berdasarkan garis lintang dan garis bujur. Garis lintang merupakan garis khayal yang sejajar dengan ekuator, yang melingkari permukaan bumi secara mendatar. Sedangkan garis bujur adalah garis khayal yang menghubungkan antara Kutub Utara dan Kutub Selatan, serta membentuk setengah lingkaran bumi.

Berdasarkan garis lintang dan bujur, Asia Tenggara berada pada posisi 28°LU – 11°LS dan 93°BT – 141°BT . Kawasan Asia Tenggara dilewati oleh garis khatulistiwa (ekuator) dan garis balik utara. Posisi geografis Asia Tenggara tersebut mempengaruhi iklim dan kegiatan ekonomi penduduk.

Negara yang terletak paling utara di Asia Tenggara adalah Myanmar, sedangkan yang terletak paling selatan adalah Indonesia. Negara paling barat di Asia Tenggara adalah juga Myanmar dan paling timur adalah juga Indonesia.

b. Letak Geografis Kawasan Asia Tenggara

Letak geografis adalah letak suatu kawasan jika dilihat di permukaan bumi sebenarnya atau ditinjau dari kawasan sekitarnya. Berdasarkan letak geografis, Asia Tenggara berada di antara Benua Australia dan daratan utama Benua Asia serta terletak diantara Samudra Hindia dan Samudra Pasifik. Adapun batas-batas kawasan Asia Tenggara sebagai berikut..

Kawasan Asia Tenggara sangat strategis karena letaknya berada di antara dua samudra. Kawasan ini menghubungkan negara-negara barat dan timur sehingga kawasan ini sangat menguntungkan bagi peningkatan kegiatan perdagangan dan pariwisata di kawasan Asia Tenggara.

2. Letak Astronomi ASEAN

Letak Koordinat atau Astronomi adalah letak suatu wilayah bila dilihat berdasarkan garis lintang dan garis bujurnya. Dilihat dari letak astronomisnya ASEAN terletak pada posisi 28°LU – 11°LS dan 95°BT – 141°BT . Posisi ini mempengaruhi iklim yang ada di setiap negara Asia Tenggara, yaitu iklim tropis yang sangat dirasakan terutama pada negara di jalur khatulistiwa

LAMPIRAN III**PENILAIAN ASPEK PENGETAHUAN****a. Kisi – kisi soal**

NO	KEMAMPUAN YANG DIUJI	MATERI	INDIKATOR	LEVEL KOMPETENSI	NO SOAL
1	Menunjukkan negara terkecil di Asia Tenggara.	Kondisi Geografis Negara- negara ASEAN	Melalui tayangan peta dapat menunjukkan negara terkecil di Asia Tenggara.	C4	1
2	Mengidentifikasi negara asia tenggara Maritim	Kondisi Geografis Negara- negara ASEAN	.Melalui pengamatan table mengidentifikasi negara asia tenggara maritim	C4	2
3	Mengidentifikasi batas selatan Asia Tenggara	Kondisi Geografis Negara- negara ASEAN	Dapat mengidentifikasi batas selatan Asia Tenggara	C4	3
4	mampu menjelaskan letak Astronomi Asia Tenggara	Kondisi Geografis Negara- negara ASEAN	Dapat Menjelaskan letak astronomis Asia Tenggara	C2	4
5	Mendeskripsikan Iklim di kawasan Asia tenggara	Kondisi Geografis Negara- negara ASEAN	Dapat Mendeskripsikan iklim Asia Tenggara	C2	5
6	Mendeteksi luas daratan Asia Tenggara	Kondisi Geografis Negara- negara ASEAN	Dapat mendeteksi luas dartaan Asia Tenggara	C4	6
7	Menelaah benua yang mengapit Asia Tenggara	Kondisi Geografis Negara- negara ASEAN	Dapat menelaah benua yang mengapit Asia Tenggara	C4	7
8	Megidentifikasi iklim katulistiwa	Kondisi Geografis Negara- negara ASEAN	Dapat mengidentifikasi iklim katulistiwa	C2	8
9	Mendiskripsikan ciri – ciri iklim monsoon tropis	Kondisi Geografis Negara- negara ASEAN	Dapat mendiskripsikan cirri – cirri iklim monsoon tropis	C2	9
10.	Menjelaskan mata pencaharian penduduk Asia Tenggara	Kondisi Geografis Negara- negara ASEAN	Dapat menjelaskan mata pencaharian penduduk Asia Tenggara	C2	10.

b.SOAL

Jawablah soal-soal berikut ini dengan memberikan tanda silang (X) untuk jawaban yang paling tepat pada huruf A, B, C, atau D!

1. Amatilah peta Asia Tenggara berikut ini!



Apabila mengamati peta Asia Tenggara tersebut di atas, negara terkecil di wilayah Asia Tenggara adalah

- a. **Singapura**
- b. Timor leste
- c. Brunai Darussalam
- d. Kamboja

2. Amatilah tabel berikut ini!

I	II	III	IV

Bila mendasarkan symbol lambang bendera negara – negara di Asia Tenggara pada table tersebut di atas , yang termasuk negara Asia Tenggara Maritim ditunjukkan pada kolom ke

- a. I
 - b. **II**
 - c. III
 - d. IV
3. Batas-batas kawasan Asia Tenggara bagian selatan adalah
- a. negara Cina
 - b. India, Bangladesh, dan Samudra Hindia
 - c. **Timor Leste, Benua Australia, dan Samudra Hindia**
 - d. Papua Nugini dan Samudra Pasifik
4. Letak Astronomi Asia Tenggara adalah...
- a. 25°LU - 08° LS
 - b. 26°LU - 09° LS
 - c. 27°LU - 10° LS
 - d. **28°LU - 11° LS**
5. Iklim yang berada di wilaya Asia Tenggara yaitu,... .
- a. Tropis
 - b. Sub tropis
 - c. Sedang
 - d. dingin
6. Berdasarkan pengamatan pada peta luas wilaya daratan Asia Tenggara adalah
- a. 4.816.000 km2
 - b. **4.817.000 km2**
 - c. 4.818.000 km2
 - d. 4.819.000 km2
7. Berdasarkan letak geografisnya Asia Tenggara diapit oleh dua benua,yaitu
- a. Artik dan atlantik

- b. Atlantik dan pasifik
 - c. **Hindia dan pasifik**
 - d. Atlantik dan Hindia
8. Di kawasan Asia Tenggara terdapat dua jenis iklim,yaitu
- a. Iklim kutub dan iklim benua
 - b. Iklim gurun dan continental
 - c. Iklim Katulistiwa dan monsoon
 - d. **Iklim kutub dan iklim katulistiwa**
9. Ciri – ciri iklim Katulistiwa adalah
- a. Udara lembab setiap 6 bulan sekali
 - b. Suhu udara di bawah 20°
 - c. Perbedaan suu udara taunan besar
 - d. **Curah hujan rata – rata 2000 mm pertahun**
10. Sedangkan ciri – ciri iklim monsoon adalah
- a. **Suhu udara tinggi sepanjang tahun**
 - b. Curah hujan rendah ,1000 mm pertahun
 - c. Terkadang terjadi ujan salju
 - d. Terjadi musim lembab dan musim kering

LAMPIRAN IV

PENILAIAN ASPEK KETRAMPILAN

JENIS TUGAS : Membuat Makalah Asia Tenggara

TEKNIK PENILAIAN : Produk

- a. Bentuk Penilaian : lembar kerja
- b. Instrumen Penilaian : Skala penilaian
- c. Rubrik Penilaian

I. Persiapan peralatan, dan tata ruang dll.
II. Kesesuaian dengan kaidah penulisan
III. Kerapian
IV. Ketajaman analisis

d. Instrumen Penilaian : Skala penilaian

NO	NAMA SISWA	SKOR				JUMLAH
		I	II	III	IV	
		10-100	10-100	10-100	10-100	

LAMPIRAN V

Jurnal Sikap Sosial (KI.2)

Contoh :

No	Waktu	Nama Siswa	Catatan Perilaku	Butir Sikap	Tindak Lanjut
1					
2					
3					
4					
Dst.					

**LAMPIRAN VI
PROGRAM REMIDIAL**

KETENTUAN :

Remedial :

Diberikan kepada siswa yang belum menuntaskan pembelajaran dalam kompetensi Dasar yang telah ditentukan.

Bentuk : Remedial Teaching dan remedial test

Pengayaan diberikan kepada siswa yang telah menyelesaikan prmbrelajarannya.

**PROGRAM PERBAIKAN
SMP NEGERI 1 GERIH**

KELAS :

TAHUN PELAJARAN : 2020/2021

No.	Tanggal	Nama siswa	Mata pelajaran Kompetensi dasar	Nilai	Keterangan	Soal Perbaikan

LAMPIRAN VII: PENGAYAAN

NO	KOMPETENSI DASAR	NAMA SISWA	HARI&TANGGAL	BENTUK PENGAYAAN	
				FEAUTURE	PRAKTEK