

RENCANA PELAKSANAAN PEMBELAJARAN

Satuan Pendidikan : SDN Kalianget Timur VII
Kelas/Semester : II (dua)/1
Tema : 4. Hidup Bersih dan Sehat
Sub Tema : 1. Hidup Bersih dan Sehat di Rumah
Pembelajaran ke- : 4
Alokasi waktu : 10 menit

A. TUJUAN PEMBELAJARAN

1. Dengan mengamati gambar atau benda-benda di sekitar, siswa dapat mengenal sisi, sudut, dan titik sudut bangun datar secara benar.
2. Dengan mengamati bentuk bangun datar, siswa dapat menentukan banyak sisi, sudut, dan titik sudut bangun datar secara benar.
3. Dengan berpedoman pada ciri bangun datar, siswa dapat mengelompokkan benda di sekitar yang termasuk bangun datar secara benar.

B. KEGIATAN PEMBELAJARAN

Kegiatan	Deskripsi Kegiatan	Alokasi Waktu
Pembukaan	<ol style="list-style-type: none">1. Guru membuka dengan salam.2. Ketua kelas menyiapkan kelas dan memimpin doa.3. Guru mengabsen siswa.4. Guru menyampaikan tujuan pembelajaran.5. Guru mengaitkan materi sebelumnya dengan materi yang akan dipelajari.	2 menit
Kegiatan Inti	<ol style="list-style-type: none">1. Siswa diminta kembali mengamati gambar pekarangan rumah yang tidak sehat sebelumnya.2. Siswa diajak mengidentifikasi gambar dan menemukan berbagai bentuk bangun datar pada gambar yang diamati.3. Siswa diberikan penjelasan tentang sisi, sudut, dan titik sudut pada bangun datar.4. Siswa diajak menghitung banyak sisi, sudut, dan titik sudut berbagai bentuk bangun datar.5. Siswa berdiskusi mengerjakan lembar kerja siswa dengan teman kelompoknya.6. Guru mengoreksi hasil kerja siswa tentang banyak sisi, sudut, dan titik sudut pada bangun datar.7. Siswa mengerjakan soal tes tulis secara individual.8. Siswa diberikan kesempatan untuk bertanya tentang materi yang belum dipahami siswa.	6 menit

Penutup	1. Guru memberikan penguatan dan bersama siswa menyimpulkan apa yang telah dipelajari siswa. 2. Siswa dengan dibantu guru melakukan refleksi. 3. Pembacaan do'a penutup dipimpin oleh salah satu siswa.	2 menit
----------------	---	---------

C. PENILAIAN PEMBELAJARAN

1. Teknik Penilaian

- a. Penilaian Sikap : Observasi pada saat proses pembelajaran
- b. Penilaian Pengetahuan : Tes tulis
- c. Penilaian Keterampilan : Unjuk kerja


2. Instrumen Penilaian

- a. Lembar Pengamatan Sikap
- b. Lembar Soal Tes Tulis
- c. Lembar Kerja Siswa

Mengetahui
Kepala Sekolah,

YUSRI, S.Pd.I.
NIP. 19641202 198703 1 003



Sumenep, 3 Januari 2022
Guru Kelas II

TIRTO WIYONO, S.Pd.
NIP. 19730720 199707 1 001

LAMPIRAN

PENILAIAN

PENILAIAN SIKAP

a. Sikap Spiritual


No.	Nama	Relegius	Berdoa	Toleransi	Ketaatan Beribadah

b. Sikap Sosial


No.	Nama	Santun	Jujur	Kerjasama	Disiplin

PENILAIAN PENGETAHUAN

Jawablah pertanyaan berikut ini dengan tepat!

1. Bangun datar persegi mempunyai ... buah sisi, ... buah sudut, dan buah titik sudut.
2. Bangun datar segitiga mempunyai ... buah sisi, ... buah sudut, dan buah titik sudut.
3.  Bangun di samping dinamakan ...

4. Trapesium mempunyai buah sisi dan ... buah sudut.

5.  Bangun di samping dinamakan ...

Kunci Jawaban

1. 4 buah sisi, 4 buah sudut, dan 4 buah titik sudut.
2. 3 buah sisi, 3 buah sudut, dan 3 buah titik sudut.
3. trapesium
4. 4 buah sisi dan 4 buah sudut.
5. jajar genjang

PENILAIAN KETERAMPILAN

1. Siswa mempraktikkan cara menghitung banyak sisi suatu bangun datar.
2. Siswa mempraktikkan cara menghitung banyak sudut suatu bangun datar.
3. Siswa mempraktikkan cara menghitung banyak titik sudut suatu bangun datar.

LEMBAR KERJA SISWA

Kelompok :

Nama Anggota:

1.

2.

3.

Isikan tabel berikut sesuai gambar!

No	Gambar Bangun	Nama Bangun Datar	Banyak Sisi	Banyak Sudut	Banyak Titik Sudut
1	
2	
3	
4	
5	