

## RENCANA PELAKSANAAN PEMBELAJARAN (RPP)

Satuan Pendidikan : SDN 2 Sawah Lama  
Kelas / Semester : V / 1 (Satu)  
Tema : Sehat itu Penting ( Tema 4)  
Sub Tema : Peredaran Darahku Sehat (Sub Tema 1)  
Pembelajaran ke : 1  
Alokasi Waktu : 10 menit

### A. TUJUAN PEMBELAJARAN

1. Setelah mengamati gambar, siswa dapat menjelaskan sistem peredaran darah manusia dengan rinci.
2. Dengan kegiatan mencari tahu, siswa dapat membedakan peredaran darah besar dan peredaran darah kecil dengan benar.
3. Setelah siswa berdiskusi, siswa dapat mempresentasikan hasil diskusi dengan percaya diri.

### B. KEGIATAN PEMBELAJARAN

Kegiatan	Deskripsi Kegiatan	Alokasi Waktu
Pra KBM	- Siswa membaca bahan ajar yang sudah dibagikan guru - Siswa menyimak video pembelajaran yang di share oleh guru	<i>online</i>
<b>Pembukaan</b>	1. Kelas diawali dengan salam dan berdoa 2. Guru mengecek kehadiran siswa 3. Guru menyampaikan topik dan tujuan pembelajaran hari ini 4. Guru dan siswa mencoba merasakan detak jantung masing-masing dengan menaruh tangan kanan ke dada kiri (apersepsi)	2 menit
<b>Inti</b>	1. Siswa mengamati gambar organ peredaran darah yang disajikan oleh guru di papan tulis 2. Siswa diberikan kesempatan untuk bertanya hal-hal yang ingin mereka ketahui 3. Siswa menyimak penjelasan guru mengenai sistem peredaran darah manusia 4. Siswa dibagi menjadi 4 kelompok yaitu: 1. jantung 2. pembuluh darah 3. peredaran darah 4. darah 5. Setiap kelompok berdiskusi mengenai tugas kelompok masing-masing 6. Setelah berdiskusi, masing-masing kelompok secara bergantian mempresentasikan hasil diskusi mereka di depan kelas 7. Siswa mengumpulkan hasil diskusi	6 menit

<b>Penutup</b>	<ol style="list-style-type: none"> <li>1. Siswa dan guru menyampaikan kesimpulan pelajaran</li> <li>2. Siswa dan guru melakukan refleksi pembelajaran dengan membuat gambar emoji mengenai perasaan siswa selama pembelajaran berlangsung</li> <li>3. Guru memberikan tindak lanjut dengan memberikan tugas</li> <li>4. Guru dan siswa menutup pelajaran dengan doa dan salam</li> </ol>	2 menit
----------------	--	---------

**C. PENILAIAN PEMBELAJARAN (ASSESMEN)**

1. Penilaian sikap : Observasi ( disiplin, percaya diri, dan tanggung jawab)
2. Penilaian pengetahuan : Tes Tertulis hasil diskusi
3. Penilaian keterampilan : Presentasi di depan kelas

Mengetahui  
Plt. Kepala SDN 2 Sawah Lama

Bandar Lampung, 3 Januari 2022  
Guru Kelas V

ISNAINI, S.Pd.  
NIP. 19661002 198703 2 004

ELA KURNIA WATI, S.Pd.  
NIP 19891205 202012 2 018

Lampiran

A. Penilaian Sikap ( Observasi )

No.	Nama	Disiplin			Tanggung jawab			Percaya diri		
		BT	MB	M	BT	MB	M	BT	MB	M
1.										
2.										
3.										
4.										
5.										

Keterangan

BT : Belum Terlihat

MB : Mulai Berkembang

M : Membudaya

B. Penilaian Pengetahuan ( Tes Tertulis )

C. Penilaian Keterampilan ( Presentasi )

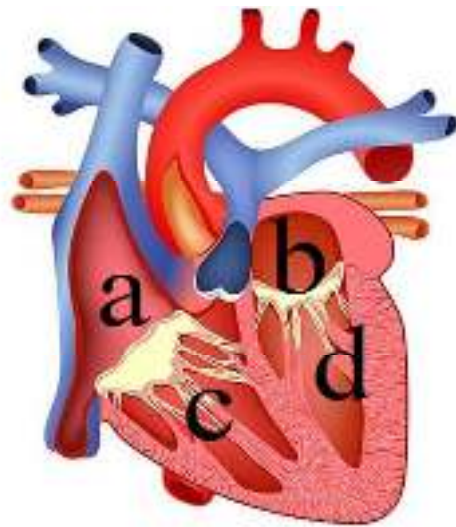
Aspek	B ( 3 )	C ( 2 )	K ( 1 )
Kelancaran dalam melaporkan	Melaporkan hasil diskusi dengan lancar	Melaporkan hasil diskusi dengan terbata-bata	Melaporkan hasil diskusi dengan terbata-bata dan tidak lancar
Penggunaan bahasa	Menggunakan bahasa yang sangat mudah dipahami	Menggunakan bahasa yang cukup mudah dipahami	Menggunakan bahasa yang sulit dipahami
Penguasaan materi	Menguasai materi dengan baik dan tersusun, tidak textbook	Kurang Menguasai materi dengan baik dan tersusun, tidak textbook	Tidak menguasai materi

LAMPIRAN LKPD TUGAS KELOMPOK

**KELOMPOK JANTUNG**

Nama anggota kelompok :

- 1. ....
- 2. ....
- 3. ....
- 4. ....
- 5. ....
- 6. ....

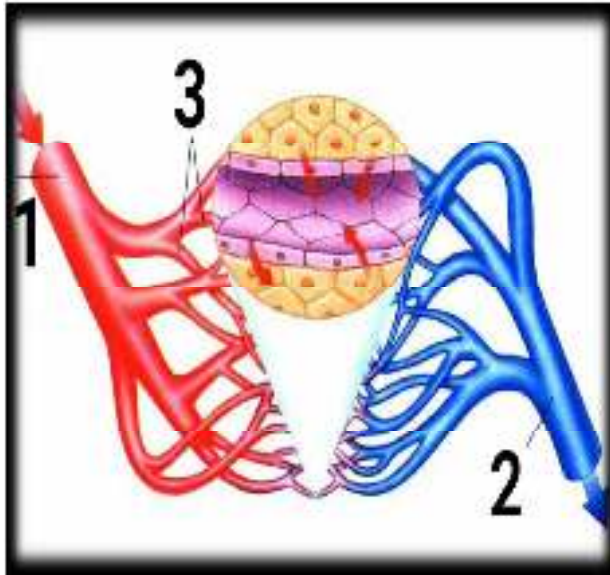


- 1. Jantung berfungsi untuk .....
- 2. Bagian-bagian jantung dan fungsinya :
  - a. ....  
Fungsinya .....
  - b. ....  
Fungsinya .....
  - c. ....  
Fungsinya .....
  - d. ....  
Fungsinya .....

## KELOMPOK PEMBULUH DARAH

Nama anggota kelompok :

1. ....
2. ....
3. ....
4. ....
5. ....
6. ....



A. Jelaskan bagian dari pembuluh darah yang ditunjukkan gambar di samping!

1. ....
2. ....
3. ....

B. Tuliskan perbedaan antara arteri dan vena dalam kolom berikut!

No.	Arteri	Vena
1.		
2.		
3.		
4.		

# KELOMPOK PEREDARAN DARAH

Nama anggota kelompok :

- 1. ....
- 2. ....
- 3. ....
- 4. ....
- 5. ....
- 6. ....



3. Buatlah bagan peredaran darah besar dan peredaran darah kecil !

A. Peredaran darah Besar

.....  
.....  
.....  
.....  
.....

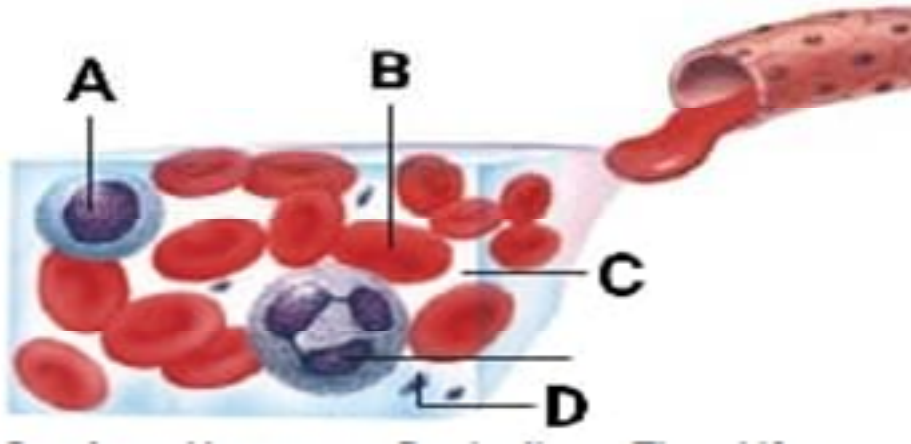
B. Peredaran Darah Kecil

.....  
.....  
.....  
.....  
.....

# KELOMPOK DARAH

Nama anggota kelompok :

1. ....
2. ....
3. ....
4. ....
5. ....
6. ....



4. Tuliskan bagian-bagian dari sel-sel darah dan fungsinya yang ditunjukkan panah di atas !

- A. ....  
Fungsinya .....
- B. ....  
Fungsinya .....
- C. ....  
Fungsinya .....
- D. ....  
Fungsinya .....