



**DINAS PENDIDIKAN DAN KEBUDAYAAN  
KECAMATAN BATUDAA**



**TAHUN PELAJARAN 2020/2021**

**PENILAIAN AKHIR SEMESTER (PAS)**

Tema : 9. Benda- benda di sekitar jita  
 Satuan Pendidikan : SDN 10 BATUDAA  
 Hari / Tanggal : , Mei 2021  
 Alokasiwaktu : Menit

**Pilihan Ganda**

***Bacalah teks di bawah ini!***

Ada dua orang sahabat melakukan perjalanan panjang. Ketika di tengah perjalanan mereka terlibat dalam suatu perdebatan. Pertengkaran itu terjadi sampai salah satu dari mereka menampar yang lainnya. Sahabat yang ditampar itu tak berkata apapun tapi menuliskan suatu kata di atas hamparan pasir. Tulisan tersebut berbunyi, "hari ini teman baikku menamparku." Walaupun mereka bertengkar, tapi tetap melanjutkan perjalanan bersama. Saat di perjalanan mereka menemukan sebuah sumber air dan memutuskan untuk mandi. Namun malang nasib teman yang ditampar tadi, ia tergelincir dan hampir tenggelam di dalam sumber air tersebut.



Melihat itu, tentu saja teman yang menampar tadi menolongnya dan ia pun selamat. "Hari ini teman baikku menyelamatkan nyawaku," ukirnya pada sebuah batu. Teman yang telah menampar dan menyelamatkan nyawanya tadi bertanya, "Mengapa saat aku menyakitimu, kamu menulis di atas pasir. Sedangkan saat aku membantu, kamu mengukirnya pada batu?" Kemudian ia menjawab, "Karena menulis di atas pasir mudah terhapus oleh sapuan angin, sedangkan mengukir di atas batu tidak mudah hilang oleh terpaan angin kencang sekalipun."

1. Tentukan setiap pernyataan berikut sesuai dengan isi teks atautkah tidak!

Pertanyaan	Sesui	Tidak Sesuai
Perjalanan kedua sahabat kemungkinan melewati padang pasir		
Kedua orang tetap bersahabat dalam kondisi marah maupun susah		
Pesan yang baik dituliskan di atas pasir, pesan yang buruk dituliskan di atas batu		

2. Pilihlah pesan-pesan yang merupakan simpulan dari isi teks !

- Jangan mengingat kesalahan orang lain terlalu lama
- Pertemanan sejati akan terbentuk setelah melewati masa perkelahian
- Persahabatan memerlukan sikap memaafkan dan membalas kebaikan
- Jika diberi kebaikan oleh orang lain harus segera membalasnya

3. Cermati pantun berikut!

*Jika ada jarum yang patah  
jangan disimpan di dalam peti  
Kalau ada kata yang salah  
jangan disimpan di dalam hati*

Apakah isi pantun tersebut sesuai dengan isi teks?

- A. Sesuai
- B. Tidak sesuai

4. Sekolah SD di Kabupaten Batang, Jawa Tengah mulai tatap muka 3 Agustus pekan depan. Hanya saja sekolah SD di zona merah belum boleh dibuka. Ia mengatakan sesuai data Dinkes Batang, saat ini ada 16 desa/kelurahan yang masih masuk zona merah, yaitu Desa Sidorejo dan Desa Pandansari, Kecamatan Warungasem, Kelurahan Kauman, Kasepuhan, dan Desa Cepoko Kuning, Kecamatan Batang.

Berapa jumlah desa yang masuk zona merah?

- A. 16 desa
- B. 17 desa
- C. 15 desa
- D. 10 desa

5. Berdasarkan gambar kebutuhan anak laki-laki kelas 5 SD memerlukan kebutuhan....

**TABEL ANGKA KECUKUPAN GIZI RATA-RATA YANG DIANJURKAN (PER ORANG PER HARI) ANAK UMUR 7 - 12 TAHUN**

Golongan Umur	Serat	Tinggi	Energi	Protein
7-9 tahun	25 kg	120 cm	1800 kkal	45 gram
10-12 tahun (Pria)	35 kg	138 cm	2050 kkal	50 gram
10-12 tahun (Wanita)	38 kg	145 cm	2050 kkal	50 gram

Sumber: Prosiding Widukarwa Nasional Pangan dan Gizi VIII Jakarta 17 - 19 Mei 2009

- A. Energi 180kkal
- B. Serat 38 Kg
- C. protein 45 gram
- D. protein 50 gram

### Isian

6. (1) Beri label kategori pada bagianbagian rak buku.  
(2) Kumpulkan buku-buku yang ada di rumah.  
(3) Pilah buku menjadi kategori-kategori tertentu.  
(4) Kini, buku terlihat rapi dan menarik di rak buku.  
(5) Letakkan buku ke dalam rak buku sesuai dengan kategori,  
Tulislah urutan cara menyusun buku yang tepat!

Jawaban dengan menuliskan angka saja tanpa spasi

..... (contoh:56789)

7. Namaku Joko. Semenjak ayahku meninggal, aku tinggal dengan ibuku dan kedua adikku. Aku sangat sayang dengan mereka. Setiap pulang sekolah aku berangkat mengamen di pinggir jalan. Walaupun mengamen aku tetap sekolah untuk menggapai cita-citaku. Aku selalu giat belajar dan bekerja untuk keluarga.

Tokoh Utama dalam cerita diatas adalah.....

- A. Ibu
- B. Adik
- C. Aku
- D. Joko

8. Mirna anak yang pandai. Setiap hari Mirnabelajar dengan penuh semangat. Sehabis pulang dari sekolah, Mirna selalu mengulang pembelajaran yang dipelajari di sekolah. Setiap tugas dan pekerjaan rumah selalu dikerjakannya tanpa bantuan orang lain.

Gagasan utama pada paragraf di atas adalah ....

- A. Setiap tugas dan pekerjaan rumah selalu dikerjakannya.
- B. Mirna anak yang pandai
- C. Mirna mengulang selalu mengulang pembelajaran
- D. Mirna belajar penuh semangat

9. Jika kamu membiarkan roti di udara terbuka untuk waktu yang lama, maka roti akan berubah warna seperti pada gambar di atas. Kesimpulan dari peristiwa tersebut adalah

...



- A. Terjadi perubahan fisika pada roti karena berubah bentuk  
 B. Terjadi perubahan fisika pada roti karena berubah warna  
 C. Terjadi perubahan kimia pada roti karena tumbuh jamur  
 D. Terjadi perubahan kimia pada roti karena menghasilkan arang
10. pernyataan yang tepat adalah

**Kebutuhan Gizi Anak Balita**

- Energi**
  - 100-120 Kkal/kg berat badan
  - sumber energi seperti nasi diberikan 3-4 piring
- Protein**
  - diberikan 4-5 porsi atau setara dengan 50g lauk, seperti :
  - telur, daging, ikan, tahu, tempe.
- Vitamin dan mineral**
  - diberikan sayuran dan buah-buahan 2-3 porsi 1 porsi buah  $\pm$  100 gr.

1 Porsi sayuran = 1 mangkuk sayuran, terdiri dari berbagai sayuran berwarna ; 1 porsi buah  $\pm$  100gr

- A. Ikan kaya akan mineral  
 B. vitamin hanya terdapat pada sayuran  
 C. Energi diperoleh dari nasi  
 D. sayuran dan buah dimakan 1 kali sehari
11. Negara Indonesia merupakan negara kepulauan, terdapat belasan ribu pulau yang terbentang dari Sabang sampai Merauke. Sehingga Indonesia memiliki aneka ragam suku, budaya, adat-istiadat dan lainnya. Walau demikian, Indonesia adalah negara yang bersatu padu. Hal itu sesuai semboyan negara Indonesia yaitu ....
- A. Garuda Pancasila  
 B. Bhineka Tunggal Ika  
 C. Gemah Ripah Loh Jinawi  
 D. Tut Wuri Handayani

**lain**

Lengkapilah kalimat – kalimat Ajakan berikut ini dengan kata- kata yang paling sesuai yang ada di dalam kotak!

12. .... penyakit dengan pola hidup sehat !  
 13. .... keluargamu untuk rajin mencuci tangan !  
 14. .... kita bersama- sama menjaga kesehatan dengan rajin makan buah dan sayuran !

Mari	Cegah	Ajaklah
------	-------	---------

15. Urutan nada yang disusun secara berjenjang, misalnya 1 2 3 4 5 6 7 I, di sebut Tangga Nada.  
 A. Benar  
 B. Salah

## Uraian

16. Perhatikan gambar di bawah ini !



Jelaskan isi iklan pada gambar diatas!

17.



Pernahkah kamu mendengarkan radio? Acara apa saja yang biasa kamu ikuti dari siaran di radio?  
Tuliskan jawabanmu di buku kerjamu, ya.

18.

Informasi bisa kamu dapatkan dari mana saja. Saat kamu menanyakan kabar teman atau kerabatmu, kamu akan mendapatkan informasi tentang keadaannya dari jawaban yang dia berikan. Saat kamu bertanya harga sebuah barang pada penjual, kamu akan mendapatkan informasi tentang harga barang yang kamu tanyakan. Begitupun saat kamu membaca berita yang disajikan di koran, radio, maupun televisi.

1. Sudahkah kamu membaca berita/informasi hari ini?

2. Berita/informasi apa yang kamu dapatkan hari ini?

19.



Tahukah kamu? Neon box ternyata ada yang berbentuk balok, lho. Coba kamu perhatikan gambar neon box berikut ini.

1. Bentuk *neon box* balok tersebut sering kita jumpai di pinggir jalan. Menurutmu mengapa dipilih model *neon box* seperti pada gambar tersebut?

- Lebih bagus
- Lebih murah
- Dapat dibaca dari dua arah jalan yang berlainan

20.



Gambar di atas merupakan salah satu contoh kegiatan gotong royong di masyarakat

A. Setuju

B. Tidak setuju


21.



Kegiatan ekonomi pada gambar di samping adalah.....

- A. Perkebunan
- B. Pertanian
- C. Peternakan
- D. perdagangan



22.  Jelaskan apa isi iklan elektronik pada gambar di samping ?

23.


1.	Pesawat _____ mengeluarkan suara sangat tinggi yang menyakitkan pendengaran manusia.	suara
2.	Bunyi ultrasonik memiliki _____ sangat tinggi sehingga tidak dapat didengar manusia.	bunyi
3.	Kami terkejut mendengar _____ gelegar petir di langit.	komunikasi
4.	Aku mengerti bahasa isyarat sehingga bisa melakukan _____ dengan temanku yang tunarungu.	ultrasonik
5.	Lumba-lumba dapat mengetahui posisi makanannya dari pantulan _____ yang dikeluarkannya.	frekuensi


Lengkapilah kalimat diatas dengan kata yang ada pada kolom di samping !

- 24.
- |   |   |   |   |
|---|---|---|---|
|  |  |  |  |
| Piket kelas   | Tawuran   | Mengejek teman  | Menghormati budaya lain   |
| 1   | 2   | 3   | 4   |

Pada gambar di atas, manakah yang mencerminkan sikap menjaga persatuan dan kesatuan

- A. 1 dan 4  
B. 1 dan 2  
C. 2 dan 3  
D. 3 dan 4

25.  Kopi dan air termasuk ke dalam golongan zat .....
- A. Tunggal  
B. Campuran  
C. Campuran homogen  
D. Campuran heterogen

26.  Menjenguk orang yang sakit merupakan salah satu contoh sikap yang mencerminkan ..... dan .....

27. Seseorang akan mendapatkan uang untuk memenuhi kehidupannya setelah ia melakukan kegiatan ekonomi lainnya, yaitu melakukan pekerjaan. Setiap manusia tidak akan terlepas dari kegiatan ekonomi. Kegiatan ekonomi tidak hanya dilakukan oleh seseorang, namun juga dilakukan oleh perusahaan, organisasi, pemerintah, bahkan negara.

Yang dimaksud dengan kegiatan ekonomi adalah...



28. Gambar di atas termasuk karya seni rupa ..... dimensi

29. Setiap individu merasa memiliki kepentingannya sendiri dan semakin tidak memedulikan kepentingan orang lain, maka dapat menimbulkan perpecahan bangsa. Setiap individu pasti memiliki kepentingannya sendiri. Akan tetapi, kita tidak boleh hanya mementingkan kepentingan diri sendiri. Kita juga harus memedulikan kepentingan orang lain.

Akibat yang ditimbulkan adalah .....

30. **Radio advertising**, merupakan iklan yang disiarkan melalui media radio, memiliki durasi yang hampir sama dengan iklan televisi namun hanya berisi suara/audio saja. Biasanya target dari iklan jenis ini adalah para anak muda s.d orang dewasa yang masih suka mendengarkan radio.

Radio termasuk jenis iklan elektronik. Yang dimaksud dengan iklan elektronik yaitu Jenis iklan yang dipublikasikan dalam....