



PEMERINTAH KOTA BANDAR LAMPUNG
DINAS PENDIDIKAN DAN KEBUDAYAAN
SDN 2 KEMILING PERMAI KEC. KEMILING
BANDAR LAMPUNG



TES SEMESTER 1/GENAP T.A 2021/2022

Hari/Tgl : Kelas : 3 (Tiga)
Mapel : Tema 3 Semester : 1 (Ganjil)

A. SOAL PILIHAN GANDA

PKn

- Memungut sampah di kelas termasuk mencerminkan sila ke...
A. 1 C. 2
B. 3 D. 4
- Terciptanya hidup rukun dan damai berkat adanya
A. Persatuan dan kesatuan. C. Gotong Royong
B. Kerjasama. D. Kerukunan
- Contoh sikap saling tolong menolong didalam rumah adalah.....
A. Merapihkan peralatan belajar C. Mencoret-coret cat dinding
B. Masa bodo. D. Membuang kertas sembarangan

Bahasa Indonesia

Teks Bacaan " Bertani Garam "

Garam dihasilkan dari air laut. Di pinggir pantai, petani garam membuat ladang garam. Ladang garam ini berbentuk tambak untuk menampung air laut. Contohnya di pantai utara Pulau Jawa, Madura, Sumatra, Sulawesi, dan pantai-pantai di daerah Nusa Tenggara. Air laut yang terkena sinar matahari akan menguap dan meninggalkan kristal-kristal garam. Untuk mendapatkan lapisan garam yang tebal, setiap hari harus ditambah air lautnya. Hal ini untuk menggantikan air laut yang menguap. Setelah sekitar 210 hari atau setelah musim kemarau berakhir.





- Bahan dasar pembuat garam ialah.....
A. Air laut B. Air sungai C. Air Sumur D. Air Danau
- Proses perubahan wujud yang terjadi pada pembuatan garam adalah....
A. Mencair B. Menguap C. Membeku D. Padat

- Pernyataan yang benar adalah berikut ini.....
A. Air yang menguap terkena sinar matahari
B. Agar garam yang dihasilkan bersih, air laut harus ditambahkan setiap hari
C. Musim penghujan, garam siap di panen
D. Garam terbuat dari Air Laut

Matematika

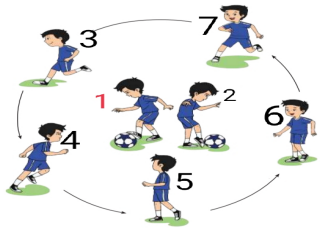
- Jarak rumah Edo kerumah temannya 5 km 300 m. Berapa jarak rumah Edo kerumah temannya dalam satuan meter.....
A. 5.300 C. 3.500
B. 5.230 D. 5.330
- 1 Kggram
A. 10.000 gram C. 1000 gram
B. 100 gram D. 10 gram
- 3.023 gram Satuan berat yang sama dibawah ini adalah.....
A. 3 kg 23 gram C. 3 kg 203 gram
B. 3 kg 230 gram D. 3 kg 200 gram

SBp

- Gambar hias dekorasi dibawah ini bermotif matahari adalah.....
A.  C. 
B.  D. 
- Simbol ketukan berirama sedang (m) adalah.....
A. 🙌 B. 🖐 C. 👉 D. 🙏
- Salah satu gerakan tangan untuk mengiringi sebuah lagu adalah....
A. 💪 B. 🖐 C. 🙌 D. 👉

PJOK

Untuk soal 13, 14 dan 15



13. Gerakan menggiring bola pada no.....

- A. 1. B. 2. C. 3. D. 4

14. Gerakan siap menerima overan bola pada no.....

- A. 2. B. 6. C. 1. D. 0

15. Permainan pada gambar merupakan contoh permainan.....

- A. Sepak Bola C. Bola tangan
B. Bola Takraw D. Bola Kasti

B. Jodohkan dengan jawaban yang tepat dan benar!

- | | |
|---|--|
| 1. Sepeda | a. Tematik |
| 2. Buku. | b. Kendaraan Roda Doa |
| 3. Mata Pelajaran. | c. Siulan |
| 4. Tuhan YME | d. Menciptakan Kita Semua serta alam semesta |
| 5. 2 Km 255 m. | e. 🖐️ |
| 6. 2 jam. | f. 2255 m |
| 7. Ketukan irama kuat (K). | g. 120 menit |
| 8. Gerakan mulut menggiring lagu. | h. Sepak Bola |
| 9. Permainan dengan menggunakan.
Gawang. | i. Tulis |
| 10. Lari. | j. Maraton |

C. ESSAY

PKn

1. Tuliskan contoh hak mu sebagai anak dirumahmu!

Bahasa Indonesia

2. Buatlah Kalimat dengan menggunakan tanda baca dibawah ini!

- a). (!) b) (:)

Matematika

3. Lengkapi titik-titik dibawah ini

- a). 2400 menit = Jam. b). 3 cm = mm

SBp

4. Gambarkan pola gambar dekorasi hewan!

PJOK

5. Tuliskan 2 gerakan dalam permainan bola tangan!

