

PENILAIAN SD KATOLIK WIJANA SEJATI MOJOKERTO

TEMA 3 SUBTEMA 3 PB 4

Nama Siswa : _____

Kelas/nomor : _____

Jawablah pertanyaan – pertanyaanberikut dengan jawaban yang paling tepat!

1. Saat pagi hari suhu udara terasa dingin. Hal itu dapat mengakibatkan titik air yang ada di udara mengalami
 - a. pengembunan
 - b. pencairan
 - c. pengkristalan
 - d. penguapan
2. Ceritakanlah secara singkat proses perubahan wujud pengembunan!
3. Saat Istirahat sekolah Roni melihat Budi terjatuh di depan kelas. Budi adalah anak yang terkenal nakal dan suka berbuat jahat kepada teman yang lain. Berikut ini sikap Roni yang terbaik terhadap Budi yaitu
 - a. Tetap menolongnya meskipun Budi anak yang nakal.
 - b. Menolongnya dengan syarat Budi harus berubah menjadi lebih baik secara sempurna.
 - c. Memberinya nasehat agar Budi segera bertobat karena kejadian yang dialaminya merupakan karma.
 - d. Mengumpatnya dengan kata-kata yang menyayat hati agar Budi tersadar akan kesalahannya.
4. Dalam sebuah kegiatan Pramuka Fanya ditunjuk sebagai ketua regu. Dalam kegiatan kelompok Fanya mendapati temannya bertengkar karena berbeda pendapat. Kemudian lebih membela sahabatnya agar hubungan mereka tetap terjalin dengan baik. Bagaimana sikap Fanya apakah sudah berbuat hal yang terbaik? Jelaskan!
5. Perhatikan gambar di bawah ini!



- Pada gambar di atas pemain menggiring bola dengan menggunakan kaki bagian
- a. dalam
 - b. luar
 - c. atas
 - d. bawah
6. Buatlah video beberapa cara menggiring bola dengan benar!

Kunci Jawaban :

1. A
2. Pengembunan terjadi akibat pendinginan uap air di udara akibat udara saat pagi. Sehingga uap air berubah bentuk menjadi titik-titik air.
3. A
4. Fanya seharusnya meluruskan bahwa berbeda pendapat adalah sebuah hal yang wajar dan tidak perlu menjadi perselisihan. Dan perbedaan pendapat justru dapat memperkaya ide dalam kelompok.
5. A
6. gerakan menggiring dengan kaki bagian dalam, bagian luar dan bagian punggung kaki.

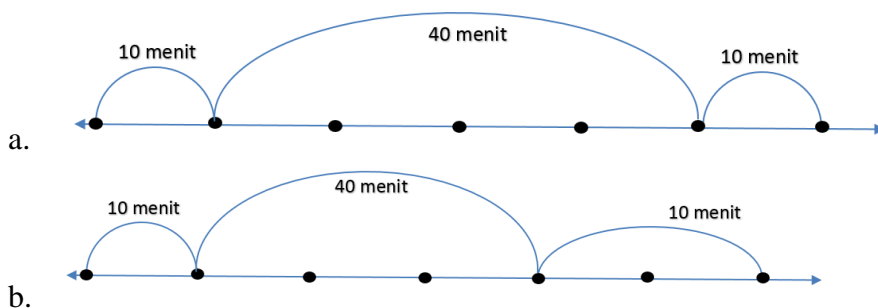
PENILAIAN SD KATOLIK WIJANA SEJATI MOJOKERTO

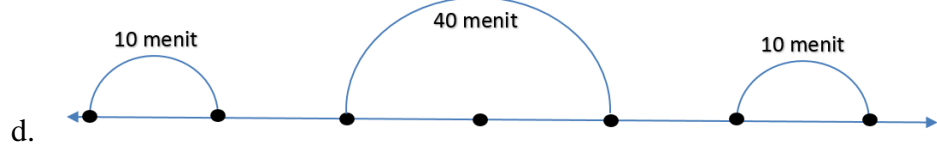
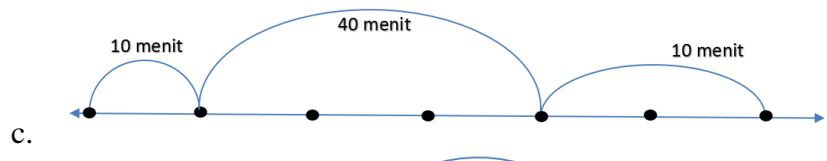
TEMA 3 SUBTEMA 3 PB 5

Nama Siswa : _____

Kelas/nomor : _____

1. Dalam proses pembuatan garam didapatkan hasil akhir berupa butiran garam. Berikut pernyataan yang tepat sesuai proses pembuatan garam yaitu
 - a. Garam dihasilkan dari proses penguapan air laut akibat panas matahari
 - b. Garam dihasilkan dari proses pembekuan air laut akibat udara panas
 - c. Garam dihasilkan melalui proses destilasi sehingga terpisah dengan air
 - d. Garam terdapat pada semua sumber air yang ada di muka bumi
2. Jelaskan proses pembuatan garam beserta perubahan yang terjadi!
3. Halil ditunjuk sebagai ketua kelas IIIA. Halil mempunyai sahabat karib bernama Frans. Mereka berdua suka bermain futsal bersama. Ketika tiba saat ulangan harian Halil kesulitan mengerjakan soal karena dia lupa belajar. Frans sudah siap karena malam sebelumnya dia sudah belajar dengan baik. Berikut sikap Frans yang tepat yaitu
 - a. Frans tetap memberi semangat Halil lalu menasehati agar lain kali tidak lupa belajar.
 - b. Frans menawarkan contekan kepada Halil agar nilainya baik.
 - c. Frans bersikap cuek karena itu merupakan kesalahan Halil sendiri.
 - d. Frans menganggap Halil tidak ada agar ia bisa menyelesaikan soal dengan jujur.
4. Erna adalah anak yang dermawan. Setiap kali ada pengemis ia selalu menyisihkan uangnya dengan ikhlas hati. Suatu ketika ia menjumpai seorang pengemis yang masih muda dan kuat. Bagaimana menurutmu sikap terbaik Erna? Jelaskan alasanmu!
5. Pak Syamsul adalah seorang guru yang letak rumahnya jauh dari sekolah. Setiap hari ia berangkat ke sekolah pada pukul 05.00. Agar tidak terlalu lelah, di tengah perjalanan ia beristirahat selama 5 menit. Ia tiba di sekolah tepat jam 06.15. Lama waktu perjalanan yang ditempuh Pak Syamsul adalah
 - a. 1 jam 10 menit
 - b. 50 menit
 - c. 1 jam 15 menit
 - d. 1 jam 20 menit
6. Bu Nili sedang mengikuti pembelajaran online dengan rincian, pembukaan selama 10 menit, pembelajaran inti 40 menit, dan penutup 10 menit. Berikut garis waktu yang mewakili kegiatan Bu Nili, yaitu





Kunci Jawaban

1. A
2. Proses pembuatan garam adalah akibat panas matahari yang menguapkan air garam / air laut. Hingga tersisa butiran garam.
3. A
4. Erna tidak langsung memberi sedekah. Seharusnya Erna lebih selektif dalam memberi sedekah. Sehingga tidak membuat mereka terbiasa meminta-minta terlebih bagi seseorang yang masih mampu bekerja.
5. A
6. A

PENILAIAN SD KATOLIK WIJANA SEJATI MOJOKERTO

TEMA 3 SUBTEMA 3 PB 6

Nama Siswa : _____

Kelas/nomor : _____

1. Di sekitar kita banyak kegiatan manusia yang melibatkan perubahan wujud benda. Berikut ini yang bukan merupakan kegiatan manusia yang melibatkan proses perubahan wujud benda yaitu...
 - a. Seorang pandai besi memukul-mukul besi untuk dijadikan pisau.
 - b. Bu Windi membuatkan anaknya es krim dengan menyimpannya di kulkas.
 - c. Pak Jul menambahkan gula pada kopinya.
 - d. Ibu menambahkan garam pada masakannya agar sedap rasanya.
2. Buatlah kalimat dengan menggunakan kata “menyublim”!
3. Perhatikan pernyataan berikut!
 1. Sumiati selalu menolong teman-teman yang satu suku dengan ikhlas hati.
 2. Hanuk suka memberi bantuan kepada teman-teman satu kelas tanpa memandang perbedaan.
 3. Frans menawarkan contekan kepada Halil agar nilainya baik.
 4. Anita suka berbagi kue kepada teman satu kelas.
 5. Abdul suka bermain futsal dan seringkali bersikap sportif bila timnya kalah.

Dari pernyataan di atas yang menunjukkan sikap bersatu, yaitu

- a. 2 dan 4
 - b. 1 dan 3
 - c. 3 dan 5
 - d. 3 dan 4
4. Laila adalah anak yang baik hati. Ia selalu rela menolong siapapun tanpa memandang perbedaan yang ada. Suatu saat Samiati sahabatnya meminta pinjaman sepeda untuk pergi mengantar bekal adiknya. Laila ingin meminjamkan namun ia juga akan menggunakannya untuk pergi membeli obat untuk ibunya.
Bagaimana menurutmu sikap terbaik Laila? Jelaskan alasanmu!
 5. Dalam sebuah jadwal kereta api tertulis bahwa jika kereta berangkat pukul 10.00 di kota A maka akan tiba 45 menit kemudian di kota B. Karena kereta api mengalami keterlambatan 15 menit. Maka kereta akan tiba di Kota B pukul
 - a. 12.00
 - b. 10.45
 - c. 12.15
 - d. 12.30
 6. Lengkapilah **tabel** kegiatan Toni berikut!

Kegiatan	Mulai	Selesai	Lama Kegiatan
Mandi Pagi	06.10	06.25	...
Sarapan Pagi	06.55	...	12 menit
Belajar di sekolah	...	12.40	5 jam 30 menit
Tidur siang	13.00	...	90 menit
Bermain	...	17.00	1 jam 15 menit

Kunci Jawaban :

1. A
2. Karena menyublim kapur barus yang ada di lemari baju Ayah mengecil.
3. A
4. Memohon pengertian kepada sahabatnya bahwa sepeda bisa dipinjam setelah membelikan ibunya obat. Karena ia akan membelikan obat untuk ibunya.
5. A
6. Kunci :
Lama Mandi pagi : 15 menit
Selesai sarapan pagi : 07.07
Mulai Belajar di sekolah : 07.10
Selesai Tidur siang : 14.30
Mulai Bermain : 15.45