

## EVALUASI 1

### TEMA 4 SUBTEMA 2 PB 1

NAMA :

NO. ABSEN :

1. “Orang yang akan pensiun tidak perlu stres. Pensiun berarti tidak bekerja, tetapi mendapat gaji. Dengan tidak berdinam lagi berarti mereka tidak memiliki beban pikiran terhadap pekerjaan dan banyak waktu luang untuk bersantai. Kalau waktu luang itu bisa dioptimalkan dengan berbagai kegiatan yang positif dan produktif, tentu orang tidak akan terkena stres.”

Gagasan utama paragraf tersebut adalah ....

- a. terkena stres karena pensiun.
  - b. mendapat gaji tanpa bekerja
  - c. tidak perlu stres menghadapi pensiun
  - d. mengoptimalkan kegiatan di masa pensiun
2. Bencana banjir lumpur akibat jebolnya tanggul Situ Gunung di Tangerang Selatan menimbulkan berbagai macam penyakit. Beberapa penyakit yang akan timbul sesudah bencana adalah diare, tufus, leptospirosis dan demam berdarah. Masalah kesehatan pada korban dan masyarakat di sekitar lokasi lokasi bencana harus segera diantisipasi. Beberapa penyakit itu muncul karena lingkungan kotor dan sumber air bersih yang tercemar lumpur.

Gagasan utama paragraf tersebut adalah ...

- a. masalah kesehatan pada korban harus diperhatikan
  - b. bencana banjir lumpur akibat jebolnya tanggul
  - c. bencana banjir lumpur menimbulkan berbagai penyakit
  - d. beberapa penyakit muncul karena lingkungan kotor
3. Bioteknologi adalah istilah yang berasal dari bahasa latin yang terdiri atas kata bio yang berarti "hidup" dan tekno yang berarti "teknologi serta logos yang berarti "ilmu. Selanjutnya bioteknologi diartikan sebagai kajian ilmu terapan yang konsen terhadap rangkaian proses biologis dalam rangka menghasilkan barang dan jasa yang menerapkan prinsip sains. Perkembangan bioteknologi tak hanya didasarkan pada cabang keilmuan biologi saja, namun juga pada disiplin ilmu terapan lainnya semisal biologi molekuler, komputer, biokimia, genetika, kimia, mikrobiologis, matematika, dan lain sebagainya

Berikut ini tanggapan yang tepat dan sesuai dengan teks adalah ....

- a. Kemajuan ilmu teknologi turut menunjang proses perkembangan bioteknolog
  - b. Pengembangan ilmu tertentu sangat membutuhkan teknologi,
  - c. Pada dasarnya bioteknologi hanya dapat dikembangkan pada tumbuhan dan hewan
  - d. Bioteknologi dikembangkan untuk kepentingan hajat hidup orang banyak
4. Perilaku boros dalam mengkonsumsi listrik harus diakhiri agar laju konsumsi listrik dapat diredam. Sebab, melonjaknya harga energi di pasar global telah membengkakkan subsidi listrik yang harus disediakan negara. Pemborosan listrik termasuk perilaku tidak terpuji. Informasi penting dari paragraf tersebut adalah ....
- a. subsidi listrik yang harus disediakan negara membengkak
  - b. perilaku boros dalam mengonsumsi listrik harus diakhiri
  - c. pemborosan termasuk perilaku tidak terpuji
  - d. harga energi dipasar global melonjak
5. Perhatikan sumber energi berikut !
- (1) Matahari
  - (2) Gelombang laut
  - (3) Tanah.
  - (4) Batuan.
  - (5) Angin.
- Listrik yang menjadi kebutuhan manusia dapat dihasilkan dari beberapa sumber, antara lain ....
- a. (1) dan (5)
  - b. (1) dan (3)
  - c. (2) dan (3)
  - d. (3) dan (4)
6. Salah satu contoh penghematan energi listrik adalah ....
- a. mematikan lampu di siang hari
  - b. menghidupkan kompor sepanjang hari
  - c. mendengarkan radio sambil tidur
  - d. menyalakan lampu sepanjang hari
7. Besar kecilnya arus listrik dinyatakan dengan ....
- a. ampere
  - b. volt
  - c. watt
  - d. ohm

8. perhatikan daftar di bawah ini !

a.

<b>NAMA PEMRAKARSA</b>	<b>NEGARA ASAL</b>
1. Adam Malik	a. Malaysia
2. Tun Abdul Razak	b. Filipina
3. Thanat Khoman	c. Indonesia
4. Narcisso Ramos	D. Thailand
5. S. Rajaratnam	e. Singapura

Pasangan yang tepat antara pemrakarsa berdirinya ASEAN dengan asal negara adalah ... .

- a. a-4 dan b--5
  - b. e-3 dan a-5
  - c. e-2 dan d-3
  - d. -5 dan c-1
9. Sikap Indonesia saat menghadapi konflik yang terjadi antara negara anggota ASEAN adalah ....
- a. mendukung negara yang berbatasan dengan Indonesia secara langsung
  - b. melucuti senjata-senjata negara tersebut agar tidak berperang
  - c. berusaha menjadi juru damai bagi kedua negara yang sedang berkonflik
  - d. membela negara yang secara ekonomi lebih kuat dan menguntungkan Indonesia
10. Contoh peran Indonesia dalam ASEAN pada bidang politik adalah ....
- a. ikut dalam usaha perdamaian di tanah Palestina
  - b. memfasilitasi upaya untuk membuat masyarakat ekonomi ASEAN (MEA)
  - c. melakukan perjanjian perdamaian dan kerjasama keamanan dengan negara Australia
  - d. memfasilitasi usaha perdamaian antara pemerintah Filipina dan gerakan pembebasan Muslim Moro
11. Pada era global, sumber daya manusia (SDM) handal merupakan kebutuhan mendasar. Usaha untuk mendapatkan SDM handal dapat dilakukan melalui berbagai cara misalnya melalui penataran, pelatihan, kursus, lokakarya, seminar, atau kegiatan sejenis. Cara yang paling efektif untuk menghasilkan SDM handal adalah melalui jalur pendidikan. Informasi tersirat dari paragraf tersebut adalah ...
12. Banyak rumah yang sekarang dilengkapi pendingin ruangan. Penggunaan pendingin ruangan misal saat siang hari termasuk salah satu perilaku yang boros listrik. Untuk mengganti penggunaan listrik pendingin ruangan tersebut, dapat dilakukan dengan cara ....

13. Jelaskan manfaat dari menghemat listrik !

14. Menurut kalian, apa yang terjadi jika umat manusia tidak mau menghemat listrik ? tuliskan pendapatmu !

15. Jelaskan peran Indonesia politik bidang di lingkup ASEAN !

Selamat Mengajar, Salam Sehat Salam Bdr

## **KUNCI JAWABAN**

1. A
2. C
3. A
4. B
5. A
6. A
7. A
8. C
9. C
10. D
11. Pada era globalisasi, negara membutuhkan SDM yang handal.
12. Membuka jendela selebar-lebanya
13. Biaya listrik menjadi rendah,, sumber energi lainnya akan tetap tersedia
14. Kehidupan umat manusia akan sengsara dan sumber energi listrik akan cepat habis
15. A. Ikut serta dalam pemberantasan narkoba
  - b. membuat perjanjian ekstradisi antar anggota ASEAN
  - c. ikut serta dalam menyelesaikan konflik di Filipina

## EVALUASI 2

### TEMA 4 SUBTEMA 2 PB 5

NAMA :

NO. ABSEN :

#### **I. Berilah tanda silang pada huruf a, b, c, atau d didepan jawaban yang benar !**

1. Berikut ini yang merupakan contoh kerja sama Indonesia dengan negara di kawasan Asia Tenggara dalam bidang politik dan keamanan adalah ....
  - a. Pendirian pabrik pupuk di Palembang Indonesia
  - b. Deklarasi Kuala Lumpur yang berisi kesepakatan kawasan Asia Tenggara yang damai, bebas dan netral
  - c. Diadakannya pesta olahraga Asia Tenggara yang berlangsung dua tahun sekali
  - d. Pertukaran pelajar antar negara-negara di kawasan Asia Tenggara secara berkelanjutan
  
2. Peran Indonesia dalam berdirinya ASEAN adalah ....
  - a. Menteri luar negeri Indonesia adalah salah satu penggagas berdirinya ASEAN
  - b. Indonesia menjadi tuan rumah berdirinya ASEAN
  - c. Indonesia menyumbang modal terbesar dalam berdirinya ASEAN
  - d. Indonesia yang mengusulkan nama ASEAN
  
3. Pasar bebas ASEAN merupakan contoh kerja sama negara-negara di kawasan Asia Tenggara dalam bidang ....
  - a. Budaya
  - b. Pendidikan
  - c. Ekonomi
  - d. Sosial
  1. AFTA
  2. Pemberantasan narkoba
  3. Mendirikan pabrik abu soda
  4. Perjanjian ekstradisi
  5. Sebagai pemrakarsa berdirinya ASEAN
  
4. Berdasarkan pernyataan di atas, yang merupakan peran Indonesia dalam bentuk kerjasama di bidang politik di lingkup ASEAN adalah ...
  - a. 1 dan 2
  - b. 3 dan 4
  - c. 2 dan 4
  - d. 1 dan 3

5. Seni yang digunakan untuk mempromosikan produk barang/jasa disebut ....
  - a. reklame
  - b. seni kriya
  - c. seni murni
  - d. Seni Terapan
  
6. Berikut ini bukan hal-hal yang perlu diperhatikan dalam membuat reklame adalah ....
  - a. memberikan hadiah bagi pembaca
  - b. tulisan harus jelas dan mudah dimengerti
  - c. bahasa yang baik dan menarik
  - d. gambar ilustrasi yang menarik



- Gambar di atas merupakan jenis poster ....
- a. niaga
  - b. kegiatan
  - c. pendidikan
  - d. propaganda

II. Isilah titik-titik di bawah ini dengan tepat !

8. Sea Games adalah contoh kerja sama yang diikuti Indonesia beserta negara-negara di kawasan Asia Tenggara dalam bidang ....
9. Poster yang berisi tentang ajakan menanam 1000 pohon disebut poster ...

III. Lakukan sesuai perintah !

10. Buatlah sebuah poster layanan masyarakat !

**Kunci Jawaban**

1. B
2. A
3. C
4. C
5. A
6. A
7. A
8. OLAHRAGA
9. KEGIATAN
10. KEBIJAKAN GURU



**EVALUASI 3....**  
**TEMA 4 SUBTEMA 3 PB 2**




NAMA :

NO. ABSEN :

**I. Berilah tanda silang pada huruf a, b, c, atau d didepan jawaban yang paling tepat !**

1. Ancaman globalisasi ekonomi terhadap negara-negara miskin akan muncul dalam bentuk ....
  - a. terciptanya sistem demokratisasi internasional dalam negara
  - b. semakin lunturnya nilai-nilai sosial budaya asli daerahnya
  - c. terwujudnya ketidakadilan dalam bidang sosial ekonomi
  - d. berkurangnya peranannya negara terhadap warga negara
  
2. Kita dapat meniru pola pikir yang baik seperti semangat kerja yang tinggi, disiplin, dan penggunaan IPTEK dari bangsa lain yang lebih maju untuk meningkatkan kemajuan bangsa. Hal tersebut merupakan dampak positif globalisasi di bidang ....
  - a. Ekonomi
  - b. Pendidikan
  - c. Politik
  - d. sosial budaya
  
3. Globalisasi telah melanda di seluruh pelosok negeri. Seluruh aspek kehidupan terkena dampak globalisasi, termasuk aspek ekonomi. Agar perekonomian negara berkembang seperti Indonesia tidak terpuruk terkena dampak globalisasi, maka yang harus kita lakukan adalah ....
  - a. Selalu menggunakan produk asing
  - b. Selalu berbelanja ke luar negeri
  - c. Memakai dan membeli produk dalam negeri
  - d. Tidak membeli produk lokal karena tidak awet
  
4. Setiap hari Minggu, Aldo selalu bersepeda bersama ayahnya. Di perjalanan Aldo melihat sebuah gambar besar dengan warna yang mencolok. yang terletak di tepi jalan, sehingga menarik perhatiannya. Obyek yang dilihat Aldo adalah ...
  - a. brosur
  - b. poster
  - c. pamflet
  - d. baliho
  
5. Poster merupakan bagian dari reklame. Ada beberapa jenis poster, mulai dari poster niaga sampai dengan poster kegiatan. Penggunaan poster disesuaikan dengan keperluan atau kebutuhan seseorang atau instansi. Di bawah ini adalah beberapa contoh poster , yang merupakan contoh poster propaganda adalah ...





6. Beni adalah anak yang aktif dalam berbagai kegiatan baik kegiatan sekolah maupun kegiatan di tempat tinggalnya. Kampung Beni akan melakukan kegiatan upacara Sedekah Bumi. Menurut tokoh masyarakat setempat, alangkah baiknya jika ritual yang dilakukan setahun sekali ini dirayakan semeriah mungkin sehingga dapat menarik wisatawan untuk datang dan menyaksikan ritual ini. Agar kegiatan ini sukses, maka yang dilakukan Beni adalah...
- Memasang pengumuman ditempat –tempat keramaian
  - Menyebarkan brosur kegiatan sedekah bumi kepada masyarakat
  - Memasang poster layanan Masyarakat diujung kampung
  - Memasang poster pendidikan di berbagai tempat disekitar kampung Beni

## II. Jawablah pertanyaan di bawah ini dengan tepat !

7. Mengapa kerja keras menjadi hal penting dalam keberagaman ekonomi?  
Jawab :
8. Apa yang dapat kita lakukan untuk bersaing di era globalisasi dalam bidang ekonomi?  
Jawab :
9. Brosur merupakan salah satu media reklame yang digunakan untuk mengenalkan suatu produk atau jasa kepada masyarakat. Brosur yang baik akan mudah dipahami oleh pembacanya. Tuliskan 3 ciri brosur yang baik !  
Jawab :
10. Baik Brosur atau pun poster selalu menggunakan tulisan yang singkat dan jelas. Mengapa demikian ?

## **KUNCI JAWABAN**

1. C
2. D
3. C
4. D
5. C
6. B
7. Karena dengan bekerja keras kita mampu memenuhi kebutuhan hidup sehari-hari
8. Dengan jalan meningkatkan kualitas barang
9. A. Warna menyolok  
B. Menggunakan kalimat yang singkat dan jelas  
C. mengandung sebuah informasi
10. Agar mudah diingat oleh pembaca