

**LEMBAR KERJA PESERTA DIDIK
(LKPD) 2
B. Indonesia**

Kelas : III (Tiga)

Semester : 1 (Satu)

Tema : 4. Kewajiban dan Hakku

Sub tema : 2. Kewajiban dan Hakku di Sekolah

Nama Siswa :

Kompetensi Dasar:



3.10 Mencermati ungkapan atau kalimat saran, masukan, dan penyelesaian masalah (sederhana) dalam teks tulis

Tujuan Pembelajaran:

Setelah menyimak penjelasan guru melalui WAG tentang kalimat saran, siswa dapat menyeleksi kalimat saran dalam teks tulis minimal 2 kalimat saran dengan tepat.

Petunjuk

- ❖ Amatilah teks “Rahasia Anak Pintar”!
- ❖ Garis bawahilah kalimat yang menunjukkan penyelesaian masalah!
- ❖ Tuliskan dalam Lembar Kerjamu!



Ayo Membaca

Ayo bacalah dengan nyaring!

Rahasia Anak Pintar

Setiap anak di kelas mu pintar dan baik hati. Ada anak pintar olah raga dan menari. Ada juga pintar matematika dan bahasa. Ada pintar bernyanyi dan berteman dengan semua orang.

Apakah kamu dapat pintar tanpa berusaha?

Semua anak ingin pintar tetapi belum tahu caranya. Jika kamu ingin pintar, inilah rahasianya. Dengarkan saat guru menjelaskan. Kerjakan tugas-tugas tepat waktu. Banyaklah membaca dan berlatih. Jangan mudah menyerah. Bertanyalah kepada gurumu. Atur juga waktu belajarmu dengan baik. Selain itu, bertemanlah dengan banyak orang.



Ayo Berikan saranmu!

Bacalah pernyataan berikut dengan teliti! Berikanlah saranmu!

1. Udin ingin pandai tentang alam sekitar. Ia tidak memiliki banyak buku.
.....
2. Lani ingin mengikuti lomba bulu tangkis. Raketnya rusak.
.....
3. Dayu mendapat kesempatan menari di depan tamu. Guru menari Dayu sedang sakit.
.....
4. Siti bertugas membaca puisi saat upacara Sumpah Pemuda. Ia belum tahu membaca puisi dengan baik.
.....
5. Edo ingin berhasil dalam belajar. Edo selalu sibuk dengan bermain.
.....

Selamat Belajar!

**LEMBAR KERJA PESERTA DIDIK
(LKPD) 2
Matematika**

Kelas : III (Tiga)
Semester : 1 (Satu)
Tema : 4. Kewajiban dan Hakku
Sub tema : 2. Kewajiban dan Hakku di Sekolah

Nama Siswa : ...

Standar Kompetensi:

4.3 Menilai apakah suatu bilangan dapat dinyatakan sebagai jumlah, selisih, hasil kali, atau hasil bagi dua bilangan cacah

Tujuan Pembelajaran:

Setelah siswa menyimak video tentang selisih dua buah bilangan cacah siswa dapat menentukan suatu bilangan sebagai selisih dari dua bilangan cacah dengan benar.

Petunjuk

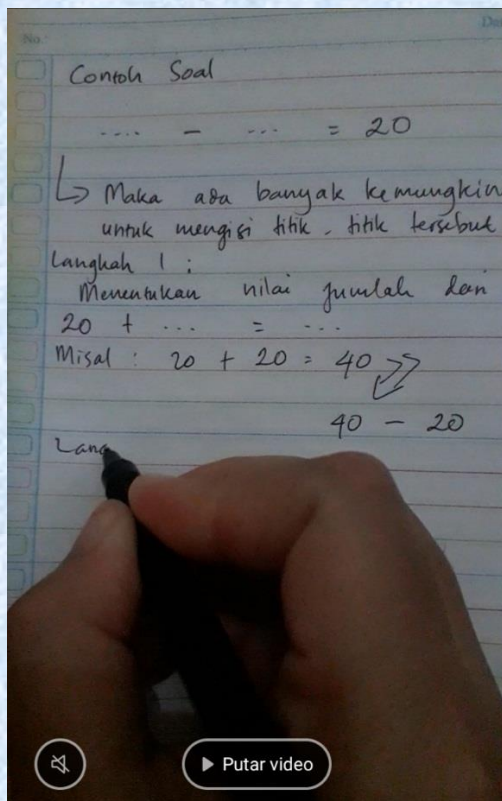
1. Bacalah teks yang telah tersedia!
2. Amati video mengenai selisih atau penjumlahan dua bilangan yang telah diketahui jawabannya!
3. Tuliskan jawabanmu pada lembar kerjamu!
4. Fotokan hasil jawabanmu!
5. Kirimkan foto jawabanmu pada WAG!

Bacalah teks di bawah ini dengan teliti!

Beni membantu Ibu Guru merapikan lemari kelas. Ia melihat persediaan kertas kelas yang tinggal sedikit. Semula tersedia 500 lembar kertas. Sisa kertas hanya 40 lembar. Waktu belajar masih tiga bulan. Mereka membutuhkan kertas untuk beberapa kegiatan kelas. Beni berpendapat mereka wajib menghemat kertas. Haruskah ibu guru membeli kertas baru? Apa saranmu?



Perhatikan contoh soal dalam video berikut!



Ayo Berlatih



Bantulah Beni dalam menyelesaikan masalahnya.

Bantulah Beni menentukan banyak kertas di awal dan yang terpakai.

Perhatikan contoh berikut:

kertas tersedia		kertas terpakai		kertas tersisa

Cerilah lima kemungkinan lain yang dapat membantu masalah Beni! Tentukan banyak kertas di awal dan tentukan banyak kertas yang terpakai!

- | | | | | | |
|----|-----|---|-----|---|----|
| 1. | ... | - | ... | = | 40 |
| 2. | ... | - | ... | = | 40 |
| 3. | ... | - | ... | = | 40 |
| 4. | ... | - | ... | = | 40 |
| 5. | ... | - | ... | = | 40 |

Selamat belajar!

**LEMBAR KERJA PESERTA DIDIK
(LKPD) 2
SBDP**

Kelas : III (Tiga)

Semester : 1 (Satu)

Tema : 4. Kewajiban dan Hakku

Sub tema : 2. Kewajiban dan Hakku di Sekolah

Nama Siswa : ...

Standar Kompetensi:

4.3 Meragakan gerak tari

Tujuan Pembelajaran:

Setelah siswa menyimak video yang diberikan guru tentang gerakan kaki, siswa dapat mempraktekan gerakan tari yang dinamis dan energik dengan penuh percaya diri.

Petunjuk :

1. Perhatikan gambar pola kaki yang terdapat pada gambar!
2. Praktekan pola langkah kaki yang terdapat pada gambar!
3. Untuk lebih jelasnya perhatikan vidio tutorial pola kaki sederhana!
4. Lakukanlah gerakan sesuai dengan contoh!
5. Vidiokanlah gerakan yang kamu peragakan!
6. Kirimlah Vidiomu ke WAG!

Amati gambar berikut! Cobalah lakukan!

Latihan Gerakan Kaki

1. Tegak berdiri, lalu berputar ke kanan dengan berjalan perlahan 8 hitungan



2. Meloncat ke kiri 2 kali, lalu berputar ke kiri 4 hitungan
Meloncat ke kanan 2 kali, lalu berputar ke kanan 4 hitungan
Ulangi gerakan sampai 4 hitungan



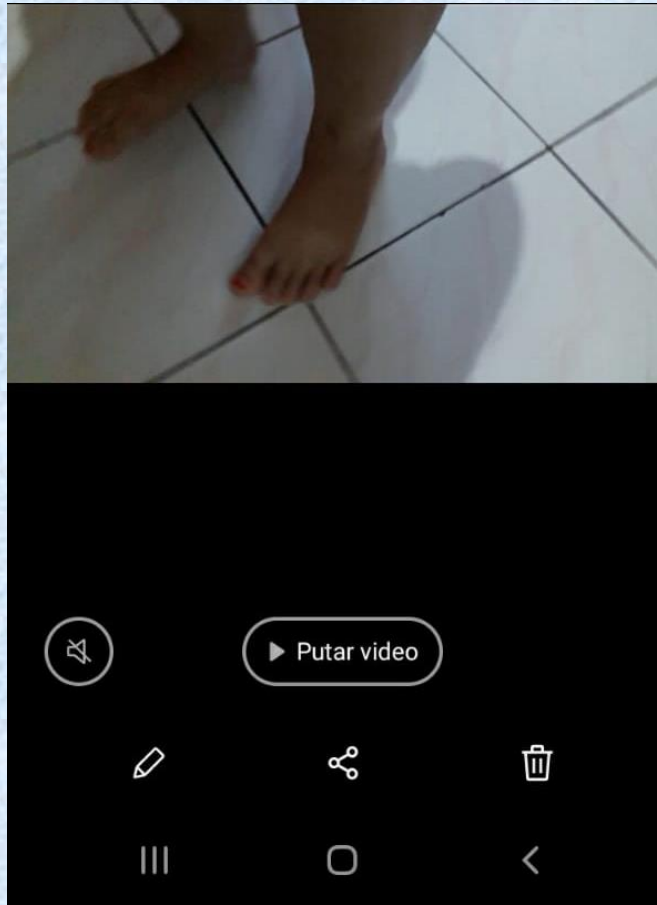
3. Melompat ke kiri 2 kali, lalu berputar ke kiri 4 hitungan
Melompat ke kanan 2 kali, lalu berputar ke kanan 4 hitungan
Ulangi gerakan sampai 4 hitungan



60/

4. Kembali ke gerakan pertama
5. Kamu dapat menciptakan gerakan kaki sesuai keinginanmu

Untuk lebih jelasnya mari perhatikan vidio ini!



**Selamat
berlatih**