

LEMBAR KERJA PESERTA DIDIK (LKPD)

AKU DAN KEBERSIHAN RUMAHKU

Kelas II Tema 4 Subtema 1 Pembelajaran 4

Hidup Bersih dan Sehat di Rumah



Pembelajaran daring berbasis HOTS, TPACK, STEAM, 4C

Disusun oleh :

Aminah Satiti Handayani

20040402710099

3B

Nama Siswa :

Nomor Absen :

Petunjuk Penggunaan

- ☑ Berdoa sebelum memulai
- ☑ Bacalah dengan teliti semua langkah kerja di LKPD
- ☑ Siapkan gawai
- ☑ Pastikan kuota dan signal memadai
- ☑ Tayangan video dapat dilihat dengan menge-klik link
- ☑ Dokumentasikan hasil kerjamu

Kompetensi Dasar

- ☒ Mengenal kosakata dan konsep tentang lingkungan sehat dan lingkungan tidak sehat di lingkungan sekitar serta cara menjaga Kesehatan lingkungan dalam bahasa Indonesia atau bahasa daerah melalui teks tulis, lisan, dan visual.
- ☒ Menyajikan penggunaan kosakata bahasa Indonesia yang tepat atau bahasa daerah hasil pengamatan tentang lingkungan sehat dan lingkungan tidak sehat di lingkungan sekitar serta cara menjaga kesehatan lingkungan dalam bentuk teks tulis, lisan, dan visual.
- ☒ Menjelaskan bangun datar dan bangun ruang berdasarkan ciri-cirinya.
- ☒ Mengklasifikasi bangun datar dan bangun ruang berdasarkan ciri-cirinya.

Indikator Pencapaian Kompetensi

- * Menelaah konsep lingkungan tidak sehat.
- * Menyebutkan kosakata tentang lingkungan tidak sehat dari bacaan.
- * Membuat laporan yang berkaitan dengan lingkungan tidak bersih.
- * Menelaah konsep lingkungan tidak sehat.
- * Menyebutkan kosakata tentang lingkungan tidak sehat dari bacaan.
- * Menganalisis bangun datar berdasarkan ciri-ciri yang dimiliki.
- * Mengelompokkan benda di sekitar sesuai dengan jenis bangun datar.

Tujuan LKPD

- Menyebutkan kosakata tentang lingkungan tidak sehat.
- Membuat laporan yang berkaitan dengan lingkungan tidak bersih.
- Menganalisis bangun datar berdasarkan ciri-ciri yang dimiliki.
- Mengelompokkan benda di sekitar sesuai dengan jenis bangun datar.

Baca dan amati!

Gambar halaman rumah yang tidak bersih. Banyak sampah di depan rumah. Sampah yang berserakan ada yang berupa daun, botol plastik, bungkus makanan, kertas, dan sisa makanan. Bentuk sampah juga bermacam-macam. Ada yang tidak beraturan. Ada juga yang beraturan seperti bangun datar. Contohnya bangun datar segi empat dan segitiga.

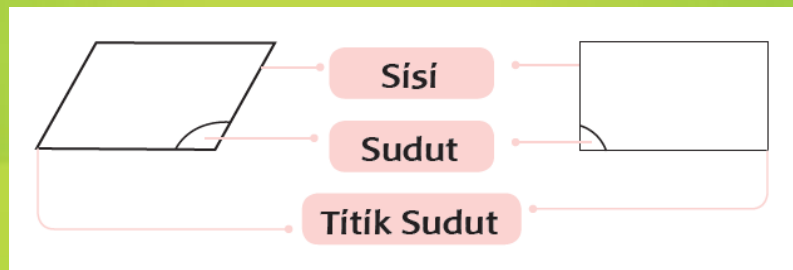


Setelah mengamati gambar, sebutkan kata-kata yang berhubungan dengan lingkungan tidak bersih.

Tuliskan ciri-ciri lingkungan rumah yang tidak bersih!

Tuliskan cara agar lingkungan rumah menjadi bersih dan sehat!



Beberapa benda pada gambar di atas berbentuk segiempat. Betul begitu? Contohnya jendela, pintu, dan kaca. Tahukah kamu, bangun datar memiliki sisi, sudut, dan titik sudut. Perhatikan keterangan berikut ini :






Atau kalian juga dapat melihat video dengan menge-klik pada link berikut ini : <https://www.youtube.com/watch?v=ssmyH341b5E>

Setelah mengamati video

Hitunglah jumlah sisi, sudut, dan titik sudut pada bangun datar berikut yaa..

	Banyak sisi = Banyak sudut = Banyak titik sudut =
	Banyak sisi = Banyak sudut =

	Banyak titik sudut =
	Banyak sisi = Banyak sudut = Banyak titik sudut =
	Banyak sisi = Banyak sudut = Banyak titik sudut =
	Banyak sisi = Banyak sudut = Banyak titik sudut =

Dari gambar di atas, jawablah pertanyaan berikut :

- ❖ Ada bangun datar yang memiliki 4 sisi, 4 sudut, 4 titik sudut.
- ❖ Bangun datar tersebut disebut ...
- ❖ Ada ... bangun datar yang memiliki 3 sisi, 3 sudut, dan 3 titik sudut.
- ❖ Bangun datar tersebut disebut ...

Mengelompokkan benda

Kelompokkan benda-benda di bawah ini sesuai dengan banyak sisi, sudut, dan titik sudut yang sama!

<p>Permukaan meja</p> 	<p>Penggaris</p> 	<p>Mainan</p> 
<p>Sisi dalam gantungan baju</p> 	<p>Sisi samping serok sampah</p> 	<p>Keramik lantai</p> 

Masukkan nama benda-benda di atas pada tabel berikut sesuai dengan jenis bangun datar!

Segitiga	Segiempat

