



LEMBAR KERJA PESERTA DIDIK



Satuan pendidikan : SDN Wirogunan 03
Kelas / semester : I / I
Tema : 3. Kegiatanku
Sub Tema : 3. Kegiatan Sore Hari
Pembelajaran : 6 (PPKN dan Matematika)
Alokasi waktu : 2 x 35 menit



LEMBAR KERJA PESERTA DIDIK

Satuan pendidikan : SDN Wirogunan 03
Kelas / semester : I / I
Tema : 3. Kegiatanku
Sub Tema : 3. Kegiatan Sore Hari
Pembelajaran : 6 (PPKn dan Matematika)
Alokasi waktu : 2 x 35 menit

Muatan	Kompetensi Dasar	Indikator	Tujuan	LKPD
PPKn	3.2 Memahami aturan yang berlaku dalam kehidupan sehari-hari di rumah 4.2 Melakukan kegiatan sesuai dengan aturan yang berlaku dalam kehidupan sehari-hari di rumah	3.2.1 Menentukan kegiatan sore hari yang sesuai dengan aturan yang berlaku di rumah 4.2.1 Menunjukkan kegiatan sore hari sesuai dengan aturan yang berlaku di rumah	1. Melalui tanya jawab dan diskusi, siswa mampu menentukan kegiatan sore hari yang sesuai dengan aturan yang berlaku di rumah 2. Melalui bercerita, siswa mampu menunjukkan kegiatan sore hari yang sesuai dengan aturan yang berlaku di rumah	LKPD 1: Menceritakan kebiasaan sore hari saat menyambut orang tua pulang kerja di sore hari. LKPD 2: Menentukan sikap yang baik dalam menyambut orang tua.

<p>Matematika</p>	<p>3.3 Membandingkan dua bilangan sampai dua angka dengan menggunakan kumpulan benda-benda konkret</p> <p>4.3 Mengurutkan bilangan-bilangan sampai dua angka dari bilangan terkecil ke bilangan terbesar atau sebaliknya dengan menggunakan kumpulan benda-benda konkret</p>	<p>3.3.6 Membandingkan dua bilangan dengan istilah kurang dari, lebih dari, atau sama dengan (11 sampai 20)</p> <p>4.3.6 Menerapkan konsep kurang dari, lebih dari, dan sama dengan menggunakan simbol $<$, $>$, atau $=$ secara tepat pada bilangan 11 sampai 20</p>	<ol style="list-style-type: none"> 1. Membandingkan dua bilangan dengan istilah lebih dari, kurang dari, atau sama dengan (11 sampai 20) 2. Menerapkan konsep lebih dari, kurang dari, dan sama dengan secara tepat pada bilangan 11 sampai 20. 	<p>LKPD 3: Membandingkan dua bilangan dengan istilah lebih dari, kurang dari, atau sama dengan (11 sampai 20)</p>
--------------------------	--	--	---	---

LEMBAR KERJA PESERTA DIDIK

1

Satuan pendidikan : SDN Wirogunan 03
Kelas / semester : I / I
Tema : 3. Kegiatanku
Sub Tema : 3. Kegiatan Sore Hari
Kegiatan : Menceritakan kebiasaan di sore hari saat menyambut orang tua pulang kerja.

Petunjuk Mengerjakan

1. Siapkanlah alat tulis!
2. Tuliskan namamu dalam Lembar Tugas Peserta Didik (LKPD) ini!
3. Kerjakan Lembar Tugas Peserta Didik (LKPD) ini secara kelompok !
4. Ceritakan kebiasaanmu dirumah ketika sore hari saat menyambut orang tua pulang kerja!



Ayo Ceritakan

Nama Anggota:

- 1.
- 2.

Blank area for writing the story, containing several horizontal blue lines.

Nilai	Paraf Orang Tua	Paraf Guru

LEMBAR KERJA PESERTA DIDIK

2

Satuan pendidikan : SDN Wirogunan 03
Kelas / semester : I / I
Tema : 3. Kegiatanku
Sub Tema : 3. Kegiatan Sore Hari
Kegiatan : Menentukan sikap yang baik dalam menyambut orang tua

Nama Anggota:

- 1.
- 2.

Petunjuk Mengerjakan

1. Tuliskan nama dalam Lembar Tugas Peserta Didik (LKPD) ini!
2. Berilah tanda centang (✓) pada gambar yang menunjukkan perilaku yang baik menyambut orang tua dan tanda silang (x) pada perilaku yang kurang baik.
3. Tuliskan alasanmu pada masing-masing gambar, seperti contoh.
4. Kerjakan Lembar Tugas Peserta Didik (LKPD) ini secara kelompok !
5. Kemukakan hasil diskusi kalian di depan kelas!

Contoh:



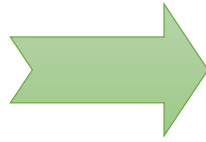
Termasuk perilaku terpuji
atau baik

Ayo Kerjakan





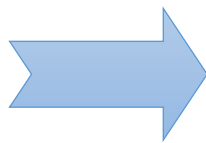
Bertengkar dengan adik




Membawakan tas kerja ibu



Marah-marah karena ayah telat





Menyambut ayah dengan riang

Nilai	Paraf Orang Tua	Paraf Guru

LEMBAR KERJA PESERTA DIDIK

3

Satuan pendidikan : SDN Wirogunan 03
Kelas / semester : I / I
Tema : 3. Kegiatanku
Sub Tema : 3. Kegiatan Sore Hari
Tanggal :
Kegiatan : Membandingkan dua bilangan (11 sampai 20)

Nama :
No. Urut :

Petunjuk Mengerjakan

1. Tuliskan namamu dalam Lembar Tugas Peserta Didik (LKPD) ini!
2. Perhatikan contoh berikut:

$$15 > 12$$

Dibaca 15 lebih dari 12

$$11 < 15$$

Dibaca 11 kurang dari 15

3. Berilah tanda lebih dari (>) atau kurang dari (<) pada soal 1 sampai dengan 4!
4. Lengkapi dengan bilangan yang tepat pada soal 5 sampai dengan 8!
5. Kerjakan Lembar Tugas Peserta Didik (LKPD) ini secara individu !



1. $14 \dots 16$

5. $\dots > 13$

2. $19 \dots 15$

6. $15 < \dots$

3. $17 \dots 13$

7. $\dots < 14$

4. $12 \dots 11$

8. $\dots > \dots$

Nilai	Paraf Orang Tua	Paraf Guru