

**LEMBAR KERJA PESERTA DIDIK  
(LKPD)**



**Oleh Siti Zulakhah  
20021802710083  
114-027-GURU KELAS SD 5**

**PROGRAM PROFESI GURU (PPG) DALAM JABATAN  
ANGKATAN 3**

**UNIVERSITAS PENDIDIKAN INDONESIA  
2020**



**Lembar Kerja Peserta Didik  
(LKPD)**

Sekolah	: SDN 3 Anjatan
Kelas/Semester	: 1 / 1
Tema	: 4. Keluargaku
Sub Tema	: 4. Kebersamaan dalam keluarga
Pembelajaran	: 3
Alokasi Waktu	: 2 jam pembelajaran
Muatan Pembelajaran	: PPKn, Bahasa Indonesia, Matematika

#### A. Tujuan Pembelajaran

1. Dengan teks bergambar, siswa mampu menunjukkan ungkapan terima kasih dengan baik.
2. Dengan mengisi latihan di LKPD mengenal berat benda dengan satuan tidak baku maka siswa mampu membandingkan lebih dari dua objek benda/situasi konkret dengan menggunakan kalimat sehari-hari (paling berat, ringan) dengan baik
3. Dengan mengisi LKPD, siswa mampu mengurutkan benda berdasarkan berat benda (lebih ringan, lebih berat) dengan baik
4. Dengan mendata teman dalam membantu orang tua membersihkan rumah, siswa mampu menjelaskan hal-hal yang harus dilakukan dalam hubungannya dengan kebersihan rumah dengan benar.
5. Dengan mengamati gambar dan mengerjakan latihan di buku siswa mengenai penggunaan alas kaki, siswa mampu menggunakan alas kaki dalam kegiatan di luar rumah dengan baik dan benar.

#### Petunjuk Penggunaan LKPD

1. Berdoalah dengan khusyuk setiap akan memulai pembelajaran



2. Bacalah secara cermat dan teliti petunjuk langkah-langkah sebelum melakukan kegiatan
3. Bacalah buku siswa kelas 1 tema 4. Keluargaku. Subtema 4 Kebersamaan dalam keluarga pada PB 3 dan sumber lainnya yang relevan.
4. Kerjakan LKPD dengan tepat dan penuh tanggung jawab.

5. Dengan menyimak penjelasan guru



### Kegiatanku 1





Apa yang kamu lakukan saat berbuat salah .....



Berilah tanda (√) pada gambar yang sesuai




### Kegiatanku 2



Berilah Tanda centang (√) untuk benda yang lebih berat

1	 <input type="checkbox"/>	 <input type="checkbox"/>
2	 <input type="checkbox"/>	 <input type="checkbox"/>

3	 <input data-bbox="683 407 784 464" type="checkbox"/>	 <input data-bbox="1219 407 1320 464" type="checkbox"/>
---	---	--

Berilah Tanda centang (✓) untuk benda yang lebih ringan

4	 <input data-bbox="703 867 803 924" type="checkbox"/>	 <input data-bbox="1219 867 1320 924" type="checkbox"/>
---	---	--

5	 <input data-bbox="695 1276 795 1333" type="checkbox"/>	 <input data-bbox="1222 1287 1323 1344" type="checkbox"/>
---	--	---

# Kegiatanku 3

Pilihlah alas kaki yang benar dibawah ini

Dengan membuat garis →



Nilai	Paraf Guru	Paraf Orang Tua

*\*Selamat mengerjakan\**