

LEMBAR KERJA PESERTA DIDIK
KELAS 2 TEMA 4
SUBTEMA 1 PEMBELAJARAN 3



Nama : _____

Kelas : _____

No Absen : _____

SDN CIAUL KECAMATAN RUMPIN

LEMBAR KERJA PESERTA DIDIK

KELAS/SEMESTER : II/1 (Satu)
TEMA : 4. Hidup Bersih dan Sehat
SUBTEMA : 1. Hidup Bersih dan Sehat di Rumah
PEMBELAJARAN : 3 (Tiga)

Muatan Pelajaran	Tujuan Pembelajaran
SBdP	<ul style="list-style-type: none">➤ Dengan mendengarkan contoh dan melihat partitur lagu “membuang sampah”, siswa dapat menentukan tekanan kuat dan lemah pada lagu anak-anak dengan tepat.➤ Dengan mencermati lagu anak “membuang sampah” dan menyanyikan bersama, siswa dapat menyuarakan tekanan kuat dan lemah pada lagu anak-anak dengan benar.
Bahasa Indonesia	<ul style="list-style-type: none">➤ Dengan mengamati gambar rumah tidak sehat, siswa dapat Menyebutkan beberapa hal tentang rumah tidak sehat dengan benar➤ Melalui penugasan, siswa dapat mencatat isi teks yang berkaitan dengan rumah yang tidak sehat menggunakan bahasa tulis dengan tepat➤ Dengan mengamati gambar rumah tidak sehat, siswa mampu membuat kalimat dengan kosakata yang berhubungan dengan rumah tidak sehat secara baik dan benar
Matematika	<ul style="list-style-type: none">➤ Melalui penugasan pada LKPD, siswa dapat menghitung jumlah ruas garis yang membatasi model bangun datar secara benar➤ Melalui pengamatan gambar bangun datar, siswa dapat mengidentifikasi ruas garis yang membatasi model bangun datar secara benar.



shutterstock.com • 547470640

PETUNJUK BELAJAR



Anak hebat, biasakan berdo'a sebelum dan setelah menggunakan modul, ya!



Cermati dan pahami setiap petunjuk pada LKPD



Coba kerjakan semua kegiatan dengan bersemangat ya! Kamu boleh bertanya kepada orang-orang di sekitarmu jika ada hal yang kurang



LKPD 1 Menentukan Tekanan Lemah dan Kuat Pada Lagu

Langkah Kerja

1. Amati video yang dibagikan guru melalui WAG. (<https://www.youtube.com/watch?v=J-aHf2MB6I4>)
2. Berilah tanda **_____** di bawah syair yang dinyanyikan keras, tanda **~~~~~** pada syair yang dinyanyikan lembut, dan jangan beri tanda di bawah syair yang dinyanyikan biasa!
3. Foto hasil kerjamu kemudian kirim ke WAG kelas!

Membuang Sampah

do = C 2/4 sedang Syair dan Lagu: A.T Mahmud


1 1 3 5 | 6 5 3 | 2 2 1 2 | 3 . 0 |
Ja-nan mem-bu - ang sam-pah di ma-na ma - na

1 1 3 5 | 6 5 3 | 4 4 3 2 | 1 . 0 |
Ja - ga - lah ke - ber-sih - an di ling-ku-ngan-mu

2 2 . 3 | 4 4 4 | 3 3 . 4 | 5 5 5 |
Sam-pah di ru - mah-mu sam-pah di - ha - la - man

6 1̇ 7 6 | 5 3 . 3 | 4 6 5 4 | 3 . 0 |
Sa - pu dan ber-sih-kan bu-ang di tem-pat - nya

6 1̇ 7 6 | 5 3 . 3 | 4 4 3 2 | 1 . 0 |
Sa - pu dan ber-sih-kan bu-ang di tem-pat - nya



Nah sekarang kalian sudah paham kan bagian mana yang dinyanyikan keras, lembut dan biasa? Sekarang kamu nyanyikan lagu "Membuang Sampah" dan rekam dalam bentuk video, selanjutnya kirimkan melalui WAG!



shutterstock.com • 547470640

LKPD 2 Membuat Kalimat dengan Menggunakan Kosakata Tentang Rumah Tidak Sehat

Langkah Kerja

1. Amati gambar di bawah ini!



2. Jawablah pertanyaan terkait gambar di atas!
 - a. Bagaimanakah keadaan rumah di atas?
Jawab :
 - b. Apakah keadaan rumah seperti pada gambar termasuk rumah sehat?
Jawab :
 - c. Apa yang seharusnya dilakukan ketika melihat keadaan rumah seperti gambar di atas?
Jawab :
3. Selanjutnya kita akan membuat kalimat menggunakan kosakata yang berhubungan dengan rumah yang tidak sehat!
4. Perhatikan contoh berikut ini!
Contoh: Bau
Kata : Bau
Kalimat : Kaus kakiku **bau** karena belum dicuci.
5. Setelah mengamati contoh, buatlah kalimat menggunakan kata di bawah ini!
6. Kata yang harus kalian gunakan adalah :

Sampah

Kotor

Berantakan

Busuk

Penyakit

TULISLAH JAWABANMU!

1. Kata :

Kalimat :

2. Kata :

Kalimat :

3. Kata :

Kalimat :

4. Kata :

Kalimat :

5. Kata :

Kalimat :

7. Setelah selesai membuat kalimat, kamu foto hasil kerjamu, lalu kirim fotonya melalui WAG!








shutterstock.com • 547470640

LKPD 3 Menghitung Jumlah Ruas Garis pada Bangun Datar

Langkah Kerja

1. Amatilah gambar bangun datar di bawah ini!
2. Hitunglah jumlah ruas garis pada bangun datar!
3. Tulislah jumlah ruas garis pada bangun datar di kolom yang sudah disediakan!

No	Nama Bangun Datar	Gambar	Jumlah Ruas Garis
1	Persegi	
2	Segitga	
3	Trapesium	
4	Jajar Genjang	
5	Segienam	

4. Setelah selesai, kamu foto hasil kerjamu, lalu kirim fotonya melalui WAG!

Sumber Bahan Ajar :

1. Buku Pedoman Guru Tema 4 Kelas 2 dan Buku Siswa Tema 4 Kelas 2 (Buku Tematik Terpadu Kurikulum 2013, Jakarta: Kementerian Pendidikan dan Kebudayaan, 2017).
2. <https://www.youtube.com/watch?v=J-aHf2MB6I4>