

Lembar Kerja Peserta Didik

(L K P D)

Hidup Bersih dan Sehat di Tempat Bermain



KELAS 2

TEMA 4 SUB TEMA 3

PEMBELAJARAN 4

Nama: 1.....

2.....

3.....

4.....

LEMBAR KERJA PESERTA DIDIK "Polusi Udara"

Nama Sekolah: SDN Tembelang 01

Kelas / semester : II (Dua) / 1

Tema : 4. Hidup Bersih dan Sehat.

Sub Tema : 3. Hidup Bersih dan Sehat di Tempat Bermain

Pembelajaran : Bahasa Indonesia

Kegiatan : Mengamati gambar

PETUNJUK MENERJAKAN!

1. Tulislah nama pada pojok kanan atas!
2. Diskusikan bersama dengan teman kelompok
3. Laporkan hasil pekerjaanmu di depan kelas

Tujuan Kegiatan:

Dengan mengamati gambar, siswa dapat menuliskan hasil pengamatannya tentang polusi udara

Gambar yang diamati:



Informasi apa saja
yang kamu Peroleh
dari gambar di samping?

Nama Siswa:.....

No Absen :.....

LEMBAR KERJA PESERTA DIDIK

“Karya Seni Tiga Dimensi”

Nama Sekolah: SDN Tembelang 01

Kelas / semester : II (Dua) / 1

Tema : 4. Hidup Bersih dan Sehat.

Sub Tema : 3. Hidup Bersih dan Sehat di Tempat Bermain

Pembelajaran : SBDP

Kegiatan : Membuat Benda dengan Plastisin

PETUNJUK MENERJAKAN!

1. Tulislah nama pada pojok kanan atas!
2. Gambarlah benda yang ada di sekitarmu!
3. Serahkan pekerjaanmu kepada guru

Tujuan kegiatan

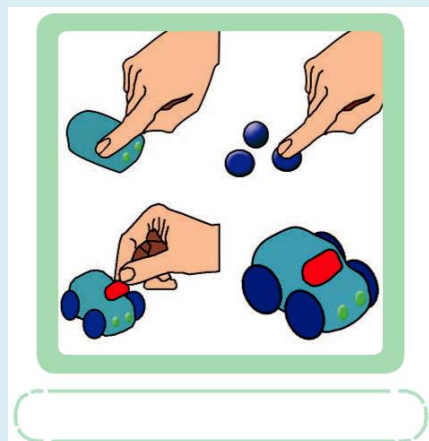

Siswa dapat membuat karya seni tiga dimensi dengan menggunakan plastisin

Bahan : Plastisin

Langkah Kerja

1. Siapkan gambar model yang ingin di bentuk. Misal gambar mobil,tempat sampah atau yang lainnya.
2. Ambil plastisin sesuai warna
3. Bentuklah plastisin sesuai bentuk yang diinginkan. Misal mobil, tempat sampah atau yang lainnya
4. Ratakan / haluskan sesuai model yang sebenarnya.

Contoh:



Nama Siswa:.....

No Absen :.....

LEMBAR KERJA PESERTA DIDIK

“Rusuk, sisi dan Titik Sudut pada Bangun Ruang”

Nama Sekolah: SDN Tembelang 01

Kelas / semester : II (Dua) / 1

Tema : 4. Hidup Bersih dan Sehat.

Sub Tema : 3. Hidup Bersih dan Sehat di Tempat Bermain

Pembelajaran : Matematika

Kegiatan : Menghitung banyaknya rusuk, sisi, dan titik sudut pada bangun ruang

PETUNJUK MENERJAKAN!

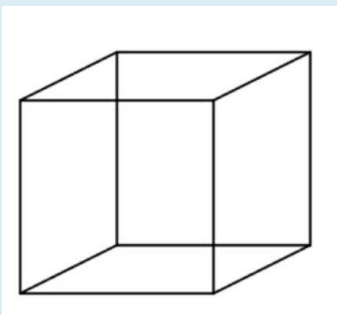
1. Tulislah nama pada pojok kanan atas!
2. Kerjakan Soal pada LJK!
3. Serahkan pekerjaanmu kepada guru

Tujuan Kegiatan

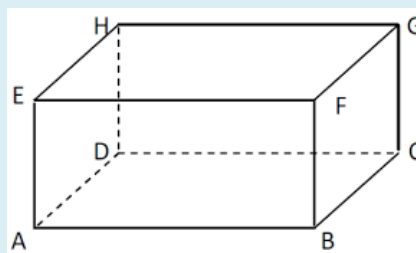
Dengan mengamati gambar bangun ruang, siswa dapat menemukan banyaknya jumlah rusuk, sisi, dan titik sudut pada bangun ruang

Bahan : Gambar

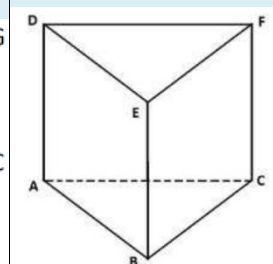
1. Kubus



2. Balok



3. Prisma segi tiga

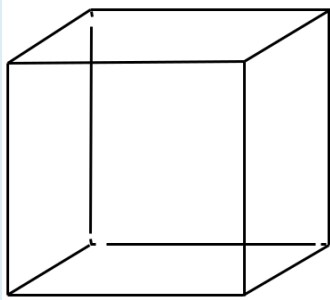


Langkah Kerja

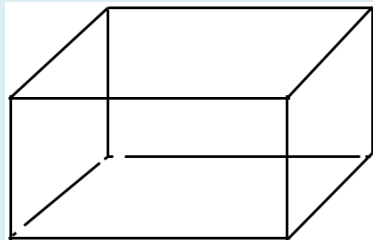
1. Hitunglah banyaknya rusuk pada bangun ruang ruang tersebut
Cara menghitungnya sama dengan pada saat menghitung ruas garis bangun ruang
2. Hitunglah sisi bangun ruang tersebut

Sisi depan + sisi belakang + sisi samping kanan + sisi samping kiri + sisi bawah + sisi atas

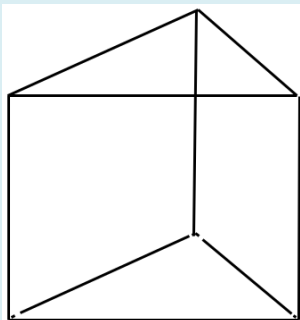
3. Hitunglah titik sudut bangun ruang tersebut
4. Tulislah hasil pengamatanmu dibawah ini



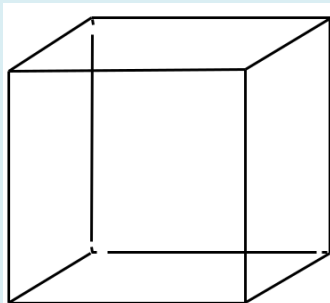
Banyak rusuk =.....
Banyak sisi =.....
Banyak titik sudut=.....



Banyak rusuk =.....
Banyak sisi =.....
Banyak titik sudut=.....



Banyak rusuk =.....
Banyak sisi =.....
Banyak titik sudut =.....



Banyak rusuk =.....
Banyak sisi =.....
Banyak titik sudut=.....