

**LEMBAR KERJA  
PESERTA DIDIK  
(LKPD)**

**KELAS 2 TEMA 4  
HIDUP BERSIH DAN SEHAT  
SUBTEMA 1  
PEMBELAJARAN 1**

**NAMA** : .....

**KELAS** : .....



Nama : **Nurmaidah**  
No Peserta PPG : 20026102710015

## LKPD KELAS 2

### TEMA 4 SUBTEMA 1 PEMBELAJARAN 1

Nama Siswa : .....

Hari, tanggal : .....



## Bahasa Indonesia



### Tujuan Pembelajaran

Melalui penugasan (membaca teks), siswa dapat menacatat isi teks yang berkaitan dengan lingkungan sehat dengan bahasa tulis secara tepat.

### Alat dan Bahan

1. Pensil
2. Penghapus
3. Buku tulis
4. Teks bacaan

### Langkah Kegiatan:

1. Bacalah teks di bawah ini
2. Lalu tuliskan 5 kosakata yang berkaitan dengan lingkungan sehat yang terdapat dalam isi teks1
3. Tuliskan 5 kosakata yang telah kamu temukan dalam kotak yang telah disediakan!



### Rumah yang Bersih Menyehatkan

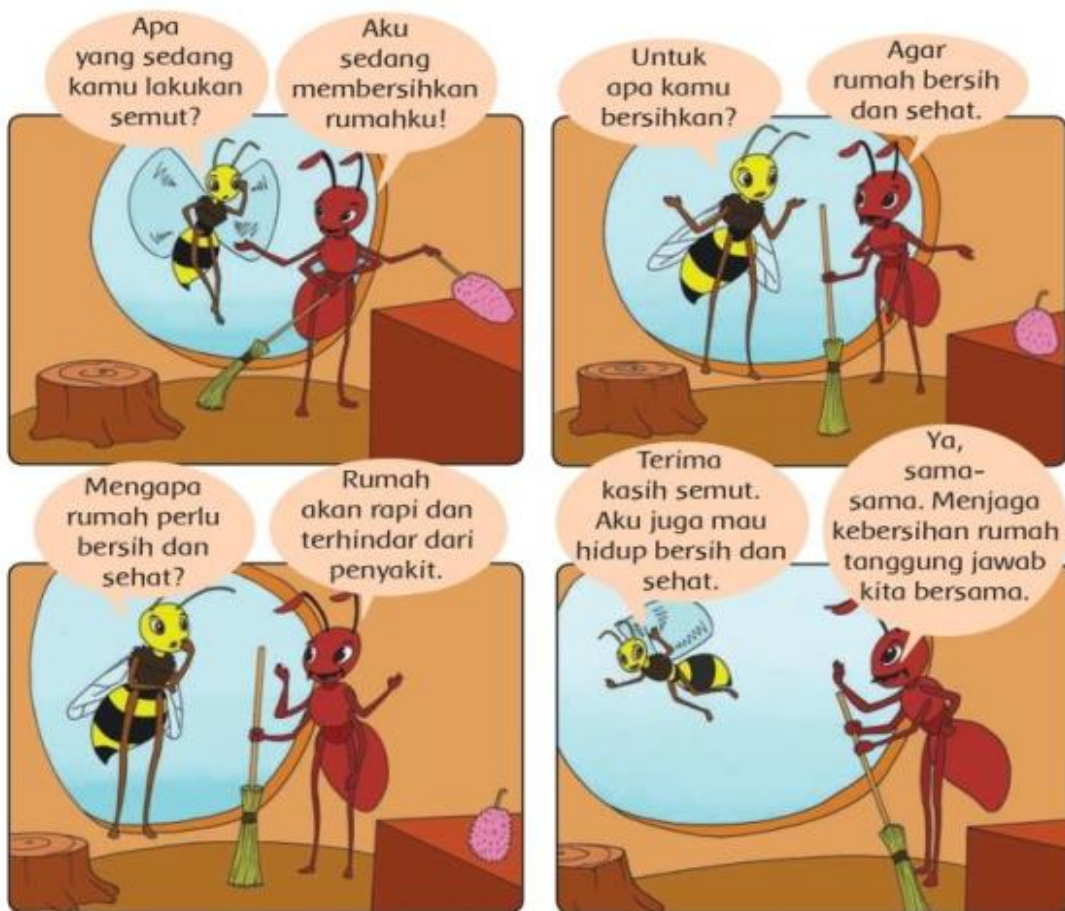
Rumah Dayu bersih. Rumah yang bersih banyak manfaatnya. Rumah Dayu terlihat rapi, indah, dan nyaman. Dayu dan keluarga juga terhindar dari penyakit. Itulah sebabnya Dayu membiasakan hidup bersih dan sehat di rumah. Rumah yang bersih menyehatkan.

Rumah yang bersih ada ciri-cirinya. Rumah Dayu tidak ada sampah berserakan. Debu-debu selalu dibersihkan. Peralatan rumah tangga juga tersusun rapi. Rumah Dayu juga dicat dengan warna yang menarik. Rumah Dayu terasa aman dan nyaman.

Tuliskan 5 Kosakata yang terdapat dalam isi teks yang berkaitan dengan lingkungan sehat:

1. \_\_\_\_\_
2. \_\_\_\_\_
3. \_\_\_\_\_
4. \_\_\_\_\_
5. \_\_\_\_\_

6. Bacalah teks percakan di bawah ini!



7. Tuliskan isi percakapan teks di atas pada kotak di bawah ini!

Handwritten transcription area with horizontal lines.

8. Mintalah orang tuamu untuk mengecek hasil pekerjaanmu!



### Tujuan Pembelajaran

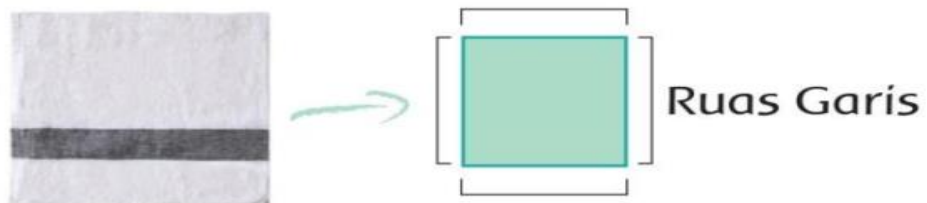
Dengan penugasan, siswa dapat mengidentifikasi ruas garis yang membatasi model bangun datar secara benar.

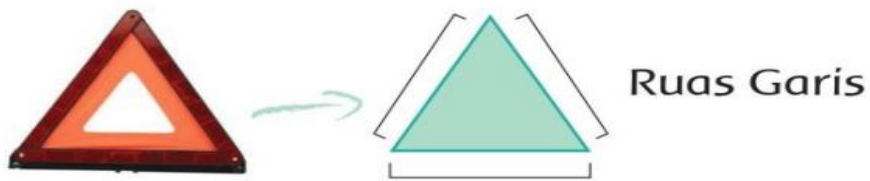
### Alat dan Bahan

1. Pensil
2. Penghapus
3. Penggaris
4. Gambar

### Langkah Kegiatan:




1. Amati gambar berikut







2. Lalu amati gambar yang terdapat dalam tabel di bawah ini!
3. Diskusikan bersama orang tuamu nama bangun dan ruas garis pada gambar yang terdapat dalam tabel di bawah!
4. Hitung ruas garis tiap gambar dalam tabel!
5. Tuliskan hasil diskusimu bersama orang tua pada tabel dibawah ini!

Lengkapi tabel berikut sesuai dengan bentuk bangun datar !

Bangun Datar	Nama Bangun Datar	Jumlah Garis
		
		
		

Bangun Datar	Nama Bangun Datar	Jumlah Garis
		
		

Terima kasih anak-anak sudah hebat dan semangat hari ini



Bagaimana perasaanmu hari ini?

