

# LEMBAR KERJA PESERTA DIDIK



**TEMA** : HIDUP BERSIH DAN SEHAT  
**SUBTEMA** : HIDUP BERSIH DAN SEHAT DI RUMAH  
**PEMBELAJARAN** : 3  
**KELAS** : II

NAMA :  
NO. ABSEN :

DISUSUN OELH SRI ERIYANTI, S. Pd

## TUJUAN PEMBELAJARAN

1. Dengan mengamati teks pada layar power point, siswa dapat menyebutkan ciri-ciri rumah yang tidak sehat.
2. Dengan mengamati gambar rumah yang kotor dalam diskusi kelompok, siswa dapat menulis laporan tentang rumah yang tidak sehat dengan ejaan yang tepat.
3. Dengan tanya jawab bersama guru , siswa dapat mengidentifikasi bangun datar menggunakan gambar atau benda konkret dengan benar.
4. Melalui tanya jawab, siswa dapat menemukan banyak sisi, sudut, dan titik sudut bangun datar dengan benar.
5. Dengar mendengarkan contoh, siswa dapat menentukan tekanan kuat dan lemah pada laguberirama dua atau tiga secara benar.
6. Melalui penugasan, siswa dapat menyimpulkan isi yang terkandung dalam lagu membuang sampah.





#### **A. Materi Pembelajaran:**

1. Ciri-ciri rumah tidak sehat
2. Titik sudut bangun datar
3. Isi lagu membuang sampah

#### **B. Petunjuk Pembelajaran menggunakan LKPD:**

1. Kerjakan LKPD ini dengan memperhatikan petunjuk dalam Google Meet
2. Perhatikan petunjuk yang ada dalam LKPD, seperti Ayo Mengamati , Ayo Berlatih dan Ayo Berkreasi
3. Cermati dengan teliti dalam mengerjakan LKPD.
4. Foto hasil pengerjaan beserta siswa memakai seragam sekoah sesuai jadwal sekolah dan kirim melalui aplikasi Google Cassroom.

#### **C. Langkah –langkah kegiatan**

1. Silahkan amati video pembelajaran yang sudah dikirim di Google Meet
2. Bacalah teks yang ada di LKPD dan carilah informasi tentang bacaan tersebut pada LK 1
3. Amatilah gambar yang ada di LKPD lalu tulislah cerita berdasarkan gambar pada LK 2
4. Hitunglah titik sudut yang ada di LK 3

# Lembar Kegiatan 1

## MENCARI INFORMASI

Menyebutkan ciri-ciri rumah tidak sehat

Amati gambar berikut ini!



Ayo Berlatih



Tuliskan ciri-ciri rumah yang tidak sehat berdasarkan gambar tersebut !

.....

.....

.....

.....

.....

.....

.....




.....



## Lembar Kegiatan 2

Meghitung sisi dan titik sudut bangun datar

Hitunglah titik sudut bangun di bawah ini!

NO.	BANGUN DATAR	BANYAK SISI	BANYAK TITIK SUDUT
1.			
2.			
3.			



## Lembar Kegiatan 3

Menuliskan isi dari lagu membuang sampah

**Membuang Sampah**

do = C 2/4 sedang                      Syair dan Lagu: A.T Mahmud


1 1 3 5 | 6 5 3 | 2 2 1 2 | 3 . 0 |  
Ja-ngan mem-bu - ang sam-pah di ma-na ma - na


1 1 3 5 | 6 5 3 | 4 4 3 2 | 1 . 0 |  
Ja - ga - lah ke - ber-sih - an di ling-ku-ngan-mu

2 2 . 3 | 4 4 4 | 3 3 . 4 | 5 5 5 |  
Sam-pah di ru - mah-mu sam-pah di - ha - la - man

6 1 7 6 | 5 3 . 3 | 4 6 5 4 | 3 . 0 |  
Sa - pu dan ber-sih-kan bu-ang di tem-pat - nya

6 1 7 6 | 5 3 . 3 | 4 4 3 2 | 1 . 0 |  
Sa - pu dan ber-sih-kan bu-ang di tem-pat - nya





**Tuliskan isi lagu membuang sampah!**

.....

.....

.....

TERIMA KASIH

