

LEMBAR KERJA PESERTA DIDIK

KELAS 2

TEMA 4

HIDUP BERSIH DAN
SEHAT

SUBTEMA 2

HIDUP BERSIH DAN
SEHAT DI RUMAH

PEMBELAJARAN 4



NAMA :

KELAS :

DISUSUN OLEH:

HARIS ABDULAH,S.Pd.
NOPES PPG : 20021402710052



A. TUJUAN

1. Dengan menyimak teks lagu yang ada dibuku tema 4 subtema 1 hal 28 siswa dapat memahami pola irama sederhana melalui lagu anak-anak dengan benar.
2. Dengan menyimak lagu dari rekaman suara siswa dapat menampilkan tekanan kuat dan lemah pada lagu anak berbirama dua atau tiga dengan benar dan percaya diri.
3. Dengan mengamati teks yang ada di power pont, siswa dapat membaca teks pendek yang berkaitan dengan lingkungan tidak sehat dengan lafal dan intonasi dengan tepat dan mandiri,
4. Dengan pengamatan dan diskusi siswa dapat Menulis Laporan hasil pengamatan dengan kosakata bahasa indonesia yang berkaitan lingkungan tidak sehat dengan jelas dan rapi serta penuh kejujuran dan tanggung jawab.
5. Dengan mengamati benda-benda dan penjelasan melalui PPT, siswa dapat mengidentifikasi sisi, sudut, dan titik sudut bangun datar secara benar.
6. Dengan mengamati bentuk bangun datar yang ada di google form, siswa dapat menemukan banyak sisi, sudut, dan titik sudut bangun datar secara benar



Latihan 1

1. Amatilah teks lagu "Membuang Sampah" berikut ini!

Membuang Sampah

do = C 2/4 sedang Syair dan Lagu: A.T Mahmud


1 1 3 5 | 6 5 3 | 2 2 1 2 | 3 . 0 |
Ja-ngan mem-bu - ang sam-pah di ma-na ma - na

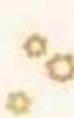
1 1 3 5 | 6 5 3 | 4 4 3 2 | 1 . 0 |
Ja - ga - lah ke - ber - sih - an di ling - ku - ngan - mu



2 2 . 3 | 4 4 4 | 3 3 . 4 | 5 5 5 |
Sam-pah di ru - mah - mu sam-pah di - ha - la - man


6 1 7 6 | 5 3 . 3 | 4 6 5 4 | 3 . 0 |
Sa - pu dan ber - sih - kan bu - ang di tem - pat - nya


6 1 7 6 | 5 3 . 3 | 4 4 3 2 | 1 . 0 |
Sa - pu dan ber - sih - kan bu - ang di tem - pat - nya

Tanda berarti dinyanyikan keras sedangkan tanda  dinyanyikan lembut.
Baris yang tidak ada tanda dinyanyikan biasa.



2. Tulislah lirik dengan tanda  dan tanda  dalam kolom berikut ini!

Lirik dengan tanda  :

Lirik dengan tanda  :



Nah sekarang baca dan amati teks Power point tentang lingkungan yang tidak sehat yang sudah bapak bagikan di Whatsapp grup

Jawablahwablah pertanyaan terkait gambar PPT!

a. Bagaimanakah keadaan lingkungan rumah diatas?

.....

b. Apakah banyak sampah berserakan?

.....

c. Apakah lingkungan diatas termasuk lingkungan sehat?

.....

3. Tulislah hasil pengamatanmu terhadap gambar diatas kedalam bentuk laporan sederhana di kolom berikut ini!



Latihan 3

sebelum mengisi latihan dibawah, bacalah teks power point yang sudah bapak bagikan di Whatsapp ya!




1. Sisi, sudut, dan titik sudut pada bangun datar

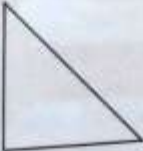



Perhatikan gambar dibawah ini dengan teliti!

Ayo Berlatih

Perhatikan gambar di bawah dengan teliti!

1.  2.  3. 

4.  5. 

Hitunglah banyak sisi, sudut, dan titik sudut pada bangun-bangun datar di atas!

Subtema 1: Hidup Bersih dan Sehat di Rumah

Jawablah pertanyaan berikut ini!

1. Apakah nama gambar no 1? berapakah sisi, sudut, dan titik sudutnya?
2. Apakah nama gambar no 2? berapakah sisi, sudut, dan titik sudutnya?
3. Apakah nama gambar no 3? berapakah sisi, sudut, dan titik sudutnya?
4. Apakah nama gambar no 4? berapakah sisi, sudut, dan titik sudutnya?
5. Apakah nama gambar no 5? berapakah sisi, sudut, dan titik sudutnya?



