

**Lembar Kerja Peserta Didik
(LKPD)
Kelas II**

**Tema 4 Hidup Bersih dan Sehat
Subtema 2 Hidup Bersih dan sehat di Sekolah
pembelajaran 1**

**Disusun Oleh :
Yulistiana Dewi**

Lembar kerja Peserta Didik

Satuan Pendidikan : SDN 01 Pasirmuncang
Kelas/semester : 2/1
Tema : 4 Hidup Bersih dan Sehat
Subtema : 2 Hidup Bersih dan Sehat di Sekolah
Pembelajaran : 1
Muatan pembelajaran : B.Indonesia, SBDP dan Matematika

Kompetensi dasar dan Indikator Pencapaian Kompetensi

Bahasa Indonesia

Kompetensi dasar		Indikator Pencapaian Kompetensi	
3.4	Mengenal kosakata dan konsep tentang lingkungan sehat dan lingkungan tidak sehat di lingkungan sekitar serta cara menjaga kesehatan lingkungan dalam bahasa Indonesia atau bahasa daerah melalui teks tulis, lisan, dan visual.	3.4.1	Menemukan kosakata dalam teks
4.4	Menyajikan penggunaan kosakata bahasa Indonesia yang tepat atau bahasa daerah hasil pengamatan tentang lingkungan sehat dan lingkungan tidak sehat di lingkungan sekitar serta cara menjaga kesehatan lingkungan dalam bentuk teks tulis, lisan, dan visual.	4.4.1	Menuliskan hasil pengamatan tentang lingkungan sehat dan lingkungan tidak sehat

Matematika

Kompetensi Dasar		Indeks Pencapaian Kompetensi	
3.10	Menjelaskan bangun datar dan bangun ruang berdasarkan ciri-cirinya.	3.10.1	Menjelaskan ciri bangun datar
4.10	Mengklasifikasi bangun datar dan bangun ruang berdasarkan ciri-cirinya	4.10.1	Mengelompokkan bangun datar berdasarkan banyak sisi, sudut dan titik sudut

SDBP

Kompetensi Dasar		Indeks Pencapaian Kompetensi	
3.3	Memahami gerak keseharian dalam tari.	3.3.1	Memadukan gerak keseharian dalam tari.
4.3	Meragakan gerak keseharian dalam tari.	4.3.1	Mengkreasikan gerak keseharian dalam tari dengan diiringi musik

Tujuan Pembelajaran

- ✚ Melalui pengamatan teks percakapan, siswa dapat menemukan dan menjelaskan kosakata yang berkaitan dengan lingkungan sehat.
- ✚ Melalui bimbingan guru dari media daring, siswa dapat melakukan pengamatan sederhana tentang lingkungan sehat dengan berpedoman pada isi teks yang telah dibaca secara benar.
- ✚ Melalui penugasan, siswa dapat menuliskan hasil pengamatan sederhana tentang lingkungan sehat dengan ejaan yang tepat.
- ✚ Dengan mengamati vidio yang dikirim di whatsapp grup tentang ciri bangun datar, siswa dapat menentukan bangun datar berdasarkan banyak sisi, sudut, dan titik sudut dengan benar.
- ✚ Dengan berpedoman pada ciri setiap bangun datar, siswa dapat mengelompokkan bangun datar berdasarkan banyak sisi, sudut, dan titik sudut dengan benar
- ✚ Dengan menonton vidio yang dibagikan pada whatsapp grup, siswa dapat memadukan gerak tari dalam keseharian dengan benar .
- ✚ Dengan mengamati vidio siswa dapat mengkreasikan gerak tari dalam keseharian dengan benar.

Lembar Kerja Peserta Didik

(LKPD)

Nama :

Kelas :

Setelah menyimak teks percakapan jawablah pertanyaan-pertanyaan dibawah ini!

Ayo Mengamati



Dengarkan temanmu membaca teks percakapan berikut!

Lomba kebersihan antarkelas tinggal 2 hari lagi. Apa yang harus kita lakukan teman-teman?

Menurutku kita harus segera bersiap diri.

Setuju, Kita harus segera gotong-royong.

Kemudian, apa yang harus kita persiapkan?

Kita harus menyiapkan kemoceng, serbet, kain pel, dan vas bunga.

Mari segera kita siapkan alat-alat tersebut.



Ayo Berlatih



Jawablah pertanyaan berikut sesuai hasil musyawarah Dayu dan teman-teman!

1. Kegiatan apa yang akan diikuti Dayu dan teman-teman?

Jawab:

2. Apa hasil musyawarah Dayu dan teman-teman?

Jawab:

3. Bagaimana pendapatmu terhadap hasil musyawarah mereka?

Jawab:

4. Apa saja peralatan yang perlu mereka siapkan?

Jawab:

5. Menurutmu, apa manfaat kegiatan yang akan mereka lakukan?


Jawab:

Temukanlah makna kata-kata berikut dengan benar!

Kemoceng

Kain Pel

Vas



Kain yang digunakan untuk mengeringkan lantai.

Tempat bunga

Pembersih debu

Tuliskanlah hasil pengamatanmu terhadap gambar pada kolom dibawah ini !

Kelas bersih dan menyehatkan

.....

.....

.....

.....

.....

.....

Selanjutnya untuk mengerjakan soal dibawah ini mari kita lihat vidio melalui link dibawah ini :

<https://youtu.be/MSH6STLe1Dw>

Ayo Berlatih



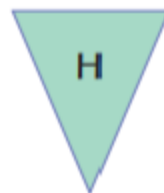
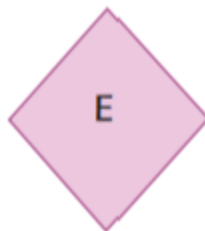
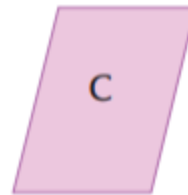
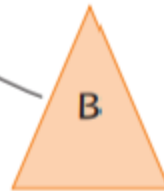
Tentukan bangun datar sesuai dengan banyak sisi, sudut, dan titik sudutnya!



Banyak Sisi : 3
Banyak Sudut : 3
Banyak Titik Sudut : 3

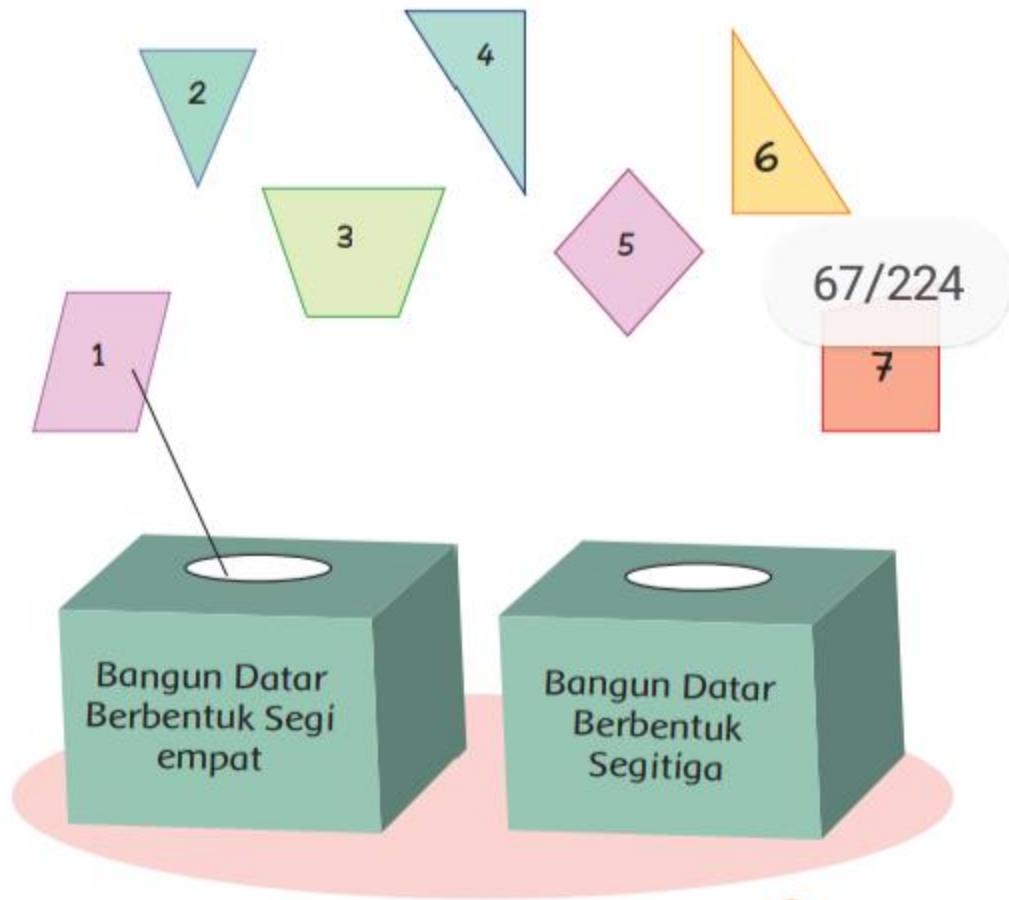


Banyak Sisi : 4
Banyak Sudut : 4
Banyak Titik Sudut : 4



Untuk meningkatkan pemahamanmu,
kelompokkan bangun datar berikut!

Kelompokkan sesuai dengan banyak sisi, sudut, dan titik sudutnya!



Selanjutnya mari kita liat videogerak tari keseharian dengan memperhatikan video berikut ini

https://youtu.be/AK_Q9_V6Ro

lalu buat video gerak tari keseharian dan hasilnya dikirimkan ke Whatsapp grup

Terimakasih selamat mengerjakan!