

LEMBAR KERJA PESERTA DIDIK (LKPD)

Oleh : Rochman Suciawan, S.Pd

Satuan Pendidikan : SD 2 KARANGSUNO
Kelas / Semester : 2 /1
Tema : Hidup Bersih dan Sehat (Tema 4)
Sub Tema : Hidup Bersih dan Sehat di Sekolah (Sub Tema 2)
Pembelajaran ke : 3
Muatan Pelajaran : Bahasa Indonesia, Matematika, SBdP

Nama :


Kelompok :

Kelas :

Tujuan Pembelajaran

1. Melalui tanya jawab, siswa dapat menyebutkan isi teks yang dibacakan berkaitan dengan lingkungan tidak sehat menggunakan bahasa lisan (dapat dibantu dengan kosakata bahasa daerah untuk membantu pemahaman) secara tepat.
2. Melalui instruksi guru, siswa dapat melakukan pengamatan sederhana tentang lingkungan tidak sehat menggunakan berpedoman pada isi teks yang telah dibaca dengan benar.
3. Melalui tanya jawab, siswa dapat menentukan bangun datar berdasarkan banyak sisi, sudut, dan titik sudut dengan benar.

Hai anak-anak! Pada pembelajaran sebelumnya kita sudah belajar tentang lingkungan sehat. Hari ini kita akan belajar tentang lingkungan tidak sehat. Kira-kira lingkungan tidak sehat itu seperti apa ya?
Ayo kita cari tahu! 😊



Kegiatan 1

Perhatikan gambar berikut!



Apakah kelas itu rapi?

.....

Apakah kelas itu bersih?

.....

Apakah kamu senang jika belajar di kelas seperti itu?

.....

Apakah keadaan di kelasmu seperti pada gambar di atas?

.....

Apa yang harus dilakukan jika itu adalah kelasmu?


.....

Kegiatan 2

Pergilah ke luar ruangan kelas bersama teman sekelompokmu sesuai dengan yang diperintahkan oleh guru!

Amati lingkungan di sekitar sekolahmu sesuai dengan tempat yang telah ditentukan!

Tulis hasil pengamatanmu pada kolom di bawah ini!



A large rounded rectangular box with a purple border, containing 15 horizontal dotted lines for writing.

Bacakan hasil pengamatan kelompokmu di depan kelas!

Kegiatan 3

Segi lima dan Segi enam

Hai teman-teman!
Aku Miya. Sudah siap untuk belajar?
Pada pertemuan sebelumnya kita sudah belajar
tentang bangun datar segitiga dan segi empat.
Adakah bangun datar lain yang kalian ketahui?



Perhatikan gambar berikut ini!



Segi lima



Segi enam



Berapa banyak sisi, sudut, dan titik sudut bangun datar di atas?



Segi lima

Banyak sisi : ...

Banyak sudut : ...

Banyak titik sudut : ...



Segi enam

Banyak sisi : ...

Banyak sudut : ...

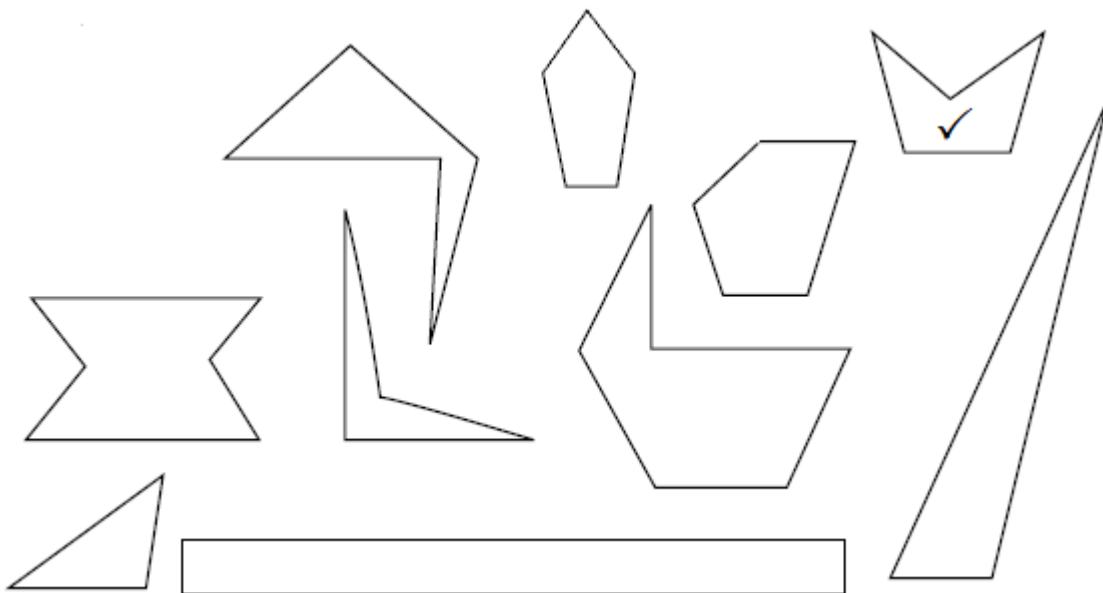
Banyak titik sudut : ...




Apakah kalian sudah mengerti perbedaan antara segi lima dan segi enam?

Perhatikan gambar berikut!

Berilah tanda ceklis (✓) pada gambar yang termasuk segi lima!



Berilah tanda ceklis (✓) pada gambar yang termasuk segi enam!



**Yeay! Kalian anak yang pandai!
Sampai jumpa di pembelajaran selanjutnya.**



Kunci Jawaban dan Teknik Penilaian

Kegiatan 1

Perhatikan gambar berikut!



Apakah kelas itu rapi?

.....tidak rapi.....

Apakah kelas itu bersih?

.....tidak bersih.....

Apakah kamu senang jika belajar di kelas seperti itu?

.....tidak senang.....

Apakah keadaan di kelasmu seperti pada gambar di atas?

.....tidak.....

Apa yang harus dilakukan jika itu adalah kelasmu?

.....membersihkannya.....

Teknik Penilaian

Terdapat 5 jawaban benar

Nilai = Jumlah benar x 20

Kegiatan 2

Pergilah ke luar ruangan kelas bersama teman sekelompokmu sesuai dengan yang diperintahkan oleh guru!

Amati lingkungan di sekitar sekolahmu sesuai dengan tempat yang telah ditentukan!

Tulis hasil pengamatanmu pada kolom di bawah ini!

.....Kebijaksanaan Guru.....

.....

.....

.....

.....

.....

.....

.....

.....

.....

.....

.....

.....

.....

.....

.....

Bacakan hasil pengamatan kelompokmu di depan kelas!

.....Kebijaksanaan Guru.....

Teknik Penilaian

Terdapat 2 jawaban benar

Nilai = Jumlah benar x 50

Kegiatan 3

Segi lima dan Segi enam

**Hai teman-teman!
Aku Miya. Sudah siap untuk belajar?
Pada pertemuan sebelumnya kita sudah belajar
tentang bangun datar segitiga dan segi empat.
Adakah bangun datar lain yang kalian ketahui?**



Perhatikan gambar berikut ini!



Segi lima



Segi enam



Berapa banyak sisi, sudut, dan titik sudut bangun datar di atas?



Segi lima

Banyak sisi : ..5.
Banyak sudut : ..5.
Banyak titik sudut : .5..



Segi enam

Banyak sisi : .6..
Banyak sudut : .6..
Banyak titik sudut : .6..

Teknik Penilaian

Terdapat 6 jawaban benar

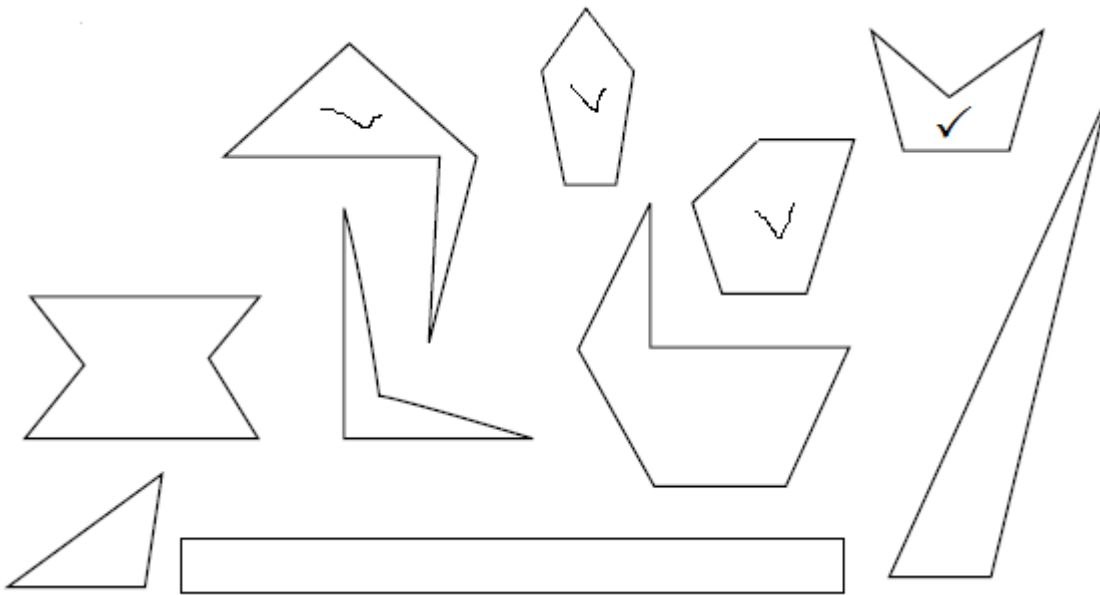
Nilai = Jumlah benar x 20 - 20




Apakah kalian sudah mengerti perbedaan antara segi lima dan segi enam?

Perhatikan gambar berikut!

Berilah tanda ceklis (✓) pada gambar yang termasuk segi lima!



Berilah tanda ceklis (✓) pada gambar yang termasuk segi enam!



Teknik Penilaian

Terdapat 9 jawaban benar

Nilai = Jumlah benar x 10 + 10