

LEMBAR KERJA PESERTA DIDIK (LKPD)

NURASIAH

Sekolah : SDN 2 Karyamukti
Kelas/Semester : 2/1
Tema : 4 (Hidup Bersih dan Sehat)
Subtema : 2 (Hidup Bersih dan Sehat di Sekolah)
Pembelajaran ke : 4
Fokus Pembelajaran : Bahasa Indonesia, Matematika, SBDP
Alokasi Waktu : 1 Hari

A. TUJUAN

1. Melalui penugasan, siswa dapat membaca teks pendek yang berkaitan dengan lingkungan tidak sehat menggunakan lafal dan intonasi yang tepat.
2. Melalui instruksi guru, siswa dapat melakukan pengamatan sederhana tentang lingkungan tidak sehat menggunakan pedoman pada isi teks yang telah dibaca dengan benar..
3. Dengan mengamati video youtube tentang contoh gerakan, siswa dapat melakukan koordinasi gerak kepala, tangan, dan kaki dengan pola lantai dan iringan secara benar.
4. Dengan tanya jawab melalui aplikasi WA, siswa dapat menentukan bentuk bangun datar pada urutan berikutnya berdasarkan pola secara benar.
5. Dengan tanya jawab melalui aplikasi WA, siswa dapat memprediksi bentuk bangun datar berdasarkan pola pada urutan yang ditentukan dengan tepat.

B. LANGKAH-LANGKAH KEGIATAN

1. Siswa mengamati gambar lalu menuliskan hasil pengamatannya pada kolom yang sudah tersedia.
2. Siswa membacakan hasil pengamatannya dengan lafal dan intonasi yang tepat melalui voice note WA
3. Siswa melakukan gerakan tari menyapu dan merekamnya menjadi sebuah video dan mengirimkannya melalui WA
4. Siswa melanjutkan pola bangun datar dengan benar.

Kerjakan LKPD dibawah ini dengan tepat!

Amatilah gambar di bawah dengan teliti!



Tuliskan hasil pengamatanmu tentang pekarangan sekolah yang tidak bersih!

1. Tuliskan hasil pengamatanmu pada kolom berikut!

Pekarangan Sekolah yang Tidak Bersih

.....

.....

.....

.....

.....

.....

.....

2. Sebutkan ciri-ciri pekarangan yang tidak bersih!

.....

.....

.....

.....

.....

.....

.....

3. Bacakan hasil pengamatanmu dengan lafal dan intonasi yang tepat di voice note WA dan kirimkan ke WA grup kelas

4. Agar pekarangan yang kotor menjadi bersih, kita harus menyapunya dengan benar, supaya gerakannya benar, perhatikan gambar di bawah ini dan ikuti gerakannya seperti yang ada di link video youtube ya! Kemudian kalian rekam dan kirimkan videonya melalui WA grup kelas!

Gerakan 1



Gerakan 3



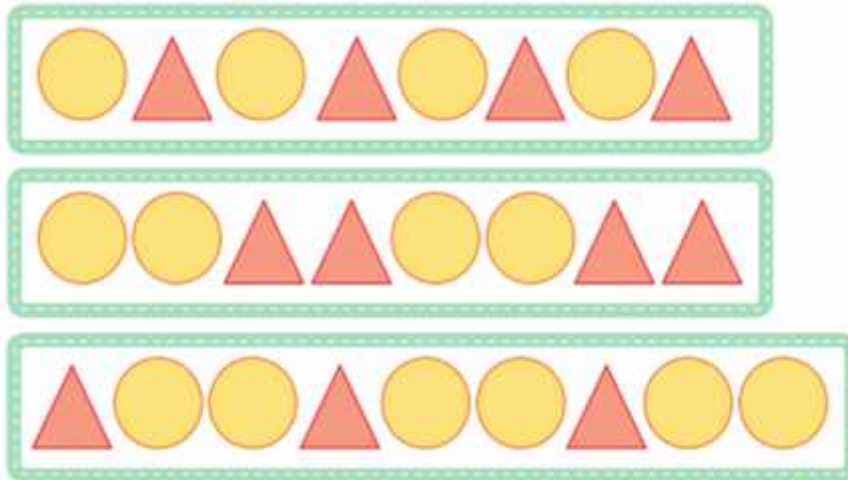
Gerakan 2







Gerakan 4



5. Ketika menyapu halaman atau teras sekolah, tentunya kamu pasti akan melihat ubin yang berbentuk bangun datar kan? Ada yang berbentuk persegi dan ada juga yang berbentuk lingkaran atau segitiga. Coba amati pola bangun datar di bawah ini, kemudian kalian tentukan bentuk bangun datar selanjutnya!



Tentukan bentuk bangun datar selanjutnya sesuai dengan pola-pola berikut!

1. 
2. 
3. 
4. 
5. 