

LEMBAR KERJA PESERTA DIDIK (LKPD)
KELAS 3
SD NEGERI KEDUNGMULYO

TEMA 1

PERTUMBUHAN DAN PERKEMBANGAN MAKHLUK HIDUP

SUBTEMA 1

CIRI - CIRI MAKHLUK HIDUP

MATA PELAJARAN :

SBDP, BAHASA INDONESIA, MATEMATIKA

**YOUR
NAME**





LEMBAR KERJA PESERTA DIDIK

(LKPD 1)

JUDUL KEGIATAN

Ayo Bernyanyi (cicak – cicak di dinding)

TUJUAN KEGIATAN

-Siswa dapat mengidentifikasi bentuk pola irama sederhana dengan benar.

PETUNJUK Mengerjakan

1. Amati tanda yang ada pada syair lagu cicak – cicak di dinding.



Cicak di Dinding

Cipt. NN

Cicak – cicak di dinding

■ ■ ■ ■ ■ ■ ■ ■

Diam – diam merayap

■ ■ ■ ■ ■ ■ ■ ■

Datang seekor nyamuk

■ ■ ■ ■ ■ ■ ■ ■

Hap ... lalu ditangkap

■ ■ ■ ■ ■ ■ ■ ■



SOAL

1. Bagian mana dari lagu tersebut, yang menunjukkan ciri-ciri makhluk hidup !




2. Bagaimana rasanya jika sebuah lagu hanya memiliki pola bunyi panjang atau pendek saja? _____





3. Buatlah 4 buah pola yang berbeda dengan menggunakan simbol bunyi panjang dan pendek!



Handwriting practice area with 12 horizontal lines (solid top and bottom lines with a dotted midline).





LEMBAR KERJA PESERTA DIDIK

(LKPD 2)

JUDUL KEGIATAN

Ciri – ciri makhluk hidup

TUJUAN KEGIATAN

1. Siswa dapat menyimpulkan ciri-ciri makhluk hidup dengan benar.

PETUNJUK MENERJAKAN


1. Amati tayangan power point yang ditampilkan oleh guru!
2. Diskusikan ciri – ciri makhluk hidup dengan kelompok yang sudah ditentukan !
3. Berikan tanda cek list pada ciri- ciri makhluk hidup yang kamu anggap benar!





SOAL

1. Kegiatan Diskusi Kelompok
Sebutkan ciri-ciri makhluk hidup!



A large rectangular area with horizontal dotted lines for writing. In the bottom right corner of this area, there is a cartoon character wearing a red and white cap, holding a newspaper and a pencil, standing next to a small red building.

2. Berikanlah tandan cek list pada ciri-ciri makhluk hidup yang kamu anggap benar!



No	CIRI-CIRI	TANDA
1	Mebutuhkan makanan dan minuman	
2	Berkembang biak	
3	Sakit	
4	Bernafas	
5	Peka terhadap rangsang	



LEMBAR KERJA PESERTA DIDIK (LKPD 3)

JUDUL KEGIATAN

Lambang bilangan ribuan

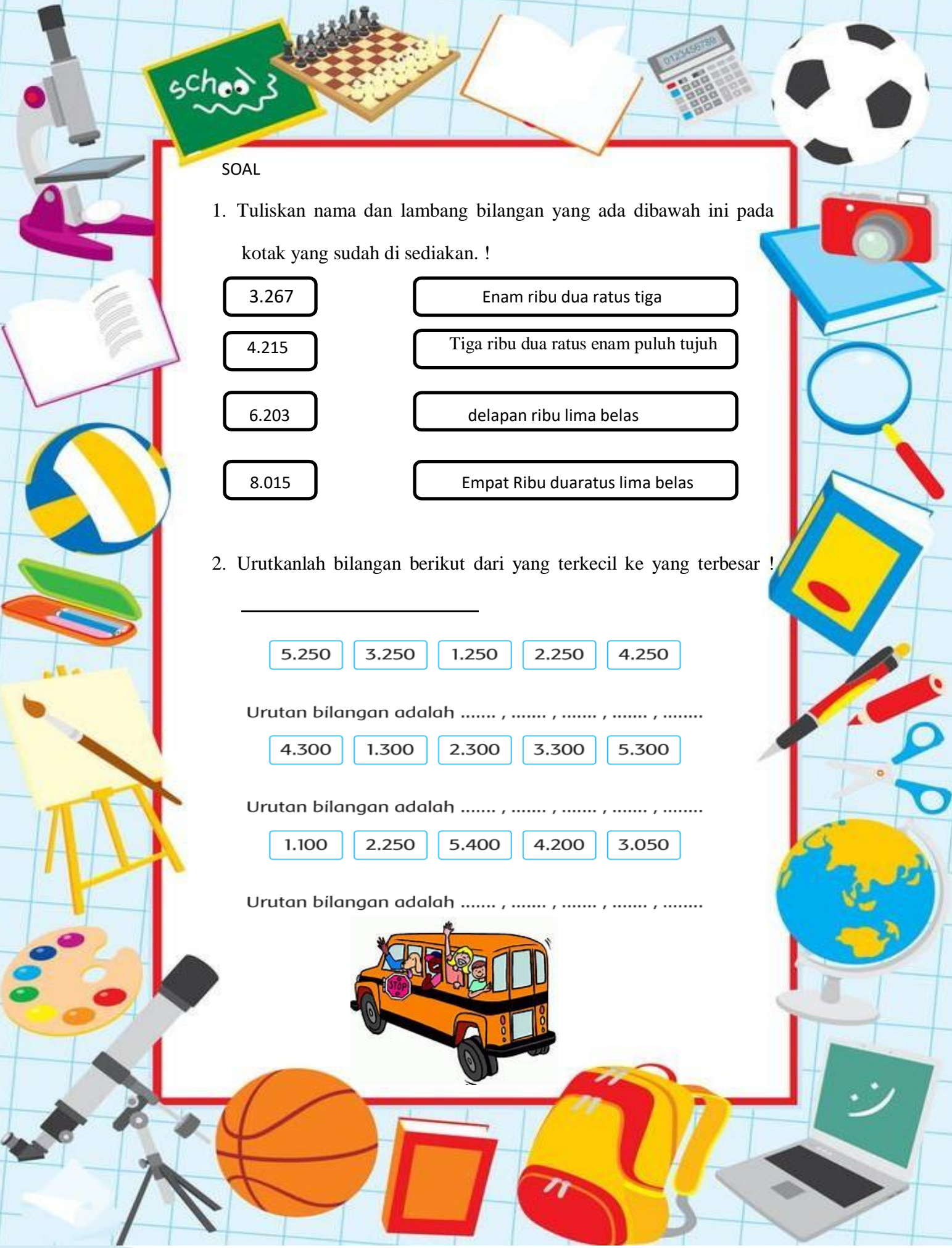
TUJUAN KEGIATAN

1. Mencari pasangan nama dan lambang bilangan 1.000 sampai dengan 10.000
2. Mengurutkan bilangan

PETUNJUK MENGERJAKAN

1. Memasangkan nama dan lambang bilangan
2. Menyusun bilangan dari bilangan terkecil sampai terbesar.





SOAL

1. Tuliskan nama dan lambang bilangan yang ada dibawah ini pada kotak yang sudah di sediakan. !

3.267	Enam ribu dua ratus tiga
4.215	Tiga ribu dua ratus enam puluh tujuh
6.203	delapan ribu lima belas
8.015	Empat Ribu duaratus lima belas

2. Urutkanlah bilangan berikut dari yang terkecil ke yang terbesar !

5.250 3.250 1.250 2.250 4.250

Urutan bilangan adalah , , , ,

4.300 1.300 2.300 3.300 5.300

Urutan bilangan adalah , , , ,

1.100 2.250 5.400 4.200 3.050

Urutan bilangan adalah , , , ,





TERIMA KASIH
SAMPAI JUMPA...

