




**LEMBAR KERJA PESERTA DIDIK
(LKPD)**

SEKOLAH : SD Negeri Cibatok 01
KELAS : III (Tiga)
TEMA : 3. Benda di Sekitarku
SUBTEMA : 4. Keajaiban Perubahan Wujud
di Sekitarku
PEMBELAJARAN : 1 (Satu)

Disusun oleh : Yuni Dilliana, S.Pd.





Nama :

No. Absen :

LEMBAR KERJA PESERTA DIDIK (LKPD)

- Kelas/Semester : III/Ganjil
Tema : 3. Benda di Sekitarku
Subtema : 4. Keajaiban Perubahan Wujud di Sekitarku
Pembelajaran : 1 (Satu)
Tujuan Pembelajaran : Melalui kegiatan mengamati gambar “Pembuatan Garam” sebagai informasi tentang konsep perubahan wujud benda, peserta didik dapat mengurutkan proses pembuatan garam dengan tepat.
Melalui kegiatan mengamati gambar, peserta didik dapat mengidentifikasi langkah-langkah melipat dengan tepat
Materi : Perubahan wujud benda, Teknik Melipat

Petunjuk :

1. Tulis nama dan nomor absen di pojok kanan atas
2. Amatilah gambar pembuatan garam yang disediakan
3. Urutkan gambar dan berilah keterangan proses pembuatannya dengan kalimat sendiri.
4. Urutkan langkah melipat baju dengan tepat
5. Kerjakanlah dengan cermat dan teliti

1. *Perubahan wujud benda “**menguap**” terjadi pada proses pembuatan garam. Kalian pun telah melihat bagaimana cara membuat garam pada link video youtube yang dibagikan guru. Coba sekarang buatlah urutan gambar pembuatan garam dengan dilengkapi keterangannya menggunakan kata-kata sendiri !*

1



2



3




4




Urutan proses pembuatan garam yang benar adalah :

a. Nomor




.....
.....
.....
.....
.....

b. Nomor




.....
.....
.....
.....
.....

c. Nomor



.....
.....
.....
.....
.....

d. Nomor

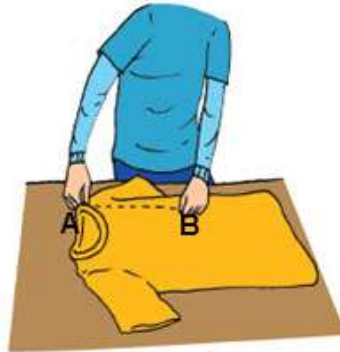


.....
.....
.....
.....
.....

2. Proses perubahan wujud benda “penguapan” tidak hanya terjadi pada pada proses pembuatan garam. Proses penguapan ini sangat berguna pada kegiatan menjemur baju. Baju dapat kering karena air pada pakaian menguap terkena sinar matahari. Setelah baju kering tugas kita adalah melipat baju dengan rapi. Tugas kalian sekarang mari bantu Nina menentukan langkah-langkah melipat dengan tepat secara berurutan !



1



2



3



4



5



6

Coba urutkanlah langkah-langkah melipat baju yang paling benar !

