

Satuan Pendidikan : SD Inpres Paobokol

LEMBAR KEGIATAN SISWA

Kelas / Semester : 3 / 1

Tema : 4. Kewajiban dan Hakku (Sub Tema 3)

Pembelajaran : Ke - 3

A. TUJUAN

1. Dengan memahami masalah, siswa dapat mengungkapkan atau menyatakan secara lisan saran penyelesaian masalah dengan tepat.
2. Dengan mengamati contoh masalah, siswa dapat membuat permasalahan berkaitan dengan perkalian dua bilangan cacah yang hasilnya ditentukan sendiridengan tepat.
3. Dengan mengamati gambar siswa dapat mengidentifikasi dan membuat karya dekoratif menggunakan bentuk dan warna sebagai unsur karya dekoratif dengan tepat.

AYO Membaca

Bacalah teks berikut dengan suara nyaring! Ketika Pak Uun Sakit

Pak Uun adalah petugas kebersihan di sekolah Beni. Sudah satu minggu Pak Uun sakit. Lingkungan sekolah menjadi sangat kotor. Selama ini, hanya Pak Uun yang selalu membersihkan sekolah. Anak-anak kadang-kadang lalat menjaga kebersihan.



Beni dan teman-teman tidak nyaman saat berada di sekolah. Banyak sampah berserakkan dan tercium bau yang kurang sedap. Sampah mengundang banyak lalat. Lalat-lalat hinggap di atas makanan yang dijual di kantin. Akibatnya, banyak siswa yang sakit setelah menikmati makanan dari kantin

Setelah membaca teks, jawablah pertanyaan-pertanyaan berikut.

1. Bagaimana kondisi sekolah Beni saat ini? ...
2. Mengapa sekolah Beni kotor saat Pak Uun sakit? ...
3. Mengapa anak-anak banyak yang sakit? ...
4. Menurutmu, siapa saja yang berkewajiban menjaga kebersihan sekolah?
...
5. Apa akibat jika kita tidak menjaga kebersihan bersama? ...



Ayo Pikirkan

Beni dan teman-temannya berencana bekerja bakti membersihkan lingkungan sekolah. Mereka mengumpulkan uang untuk membeli barang kebutuhan.

Beni dan teman-teman membuat daftar barang-barang yang harus dibeli seperti terurai dalam gambar.



Sapu lantai (Rp5.000,00), Lap pel (Rp3.000,00), kemoceng(Rp5.000,00), sapu lidi (Rp3.000,00), pengki (Rp3.500,00), lap kaca (Rp3.000,00), ember (Rp5.000,00), tempat sampah (Rp5.000,00), gayung (Rp3.000,00), sabun (Rp3.000,00), sikat(Rp3.000,00), karbol (Rp5.000,00)

Amati daftar harga alat-alat kebersihan pada gambar!

Jika uang yang dikumpulkan Beni dan teman-tamnnya adalah Rp10.000,00, apakah semua alat kebersihan pada gambar dapat dibeli?

Jika tidak, menurutmu apa yang akan dilakukan Beni dan teman-temannya?
Jelaskan!

Amati kembali gambar pada halaman sebelum ini!




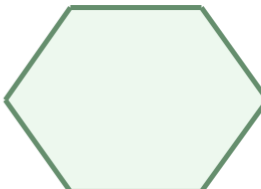
Lalu, jawablah pertanyaan-pertanyaan berikut!

Contoh:




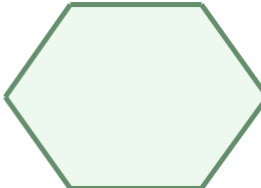
Berapa selisih harga ember dan lap pel?




Berapa selisih harga karbol dan pengki?



Berapa selisih harga pengki dan sapu lidi?

Berapa selisih harga kemoceng dan sapu?

Berapa selisih harga ember dan pengki?

**Berlatih memecahkan masalah-
masalah berikut ini!**

1. Beni membeli kemoceng. Ia membayar dengan pecahan uang Rp10.000,00.
Berapa banyak uang kembali yang ia terima?

2. Dayu membeli sapu lantai dan sikat. Ia membayar dengan pecahan uang Rp10.000,00. Berapa banyak uang kembali yang ia terima?

3. Siti membeli gayung dan sabun. Ia membayar dengan pecahan uang Rp7.000,00. Berapa banyak uang kembali yang ia terima?

4. Edo membeli lap pel dan ember. Jika uang Edo ada Rp9.000,00, berapa banyak uang kembali yang Edo terima?

5. Lani membeli lap kaca dan karbol. Jika Lani mendapat uang kembali sebanyak Rp2.000,00, berapa uang yang Lani bayarkan?