

LEMBAR KERJA PESERTA DIDIK (LKPD)



Satuan Pendidikan : SDN 1 Tulakan
Kelas / Semester : III (Tiga) / 1
Tema 4 : Kewajiban dan Hakku
Sub Tema 3 : Kewajiban dan Hakku dalam Bertetangga
Pembelajaran : 3
Nama :
Nomor :
Hari/tanggal :

KOMPETENSI DASAR :

Muatan Bahasa Indonesia

3.10 Mencermati ungkapan atau kalimat saran, masukan, dan penyelesaian masalah (sederhana) dalam teks tulis.

Muatan Matematika

3.3 Menyatakan suatu bilangan sebagai jumlah, selisih, hasil kali, atau hasil bagi dua bilangan cacah

Muatan SBdP

3.1 Mengetahui unsur-unsur rupa dalam karya dekoratif

TUJUAN :

1. Dengan memahami masalah, siswa dapat mengungkapkan atau menyatakan secara lisan saran penyelesaian masalah dengan tepat.
2. Dengan mengamati contoh masalah, siswa dapat membuat permasalahan berkaitan dengan perkalian dua bilangan cacah yang hasilnya ditentukan sendiri dengan tepat.
3. Dengan mengamati gambar siswa dapat mengidentifikasi dan membuat karya dekoratif menggunakan bentuk dan warna sebagai unsur karya dekoratif dengan tepat.

PETUNJUK Pengerjaan

1. Berdoalah sebelum mengerjakan LKPDmu
2. Tuliskan terlebih dahulu identitasmu
3. Kerjakanlah LKPD dengan cermat dan teliti sesuai perintah

SELAMAT MENGERJAKAN

Ayo Membaca

Simaklah teks berikut dengan teliti!

Panen Rambutan

Lani berkunjung ke rumah Beni. Di rumah Beni sedang panen rambutan. Beni ingin membagi hasil panennya kepada tetangga.

Setiap hari tetangga selalu melihat buahnya. Setiap hari ada juga tetangga yang ikut membersihkan daun yang gugur dan bertebaran. Sebaiknya tetangga ikut menikmati hasil panen.

Pada hari itu, hasil panen Beni sebanyak 500 buah rambutan. Ayah menyarankan tetangga dekat didahulukan. Setiap tetangga harus mendapat rambutan yang sama banyak. Ayah meminta Lani membantu Beni. Mereka bekerja dengan gembira.

KEGIATAN 1 (Muatan Bahasa Indonesia KD 3.10)

Amati kembali teks “Panen Rambutan” yang sudah kamu baca dengan nyaring!

Garis bawahi kalimat yang menunjukkan kalimat saran!

Ayo Mencoba

KEGIATAN 2 (Muatan Bahasa Indonesia KD 3.10)

Beni memiliki beberapa masalah.

Berilah saran penyelesaiannya!

Tuliskan pada bagan berikut!

Beni ingin membagi rambutan kepada tetangga. Ia tidak dapat melakukannya sendiri. Apa saranmu?

.....
.....
.....

Beni tidak memiliki wadah untuk membawa rambutan. Apa saranmu?

.....
.....
.....

Belum semua tetangga Beni mendapatkan rambutan. Apa saranmu?

.....
.....
.....


Ayo Berlatih

Lani membantu Beni menghitung buah rambutan. Rambutan yang tersedia ada 500 buah. Berapa banyak tetangga yang akan diberi? Berapa buah yang akan diterima setiap tetangga?

Jawab :

$$\text{Banyak tetangga} \times \text{banyak buah rambutan} = 500 \text{ buah}$$

Bila Beni berbagi kepada lima tetangga, berapa banyak rambutan yang diterima masing-masing tetangga?


$$5 \times \dots = 500$$

Jawabnya adalah : 100.

Jadi jika Beni hanya membagi kepada lima tetangga, maka masing-masing tetangga akan mendapat 100 buah rambutan.

KEGIATAN 3 (Muatan Matematika KD 3.3)

Tuliskan kemungkinan lainnya!

- | | | | | | |
|----|-----|---|-----|---|-----|
| 1. | ... | X | ... | = | 500 |
| 2. | ... | X | ... | = | 500 |
| 3. | ... | X | ... | = | 500 |
| 4. | ... | X | ... | = | 500 |
| 5. | ... | x | ... | = | 500 |

Ayo Mengamati

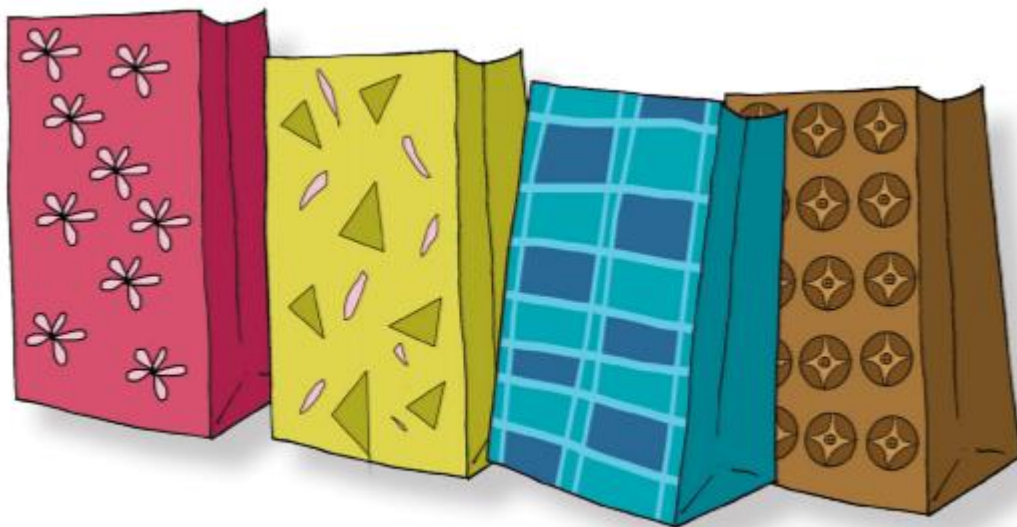
Lani membantu Beni membagikan rambutan. Ia membawakan kantong kertas untuk membawa rambutan. Kantong kertasnya memiliki motif yang sangat indah.

KEGIATAN 4 (SBdP KD 3.1)

Lihatlah kantong kertas yang dibawa Lani!

Sebutkan bentuk-bentuk motif yang ada pada hiasan kantong kertas!

Sebutkan warna yang ada pada hiasan kantong kertas!



Ayo Berkreasi

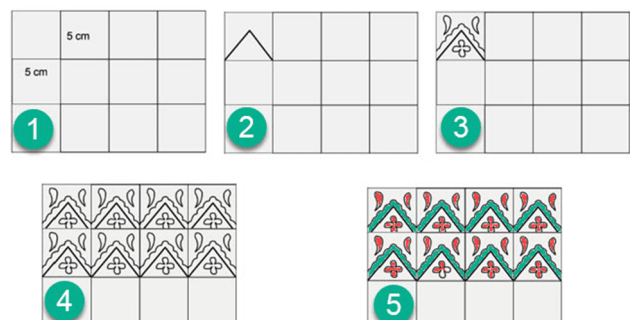
KEGIATAN 5 (SBdP KD 3.1)

Cobalah membuat gambar motif seperti pada kantong kertas yang dibawa Lani!

Gunakan kertas gambar, pensil, dan pensil warna!

Ikuti langkah-langkah berikut!

1. Bagi kertas gambarmu menjadi beberapa kotak. Masing-masing berukuran sekitar 5 x 5 cm.
2. Buat gambar salah satu bangun datar di satu kotak. Gunakan pensil dan penggaris jika diperlukan.
3. Hiasi gambar bangun datarmu dengan motif ciptaanmu.
4. Buat gambar serupa pada kotak lainnya.
5. Warnai gambar dengan warna kesukaanmu.



Buatlah gambar motifmu di bawah ini!

Sumber :

Buku Tematik Terpadu Kurikulum 2013, edisi revisi 2018. Kelas 3 Tema 4 "Kewajiban dan Hakku"