

LEMBAR KERJA PESERTA DIDIK (LKPD)
KELAS V

TEMA 4 (SEHAT ITU PENTING)
SUB TEMA 2 (GANGGUAN KESEHATAN PADA ORGAN PEREDARAN
DARAH)
PEMBELAJARAN KE 2

NAMA :

KELAS :

SEKOLAH :




DAFTAR ISI

1. Petunjuk Penggunaan LKPD
2. Tujuan Kegiatan
3. Kegiatan 1 Membuat Peta Pikiran Mengenai Ciri-ciri Pantun
4. Kegiatan 2 Membuat Diagram Alur Cara Kerja Peredaran Darah Manusia
5. Kegiatan 3 Mengidentifikasi Properti Tari sesuai Gambar



PETUNJUK PENGGUNAAN LKPD



Sebelum kalian menggunakan LKPD ini, ada beberapa hal yang harus di perhatikan diantaranya :

- 1. Bacalah petunjuk dan Langkah kegiatan secara cermat dan teliti**
- 2. Lakukan kegiatan secara runtut dan tanyakan kepada gurumu jika ada yang belum kamu pahami**
- 3. Apabila telah selesai maka rapikan Kembali alat dan bahan yang kalian gunakan dalam kegiatan tersebut**



TUJUAN KEGIATAN

Setelah menyelesaikan LKPD ini, diharapkan peserta didik dapat memahami hal-hal berikut :

1. Mampu membuat peta pikiran mengenai ciri-ciri pantun
2. Mampu membuat diagram alur cara kerja peredaran darah manusia
3. Mampu mengidentifikasi properti tari sesuai gambar



LEMBAR KERJA PESERTA DIDIK 1

Membuat Peta Pikiran

Nama :

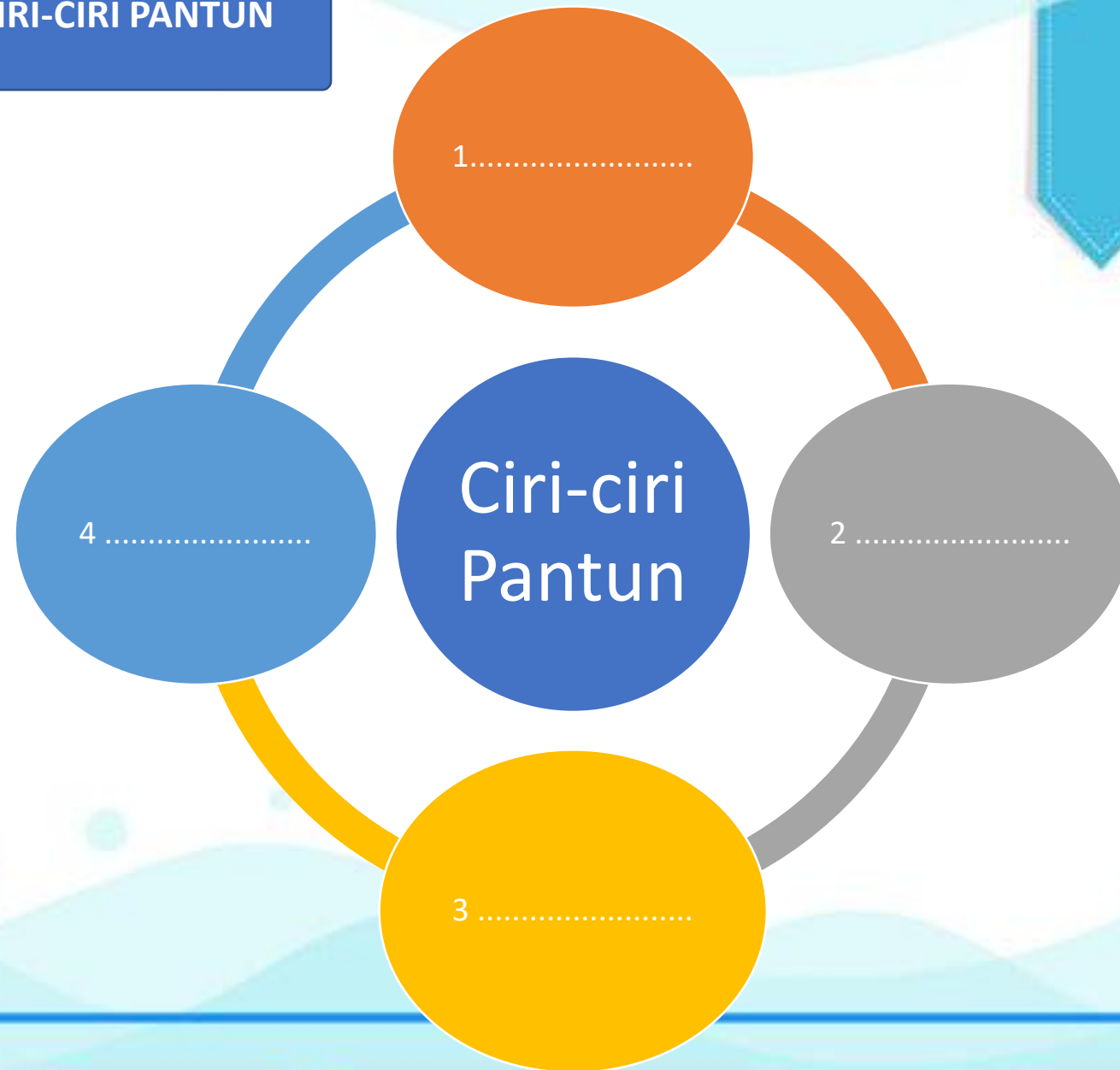
•Tujuan : Membuat peta pikiran mengenai ciri-ciri pantun


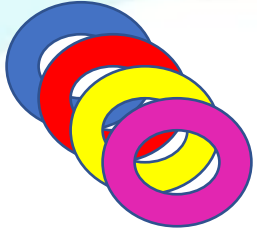
Langkah Kegiatan :

1. Buatlah peta pikiran sesuai dengan yang telah dishare atau boleh berkreasi sendiri !
2. Bacalah berbagai karya pantun dari internet atau majalah!
3. Berdiskusilah bersama temanmu mengenai ciri-ciri pantun!
4. Tuliskan ciri-ciri pantun dalam peta pikiran yang telah dibuat!



PETA PIKIRAN CIRI-CIRI PANTUN





Kesimpulan :

.....


.....

.....

.....

.....

.....



LEMBAR KERJA PESERTA DIDIK 2

Membuat Diagram

Nama :

•**Tujuan** : Membuat diagram alur cara kerja peredaran darah manusia

Langkah Kegiatan :

1. Simaklah video singkat dari link youtube https://www.youtube.com/watch?v=_vMlvibgEcg
2. Bacalah teks mengenai alat peredaran darah pada bahan ajar yang disediakan!
3. Buatlah diagram alur cara kerja peredaran darah tertutup manusia pada kotak yang disediakan! Carilah contoh dari internet!





Diagram Alur Cara Kerja Peredaran Darah Tertutup pada Manusia



LEMBAR KERJA PESERTA DIDIK 3

Mengidentifikasi Properti Tari



Nama :

•Tujuan : Mengidentifikasi properti tari sesuai gambar

Langkah Kegiatan :

1. Amatilah gambar tiga tarian pada slide power point!
2. Kemudian, tuliskan nama-nama properti yang dipakai pada gambar tarian itu!
3. Tuliskan jawabanmu pada kolom di bawah ini!



Nama properti tari pada gambar 1

.....
.....
.....

Nama properti tari pada gambar 2

.....
.....
.....

Nama properti tari pada gambar 3

.....
.....
.....



Setelah mengamati gambar dan menyebutkan nama-nama property yang digunakan pada gambar tarian, dapatkah kamu menyimpulkan apa yang dimaksud dengan properti tari? Tuliskan jawabanmu pada kolom berikut.



Properti tari adalah

.....

.....

.....

.....

