

LEMBAR KERJA PESERTA DIDIK

KELAS V (LIMA)

TEMA 5 SUBTEMA 1

PEMBELAJARAN 5



EKOSISTEM

Nama Siswa :

Kelas :

Sekolah :



Langkah Kegiatan



1. MEMBACA DOA TERLEBIH DAHULU!
2. IKUTI PETUNJUK PENGISIAN DENGAN CERMAT!
3. KERJAKAN SETIAP TUGAS DENGAN TELITI!
4. APABILA ADA YANG BELUM DIPAHAMI SEGERA TANYAKAN KEPADA GURU ATAU ORANG TUA!

1. Perkembangbiakan hewan

2. Daur Hidup Hewan

3. Jenis palagraf

MATERI



Tujuan Pembelajaran

1. Melalui diskusi tayangan video perkembangbiakan hewan, peserta didik dapat :
 - a. Menuliskan tiga hewan yang berkembang biak dengan bertelur dengan benar
 - b. Menuliskan tiga hewan yang berkembang biak dengan beranak dengan benar.
 - c. Menemukan perbedaan hewan yang berkembangbiak secara bertelur dan melahirkan/beranak
2. Dengan melakukan pengamatan dan diskusi kelompok, peserta didik dapat :
 - a. Mengidentifikasi daur hidup hewan dengan benar
 - b. Menuliskan daur hidup ayam dengan benar
 - c. Menuliskan daur hidup kucing dengan benar
 - d. Menuliskan daur hidup kecoa dengan teliti
 - e. Menuliskan daur hidup kupu – kupu dengan teliti
3. Berdasarkan hasil pengamatan peserta didik dapat membedakan metamorfosis sempurna dan metamorfosis tidak sempurna
4. Berdasarkan hasil pengamatan, peserta didik dapat membuat gambar daur hidup hewan (ayam, kucing, kecoa dan kupu – kupu)
5. Dengan mengidentifikasi pikiran utama dari sebuah teks nonfiksi, peserta didik dapat menentukan jenis palagraf dengan tepat
6. Berdasarkan gambar daur hidup hewan, peserta didik dapat menulis sebuah teks nonfiksi secara logis

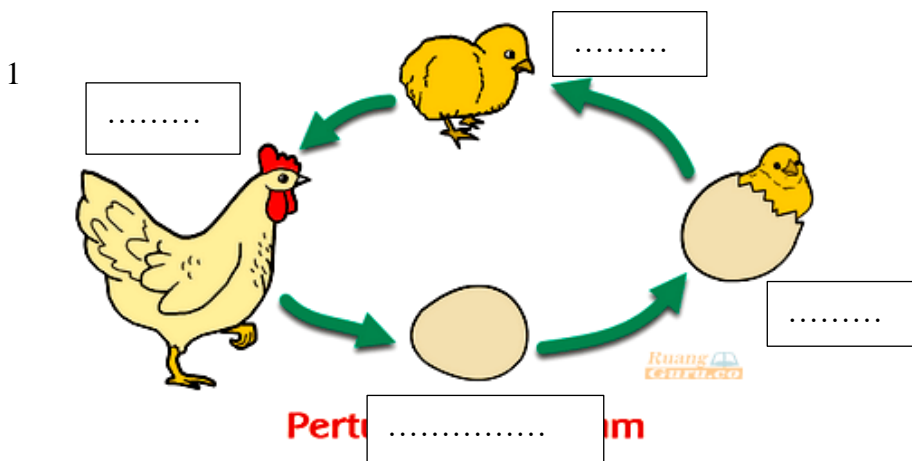
Amati vidio pembelajaran dan buku tentang hewan yang telah disediakan. Berdasarkan pengamatanmu tuliskan nama – nama hewan yang kamu temui dan identifikasi cara berkembangbiaknya.

No	Nama Hewan	Cara Berkembangbiak

Berdasarkan pengamatanmu tentang hewan yang ada pada vidio dan buku hewan identifikasi perbedaan hewan yang berkembang biak dengan cara bertelur dan melahirkan!


Bertelur	Melahirkan / Beranak

Sebelum menjadi hewan dewasa, hewan mengalami tahapan tumbuh kembang. Tahapan tumbuh kembang ini dinamakan dengan daur hidup hewan. Coba kamu isi daur hidup beberapa hewan dibawah ini.



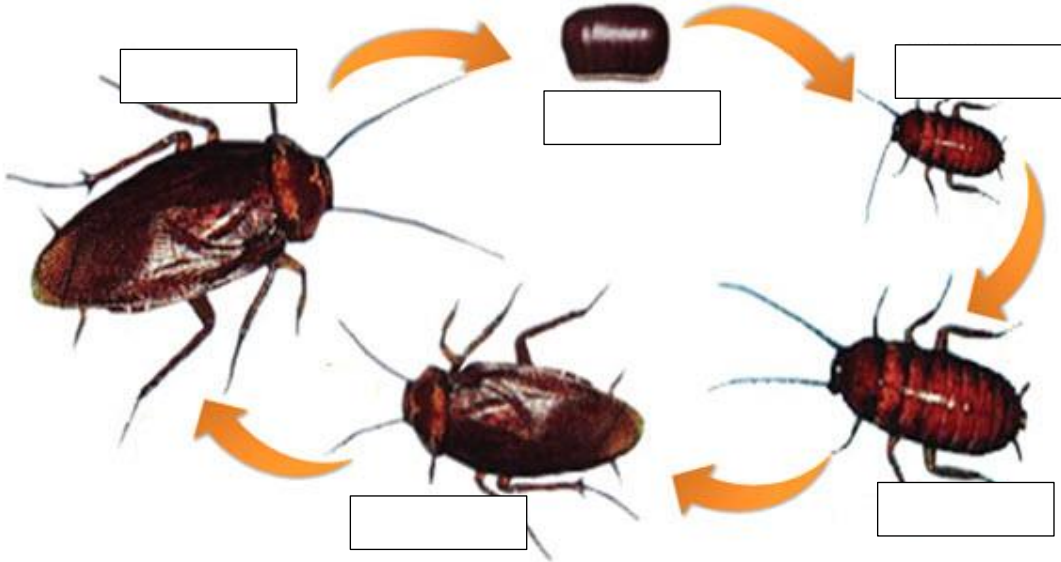
2

Daur Hidup Kucing



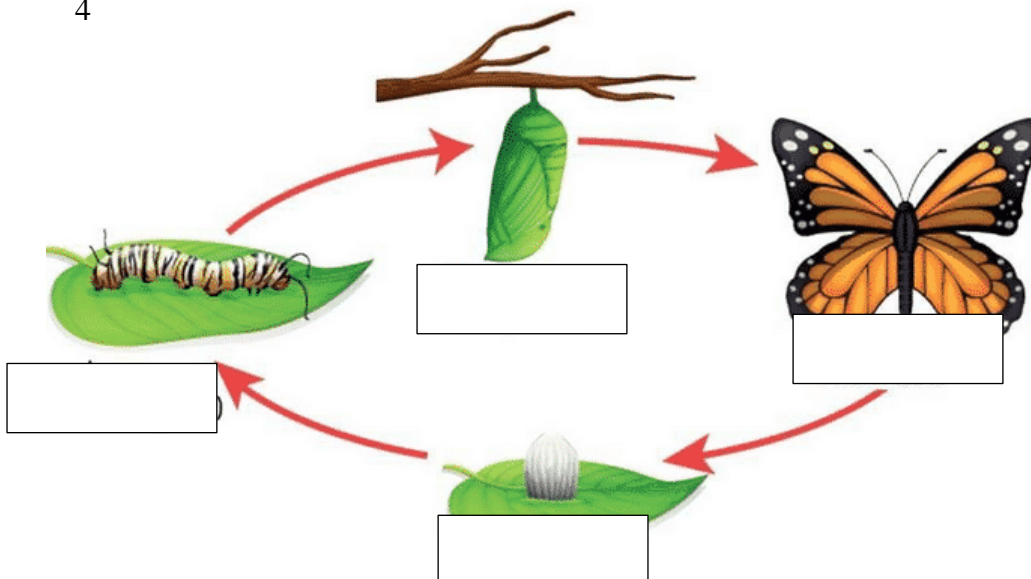
3

DAUR HIDUP KECOA



4

Siklus Hidup Kupu-kupu



1. Berdasarkan daur hidup hewan diatas apa perbedaan daur hidup ayam dan kucing?

.....
.....
.....

2. Berdasarkan daur hidup hewan diatas apa perbedaan daur hidup kucing dengan kecoa ?

.....
.....
.....

3. Berdasarkan daur hidup hewan diatas apa perbedaan daur hidup kecoa dengan kupu -kupu ?

.....
.....
.....

4. Menurut pendapatmu ada perbedaan dari metamorfosis sempurna dan metamorfosis tidak sempurna ?

.....
.....

5. Berdasarkan gambar siklus daur hewan diatas pilih lah salah satu jenis hewan lalu buatlah sebuah teks nonfiksi tentang daur hewan tersebut

.....
.....
.....
.....
.....
.....
.....
.....
.....

