

Lembar Kerja Peserta Didik


Komponen Ekosistem

Nama : _____
Kelas : _____
Tema : _____
Subtema : _____
Pembelajaran : _____



Masa depan mu di tentukan hari ini bukan esok, atau pun lusa

Tujuan Pembelajaran



1. Dengan mencermati gambar teks bacaan yang ditampilkan digrup WhatsApp , siswa mampu membuat pokok pikiran dan informasi penting yang terdapat dalam teks bacaan daur hidup hewan secara tepat.
2. Dengan membaca teks daur hidup hewan yang ditampilkan digrup WhatsApp, siswa mampu membedakan daur hidup tiga jenis hewan yang berbeda secara tepat.
3. Dengan membaca teks daur hidup hewan yang ditampilkan digrup WhatsApp, siswa mampu membuat gambar daur hidup tiga jenis hewan yang berbeda secara tepat.
4. Dengan menyimak penjelasan guru, siswa mampu membedakan tangga nada mayor dan minor.



Amati teks berikut !



Daur hidup adalah tahapan pertumbuhan dan perkembangan suatu hewan. Di dalam daur hidupnya, ada hewan yang mengalami perubahan bentuk, ada yang tidak. Hewan yang mengalami perubahan bentuk pada tahap tumbuh kembangnya disebut mengalami metamorfosis. Hewan apa sajakah yang mengalami metamorfosis dan tidak mengalami metamorfosis? Berdasarkan perubahan bentuknya, metamorfosis dibedakan menjadi metamorfosis sempurna dan tidak sempurna. Metamorfosis sempurna terjadi ketika hewan mengalami perubahan bentuk yang sangat berbeda pada setiap tahap perkembangannya

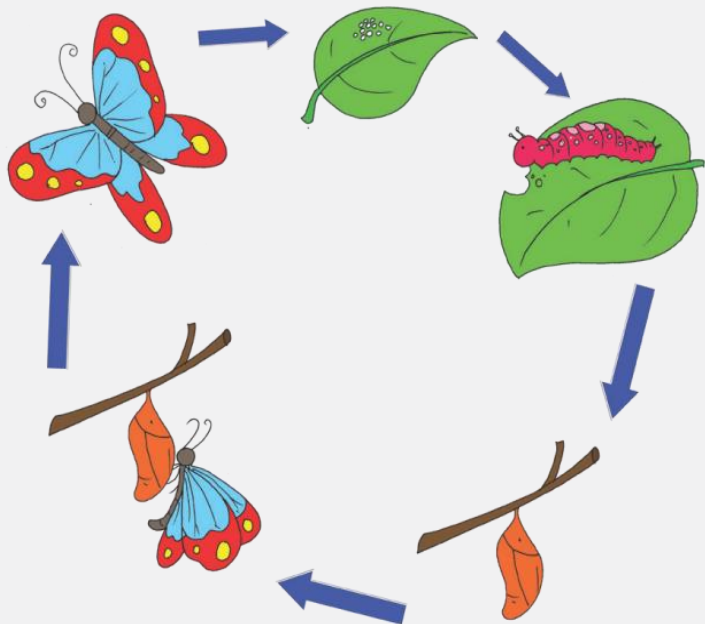


Amati teks berikut !



Metamorfosis sempurna terjadi pada hewan yang mengalami perubahan bentuk yang berbeda pada setiap perkembangannya. Contoh hewan yang mengalami metamorfosis sempurna adalah katak dan kupu-kupu. Kupu-kupu berkembang biak dengan cara bertelur. Kemudian, telur menetas menjadi ulat atau larva yang aktif mencari makanan. Setelah cukup mendapatkan makanan, ulat berubah menjadi pupa atau kepompong yang tidak bergerak dan melekat pada bagian pohon. Pupa merupakan masa istirahat sebagai persiapan menjadi kupu-kupu dewasa

Daur hidup kupu-kupu

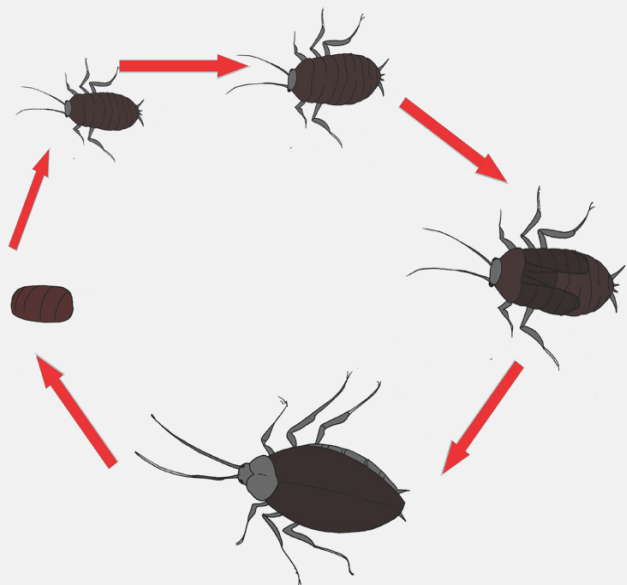


Amati teks berikut !



Metamorfosis tidak sempurna terjadi pada hewan yang mengalami perubahan bentuk yang tidak terlalu berbeda pada setiap perkembangannya. Hewan kelompok ini tidak mengalami fase larva dan pupa. Contoh hewan yang mengalami metamorfosis tidak sempurna adalah kecoa. Kecoa berkembang biak dengan bertelur. Telur kecoa menetas berubah menjadi kecoa muda yang disebut nimfa. Nimfa mengalami beberapa kali pergantian kulit sebelum menjadi kecoa dewasa. Pergantian kulit ini disebut ekdisis.

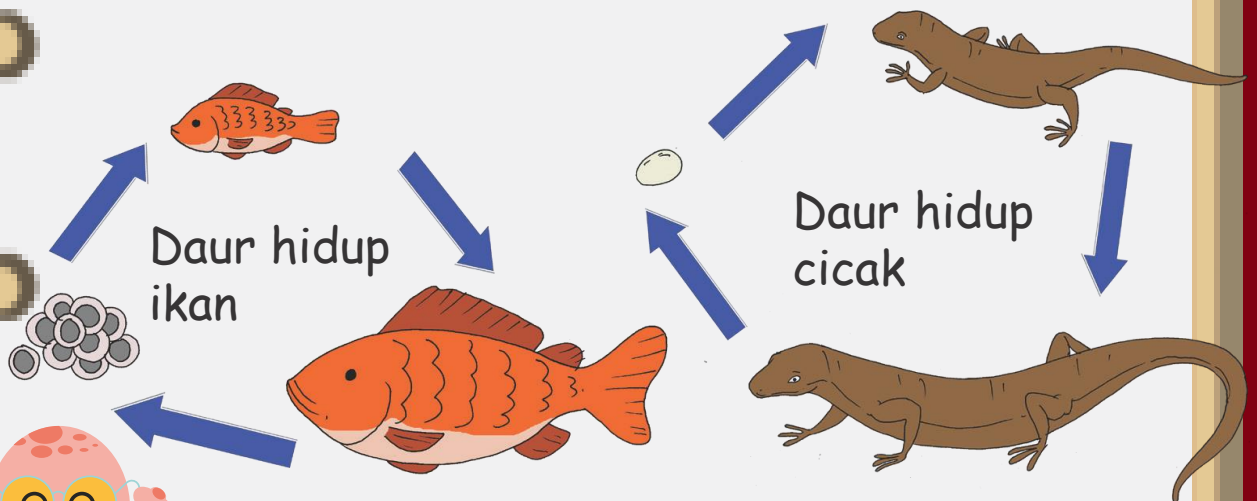
Daur hidup kecoa



Amati teks berikut !



Contoh lain jenis hewan yang tidak mengalami metamorfosis adalah ikan dan kadal. Ikan hidup di air dan berkembang biak dengan bertelur. Telur ikan menetas, lalu menjadi ikan muda, kemudian menjadi ikan dewasa. Bentuk ikan muda dan ikan dewasa tidak banyak mengalami perubahan. Demikian juga dengan kadal. Setelah bertelur, telur kadal akan menetas dan muncullah kadal muda. Seiring dengan waktu, kadal muda tumbuh dan berkembang menjadi kadal dewasa yang siap bertelur kembali setelah melakukan perkawinan dengan kadal dewasa lain.



Latihan Penguatan



A. Setelah membaca teks diatas coba tentukan pokok pikiran yang terdapat pada setiap paragraph !

1. Kalimat utama pada paragraf pertama adalah

2. Kalimat utama pada paragraf kedua adalah

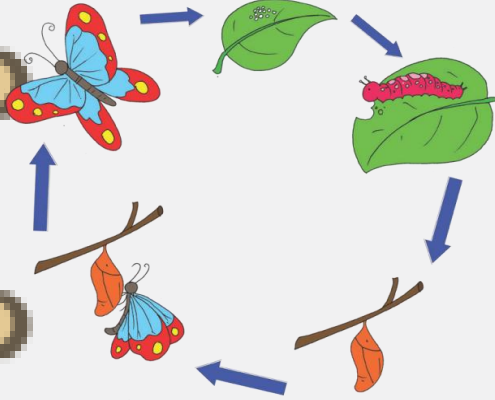
3. Kalimat utama pada paragraf ketiga adalah



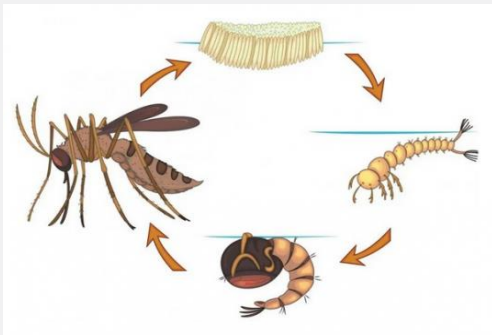
Latihan Penguatan



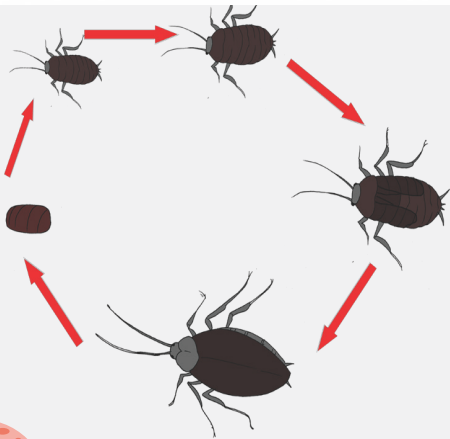
B. Amati gambar berikut ! Hewan manakah yang mengalami metamorfosis sempurna? dan berikan alasannya



1. _____



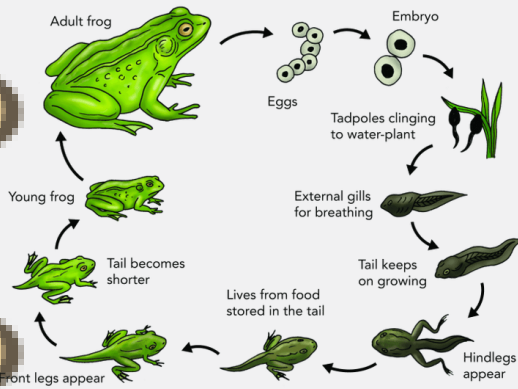
2. _____



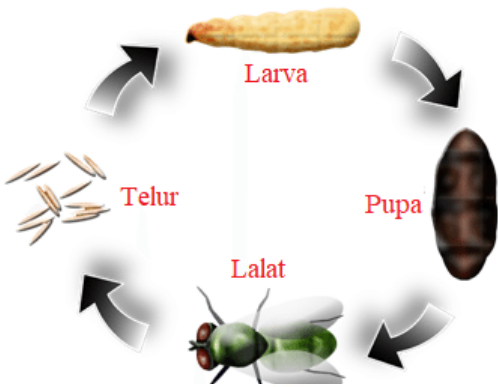
3. _____



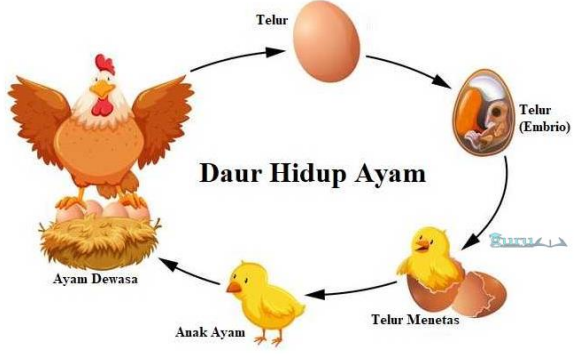
Latihan Penguatan



4.



5.



6.



Latihan Penguatan



C. Setelah kalian memahami daur hidup hewan, gambarlah 3 jenis daur hidup hewan dengan gambar tangan sendiri

1.

2.

3.



INGAT !!!!

Ciri Tanda Nada Mayor

1. Lagu bersifat gembira
2. Lagu bersemangat
3. Biasanya diawali dan diakhiri dengan nada do (1)

Ciri Tanda Nada Minor

1. Lagu bersifat sedih
2. Lagu kurang bersemangat
3. Biasanya diawali dan diakhiri dengan nada la (6)



Latihan Penguatan



D. Tentukan lagu berikut termasuk kedalam tangga nada mayor atau minor ?




1.

Bintang Kecil


g = do, 4/4

Moderato

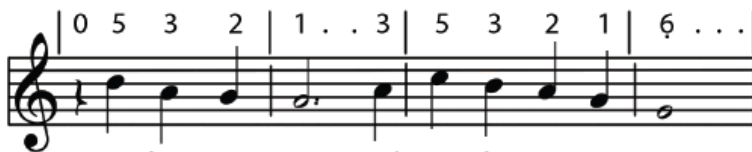
Daljono



Bintang ke - cil di langit yang ting-gi ,



A - mat ba - nyak menghi - as ang - ka - sa .



A - ku i - ngin terbang dan me - na - ri,




Ja - uh ting - gi ke tempat kau ber - a - da .

Jawab



Latihan Penguatan



2.

SYUKUR

C = La

4/4, Andante Sustenuto

H. Mutahar

6 . 6 6 6 1 . 7 6 . 3 . 3 3 2 1 7 . 2 2 7 .



Da ri ya kin ku te guh Ha ti ikh las ku pe nuh

5 6 . 6 3 2 1 7 . 1 6 . 6 . 6 6 7 6 5 4 . 3 2 .



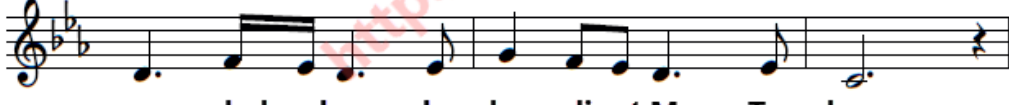
A kan ka ru ni a Mu Ta nah a ir pu sa ka

9 5 . 5 5 6 5 4 3 . 2 1 . 7 . 7 3 2 1



In do ne sia mer de ka Syu kur a ku

12 7 . 2 1 7 . 1 3 2 1 7 . 1 6 . . 0



sem bah kan ke ha di rat Mu Tu han

Jawab





3.

BANGUN PEMUDA - PEMUDI

G = Do
Marziale

C. Simanjuntak

5 3 4 5 1 2 3 1 1 7 2 1 7 6 5
Ba - ngun pe - mu - da pe - mu - di In - do - ne - si - a

5 3 4 5 1 2 3 1 2 2 3 4 5
Ta - ngan ba - ju - mu sing - sing - kan un - tuk ne - ga - ra


2 2 2 3 3 4 3 4 3 3 2 1 3 2
Ma - sa yang a - kan da - tang ke - wa - ji - ban mu lah

5 1 2 3 5 5 4 3 2 1 2 3
Men - ja - ditang - gu - ngan mu ter - ha - dap nu - sa

5 1 2 3 5 5 4 3 2 3 2 1
Men - ja - ditang - gu - ngan mu ter - ha - dap nu - sa

Jawab





4

Berkibarlah Benderaku

Do = G
4/4, Di marcia

Ibu Sud

5 5 3 1 2 3 2 1 1 3 5 5 6 6 6 6 5 0
 (1) Ber - ki - bar - lah ben - de - ra - ku, lam - bang su - ci ga - gah per - wi - ra.
 (2) Ka - mi rak - yat Lu - do - ne - sia, ber - se - di - a se - ti - ap ma - sa.


5 5 6 5 4 3 2 1 7 6 6 6 5 7 2 4 4 4 3 0
 Di se - lu - ruh pan - tai lu - do - ne - sia kau te - tap pu - ja - an Bang - sa.
 Men - cu - rah - kan se - ga - la te - na - ga, su - pa - ya kau te - tap ee - mer - lang.

5 5 2 2 2 2 3 2 1 1 1 1 5 5 2 2 2 2 3 5 0
 Si - a - pa be - ra - mi me - nu - run - kan eng - kau, se - ren - tak rak - yat - mu mem - be - la.
 Tak gen - tar ha - ti - ku me - la - wan rin - ta - ngan, tak go - yang ji - wa - ku ber - kor - ban.

5 3 2 1 7 1 3 6 5 1 2 3 3 5 4 3 2 1
 Sang me - rah pu - tih yang per - wi - ra, ber - ki - bar - lah s'la - ma - la - ma - nya.
 Sang me - rah pu - tih yang per - wi - ra, ber - ki - bar - lah s'la - ma - la - ma - nya.

Jawab





5

HARI MERDEKA

1 = C

Tempo = Sedang

Hs. Mutahar

Nada dasar asli : E Mayor

5 5 5 ^C 3̣ 3̣ 3̣ 3̣ 2̣ 3̣ 4̣ 2̣ 1̣ 5

Tu juh be las A gus tus ta hun em pat li ma

5 5 5 ^G 5̣ 5̣ 5̣ 5̣ 4̣ 5̣ 6̣ 4̣ ^C 3̣

i tu lah ha ri ke mer de ka an ki ta

i i i ^F 6̣ 6̣ 4̣ 5̣ 6̣ ^G 5̣ 3̣

Ha ri mer de ka nu sa dan bang sa

5 5 5 ^C 1̣ 1̣ 1̣ 1̣ 3̣ 3̣ 2̣ 1̣ ^G 2̣ 5̣

Ha ri la hir nya Bang sa In do ne si a Mer

Jawab





Selesai

Kesuksesan itu tidak
diwariskan akan
tetapi diusahakan

Creatif by
Nur Hadi 