

LEMBAR KERJA PESERTA DIDIK (LKPD)

TEMA 4 SUBTEMA 3 PEMBELAJARAN 4

KELAS 2



MATERI PEMBELAJARAN

1. Tekanan kuat dan lemah pada lagu berbirama dua atau tiga secara benar.
2. kosakata yang berkaitan dengan lingkungan tidak sehat berdasarkan teks
3. Menentukan banyak sisi, sudut, dan titik sudut bangun datar

Nama Siswa :
Kelas :
Tema / Subtema : Hidup Bersih dan Sehat / Hidup Bersih dan Sehat di rumah

Tujuan Pembelajaran :

1. Dengan mengamati video , siswa dapat menyebutkan contoh tanda birama sebanyak 2 buah.
2. Dengan mengamati teks bacaan siswa dapat menyebutkan cara - cara menjaga kebersihan halaman rumah dengan benar.
3. Melalui kegiatan mengamati gambar , siswa dapat menuliskan banyak sisi, sudut, dan titik sudut bangun datar secara benar.
4. Dengan mengamati gambar , siswa dapat menghitung banyak sisi , sudut dan titik sudut dengan benar.

Langkah - Langkah Kegiatan

1. Amatilah teks berikut ini !

“ Sayangi lingkungan rumahmu “

Hari ini indah sangat senang, sehingga ketika ia sedang membersihkan halaman ia bernyanyi, ia menyanyikan lagu “ membuang sampah” yang liriknya seperti berikut ini

Membuang Sampah

do = C 2/4 sedang Syair dan Lagu: A.T Mahmud

1 1 3 5 | 6 5 3 | 2 2 1 2 | 3 . 0 |
Ja-nan mem-bu - ang sam-pah di ma-na ma - na



1 1 3 5 | 6 5 3 | 4 4 3 2 | 1 . 0 |
Ja - ga - lah ke - ber - sih - an di ling - ku - ngan - mu

2 2 . 3 | 4 4 4 | 3 3 . 4 | 5 5 5 |
Sam-pah di ru - mah - mu sam-pah di - ha - la - man

6 1 7 6 | 5 3 . 3 | 4 6 5 4 | 3 . 0 |
Sa - pu dan ber - sih - kan bu - ang di tem - pat - nya

6 1 7 6 | 5 3 . 3 | 4 4 3 2 | 1 . 0 |
Sa - pu dan ber - sih - kan bu - ang di tem - pat - nya

Indah bernyanyi dengan memperhatikan tanda dinamik yang ada pada lagu tersebut . Tanda dinamik yang ada pada lagu tersebut diantaranya:

- Tanda  berarti dinyanyikan keras
- Tanda  berarti dinyanyikan lembut
- Baris yang tidak bertanda dinyanyikan biasa

2. Dari hasil pengamatanmu dapatkan kalian tulis lirik dari lagu yang bertanda :

- 
- 

3. Amatilah gambar berikut ini !

Ketika indah sedang bernyanyi indah memperhatikan keadaan di sekitar rumahnya .







4. Setelah kalian mengamati gambar di atas bagaimana pendapat kalian tentang lingkungan tersebut ?

.....
.....
.....

5. Menurut pendapat kalian hal apa sajakah yang dapat dilakukan untuk menjaga kebersihan lingkungan ?

.....
.....
.....

6. Amatilah gambar - gambar di bawah ini !



DARI HASIL PENGAMATAN KALIAN APA CIRI - CIRI BANGUN DATAR DI ATAS ?

.....

.....

.....