

Lembar Kerja Peserta Didik

(L K P D)

**Hidup Bersih dan Sehat di
Tempat Bermain**



KELAS 2

TEMA 4 SUB TEMA 3

PEMBELAJARAN 6

Nama Siswa:.....

No Absen :.....

LEMBAR KERJA PESERTA DIDIK

“Persatuan di Tempat Bermain”

Nama Sekolah: SDN Tembelang 01

Kelas / semester : II (Dua) / 1

Tema : 4. Hidup Bersih dan Sehat.

Sub Tema : 3. Hidup Bersih dan Sehat di Tempat Bermain

Pembelajaran : PPKn

Kegiatan : Mengamati vidio tentang Persatuan di tempat Bermain

PETUNJUK MENGERJAKAN!

1. Tulislah nama pada pojok kanan atas!
2. Kerjakanlah soal pada LKPD!
3. Hasil pekerjaan di foto dan dikirim lewat WAG

Tujuan

Setelah mengamati vidio, siswa dapat menuliskan hasil pengamatannya di lembar tugas.

Langkah kerja:

1. Bukalah vidio di youtube dengan link <https://youtu.be/oa7EsE7WzEo>
2. Amatilah dan jawablah pertanyaan di bawah ini
 - a. Siapa saja teman Nabila?
 - b. Apakah Nabila dan teman – temannya mempunyai agama yang sama?
 - c. Sebutkan agama – agama teman Nabila!
 - d. Berasal dari mana saja teman Nabila?
 - e. Apakah mereka berteman baik?
 - f. Apakah mereka saling menghormati agamanya masing – masing?
 - g. Bagaimana cara berdoa Nabila dan teman – teman saat mereka makan?
 - h. Pada kegiatan apa yang mencerminkan mereka bersatu dalam bermain?

3. Tulislah hasil pengamatanmu di bawah ini.

1.
2.
3.
4.
5.
6.
7.
8.

Nama Siswa:.....

No Absen :.....

LEMBAR KERJA PESERTA DIDIK

“Perilaku Menjaga Kesehatan Badan”

Nama Sekolah : SDN Tembelang 01

Kelas / semester : II (Dua) / 1

Tema : 4. Hidup Bersih dan Sehat.

Sub Tema : 3. Hidup Bersih dan Sehat di Tempat Bermain

Pembelajaran : Bahasa Indonesia

Kegiatan : Mengamati Gambar Perilaku menjaga Kesehatan Badan

PETUNJUK MENERJAKAN!

1. Tulislah nama pada pojok kanan atas!
2. Gambarlah benda yang ada di sekitarmu!
3. Hasil pekerjaan di foto dan dikirim lewat WAG

Tujuan kegiatan

Siswa dapat menyimpulkan maksud dari gambar yang diamati

Langkah kegiatan:

1. Amatilah gambar dibawah ini!



2. Jawablah pertanyaan di bawah ini!

1. Apa yang sedang dilakukan anak pada gambar A, B, dan C?
2. Pada saat apa kamu melakukan aktifitas pada gambar A?
3. Pada saat apa kamu melakukan aktifitas pada gambar B?
4. Pada saat apa kamu melakukan aktifitas pada gambar C?
5. Selain kegiatan diatas, sebutkan 2 contoh perilaku menjaga kesehatan badan!

3. Tulislah jawabanmu dibawah ini!

- 1.....
- 2.....
- 3.....
- 4.....
- 5.....

Nama Siswa:.....

No Absen :.....

LEMBAR KERJA PESERTA DIDIK

“Rusuk, Sisi, dan Titik Sudut Pada Bangun Ruang”

Nama Sekolah: SDN Tembelang 01

Kelas / semester : II (Dua) / 1

Tema : 4. Hidup Bersih dan Sehat.

Sub Tema : 3. Hidup Bersih dan Sehat di Tempat Bermain

Pembelajaran : Matematika

Kegiatan : Menghitung jumlah rusuk, sisi dan titik sudut pada bangun ruang

PETUNJUK MENERJAKAN!

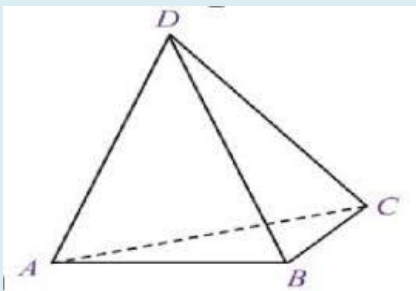
1. Tulislah nama pada pojok kanan atas!
2. Kerjakan Soal pada LJK!
3. Hasil pekerjaan di foto dan dikirim lewat WAG

Tujuan

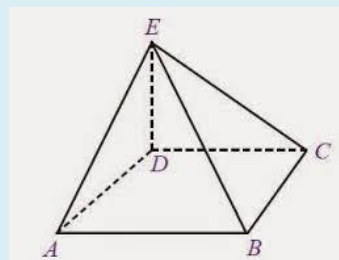
Siswa dapat menemukan banyaknya sisi, rusuk dan titik sudut pada bangun ruang limas dan prisma

Gambar yang diamati

1. Limas segi tiga

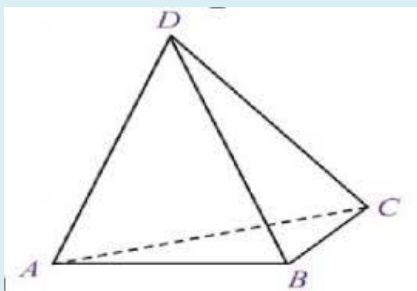


2. Limas segi empat

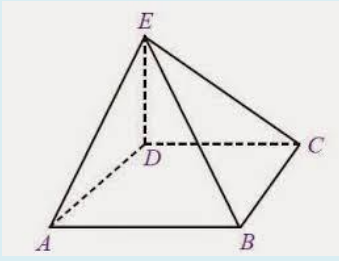


Langkah kerja:

1. Amatilah gambar bangun datar tersebut
2. Hitunglah ruas garis yang horisontal / mendatar
3. Hitunglah ruas garis yang miring
4. Tulislah hasil pengamatanmu di bawah ini



Jumlah ruas garis ada yaitu ruas garis



Jumlah Ruas garis ada yaitu.....
.....