



LKPD MATEMATIKA



Kelas 6 Semester 1

Unsur-unsur Lingkaran


Oleh : Ni Wayan Sri Agustini, S.Pd

Nama :

Kelas :

No.Absen :





PETUNJUK Pengerjaan LKPD

1. Berdoalah sebelum mengerjakan tugas.
2. Isilah identitas dengan lengkap.
3. Kerjakan tugas secara mandiri dan teliti.
4. Apabila ada hal yang kurang dipahami, tanyakan kepada guru.



Tujuan Pembelajaran

1. Peserta didik dapat merinci macam-macam unsur lingkaran dengan tepat dan benar.
2. Peserta didik dapat menemukan pengertian tiap unsur- unsur lingkaran dengan benar dan percaya diri.
3. Peserta didik dapat menemukan unsur-unsur lingkaran melalui gambar yang disediakan dengan tepat.



Kegiatan 1

1. Setelah kalian mengamati materi pembelajaran yang disampaikan oleh guru melalui video tadi, Coba tuliskan unsur – unsur lingkaran yang telah kalian pahami!

- 1.
- 2.
- 3.
- 4.



Kegiatan 2



1. Hubungkanlah dengan garis unsur-unsur lingkaran berikut sesuai dengan pengertiannya!

Sebuah titik yang tepat berada di tengah



Jari-jari

Garis yang ditarik dari titik pusat lingkaran ke arah luar hingga menyentuh garis lengkung



Diameter

Garis lurus yang menghubungkan dua titik pada lengkung lingkaran dan melalui titik pusat.




Titik Pusat

Garis lengkung yang terletak pada lengkung lingkaran dan menghubungkan dua titik sembarang di lengkung tersebut




Busur

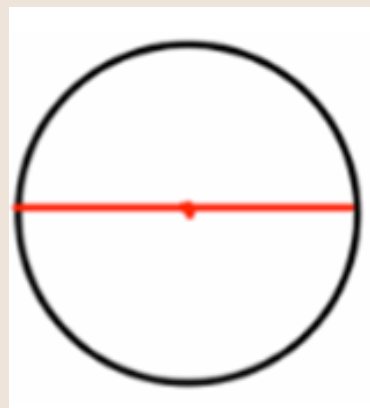


Kegiatan 3

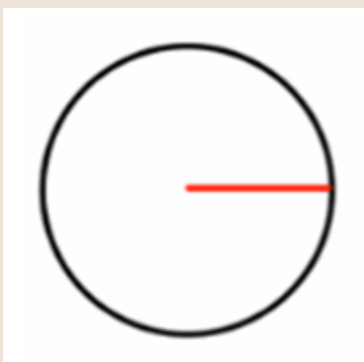
1. Isilah kolom berikut, dengan cara menulis nama unsur-unsur lingkaran sesuai dengan gambar.



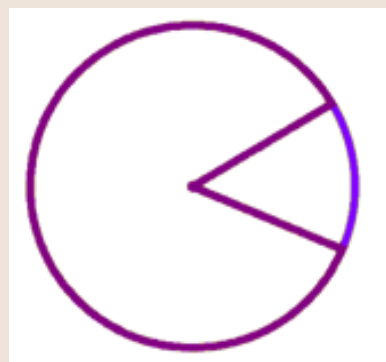
.....



.....



.....



.....

Selamat Belajar



1. Sampaikan hasil isianmu pada google classroom!
2. Bertanyalah jika ada soal yang kurang dipahami!
3. Jangan lupa kerjakanlah soal evaluasi melalui google formulir!

