



EDISI REVISI 2017

Hidup Bersih dan Sehat

Buku Tematik Terpadu Kurikulum 2013

Tema 4

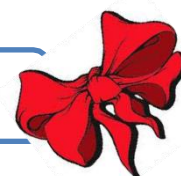
LEMBAR KERJA PESERTA DIDIK



Buku Siswa SD/MI
Kelas II

Satuan Pendidikan : SDN 3 TRI MULYA
Kelas /Semester : II/1
Tema4 : Hidup Bersih dan Sehat
Subtema 1 : Hidup Bersih dan Sehat di Rumah
Muatan Terpadu : Matematika
Pembelajaran ke- : 1
Alokasi Waktu : 1 x 30 menit (1JP)

KOMPETENSI DASAR DAN INDIKATOR



Muatan Matematika

No	Kompetensi Dasar	Indikator
3.9	Menjelaskan ruas garis dengan menggunakan model konkret bangun datar dan bangun ruang. (C2)	3.9.1 Menyebutkan ruas garis dengan menggunakan model konkret bangun datar dan bangun ruang. (C1)
4.9	Mengidentifikasi ruas garis dengan menggunakan bangun datar dan bangun ruang. (C4)	4.9.1 Menunjukkan ruas garis yang membatasi model bangun datar dengan tepat. (P3)

**TUJUAN PEMBELAJARAN
DAN
MATERI PEMBELAJARAN**



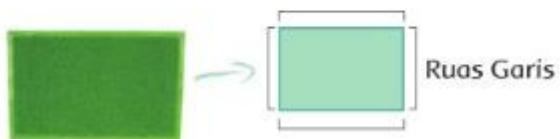
TUJUAN MUATAN MATEMATIKA

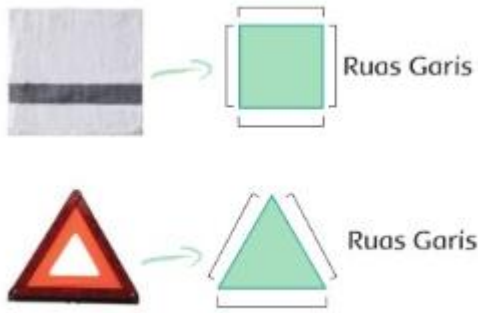
3.9.1 Peserta didik (A) dapat **menentukan** (B) ruas garis yang membatasi model bangun datar (C) secara benar (D) **C3**

Perhatikan gambar dibawah



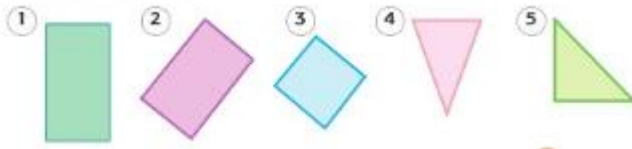
Gambar apa yang kamu amati di atas?
Tahukah kamu bentuk setiap benda itu?
Keset dan serbet berbentuk bangun datar.
Bangun-bangun datar tertentu mempunyai ruas-
ruas garis.



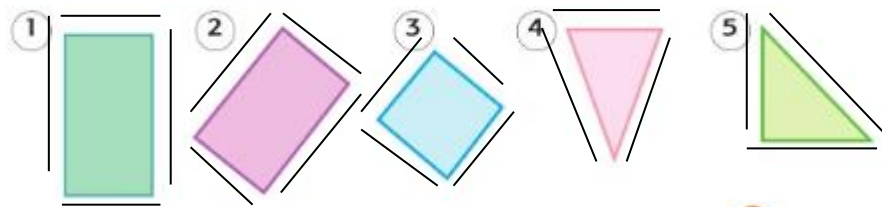


Latihan

Tunjukkan ruas ruas garis pada bangun datar berikut



Kunci jawaban Matematika



Score nilai muatan Bahasa Indonesia

Terdapat 5 identifikasi

Nilai = jumlah betul X 20

Terdapat 3 identifikasi

Nilai = jumlah betul X 30

Keimpulan

Setelah mengamati gambar peserta didik dapat menentukan ruas garis yg membatasi model bangun datar secara ut

