

# LEMBAR KERJA PESERTA DIDIK (LKPD)

## TEMA 3 KEGIATANKU SUB TEMA 3 KEGIATAN SORE HARI PEMBELAJARAN 3



Nama Siswa : .....

Kelas : .....

**Petunjuk Pembelajaran:**

1. Bukalah Buku Modul Tema 3 Subtema 2 Pembelajaran 3 yang dikirim melalui grup WA!
2. Bacalah cerita dibawah ini, kemudian cocokkan setiap kalimat yang rumpang dengan cerita yang kamu baca!

### Sore yang Menyenangkan

Sore hari ayah Beni pulang dari kantor.  
Beni dan ibunya sangat gembira.  
Ayah Beni membawa oleh-oleh.  
Betapa senang hati Beni.  
Ibu menyambut ayah dengan senyum.  
Beni membawakan tas ayahnya ke dalam.  
Ibu menyiapkan teh manis .  
Beni membantu ibunya membawa kue.  
Ayah Beni merasa senang.  
Mereka merasa gembira dan bersyukur.



### Untuk soal no 1 – 5

**Bacalah cerita dibawah ini, kemudian lengkapilah kalimat rumpang berikut sesuai dengan pilihan kata yang ada!**







pulang

membantu

Teh manis

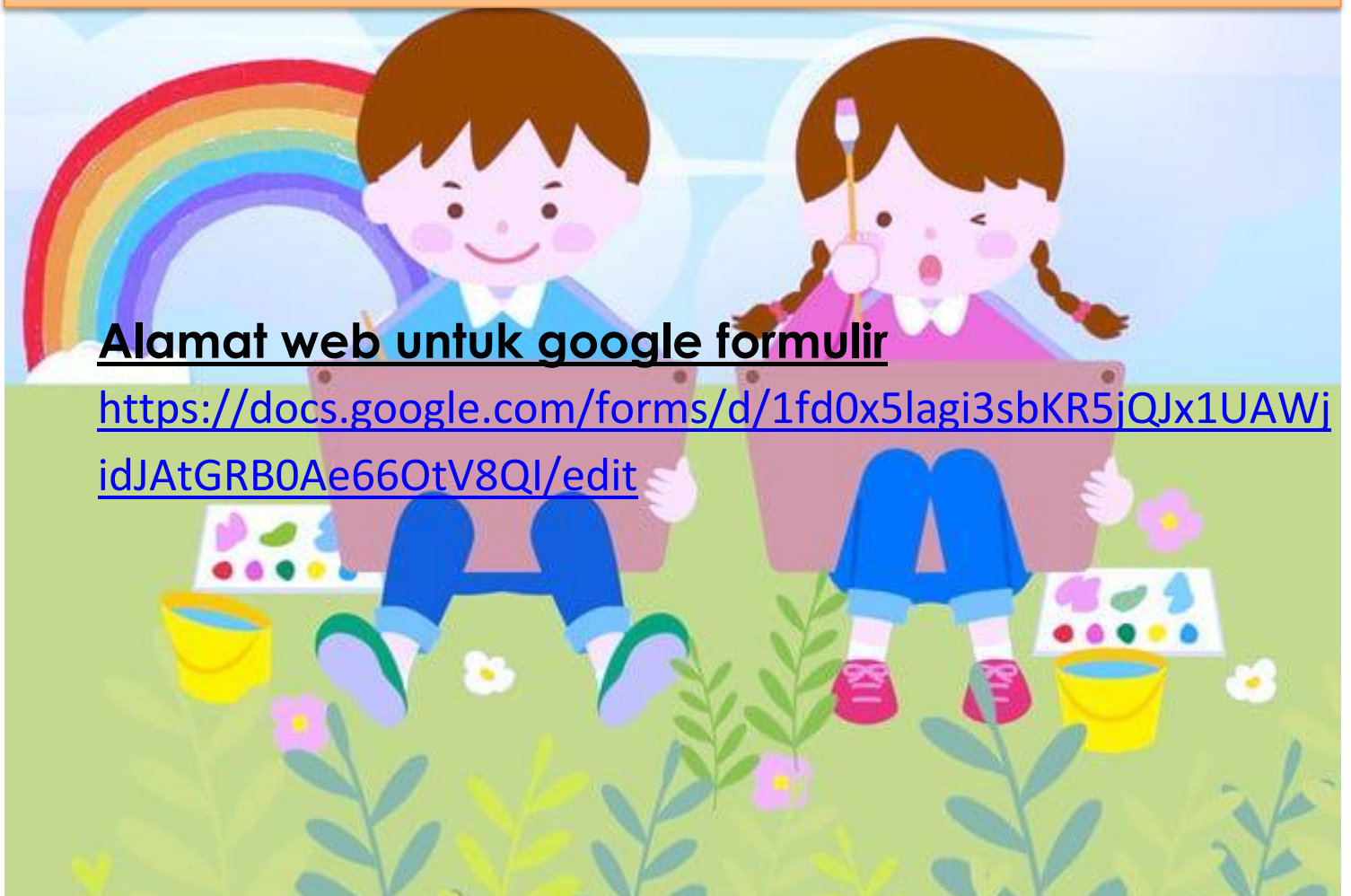
gembira

Oleh-oleh

1. Sore hari ayah beni ..... dari kantor
2. Ayah beni membawa .....
3. Ibu menyiapkan .....
4. Beni ..... ibunya membawa kue
5. Mereka merasa ..... Dan bersyukur

**Alamat web untuk google formulir**

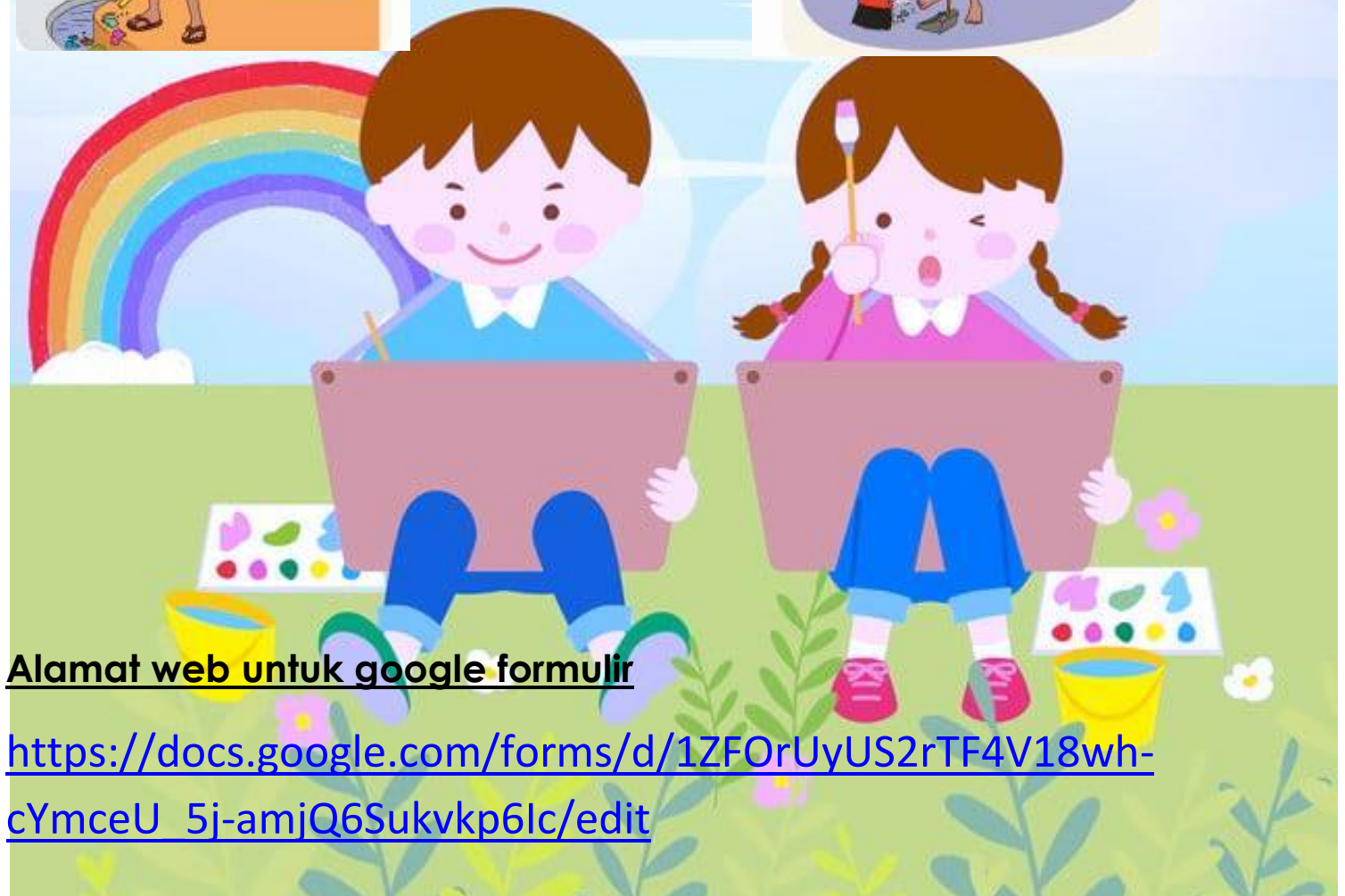
**<https://docs.google.com/forms/d/1fd0x5lagi3sbKR5jQJx1UAWjIdJAtGRB0Ae66OtV8QI/edit>**



**Petunjuk Pembelajaran:**

1. Bukalah Buku Tema 3 Subtema 3 Halaman 75!
2. Bukalah Buku Modul Tema 3 Subtema 2 Pembelajaran 3 yang dikirim melalui grup WA!

**Berilah tanda ✓ pada gambar yang menunjukkan Kegiatan sore hari yang sesuai aturan di rumah!**



**Alamat web untuk google formulir**

[https://docs.google.com/forms/d/1ZFOrUyUS2rTF4V18wh-cYmceU\\_5j-amjQ6Sukvvp6lc/edit](https://docs.google.com/forms/d/1ZFOrUyUS2rTF4V18wh-cYmceU_5j-amjQ6Sukvvp6lc/edit)




Petunjuk Pembelajaran:

- Bukalah Buku Tema 3 Subtema 3 Halaman 101!
- Bukalah Buku Modul Tema 3 Subtema 2 Pembelajaran 3 yang dikirim melalui WAG



Kelereng ada 15



Spidol berwarna ada 12



Mobil-mobilan ada 11



Buku tulis ada 12

### Ayo Membandingkan Bilangan!

Tuliskan lambang bilangan lebih dari ( $>$ ), kurang dari ( $<$ ), atau sama dengan ( $=$ ) pada titik dibawah ini dengan tepat!

1. Kelereng lebih dari buku tulis

15 ..... 12

2. Mobil-mobilan Kurang dari spidol berwarna

11 ..... 12

3. Buku tulis sama dengan mobil-mobilan

12 ..... 11

4. Spidol berwarna kurang dari kelereng

12 ..... 15

Alamat web untuk google formulir

<https://docs.google.com/forms/d/1CQJb09VElu-3QldU1LjuPGkQaka1C58i8W6qnAvLIA8/edit>

