

TUGAS UNIT 4
MERANCANG LEMBAR KERJA PESERTA
DIDIK DARING
RENCANA PELAKSANAAN PEMBELAJARAN 1

OLEH:

Anak Agung Bintang Sekarini, S.Pd

Judul :LKPD Tema 3 Subtema1 Pembelajaran 1

Nama Siswa:

Focus mata pelajaran Matematika













Tujuan LKPD:

- Siswa dapat mengurutkan pecahan uang secara cermat

Petunjuk LKPD:

1. Berikut ini mata uang logam yang harus diurutkan dari yang terkecil sampai yang terbesar cobalah urutkan dengan tepat!
2. Bukalah kembali bahan ajar yang sudah diakses sebelumnya
3. Bacalah tentang mengenal mata uang logam!
4. Isilah urutan dengan nomor 1,2,3 mulai dari yang terkecil sampai terbesar!

Urutkan pecahan uang berikut mulai dari yang nilainya terkecil!

1.			
	<input type="text"/>	<input type="text"/>	<input type="text"/>
2.			
	<input type="text"/>	<input type="text"/>	<input type="text"/>
3.			
	<input type="text"/>	<input type="text"/>	<input type="text"/>
4.			
	<input type="text"/>	<input type="text"/>	<input type="text"/>

5. Setelah selesai mengerjakan LKPD silahkan kirimkan *link* ke **grup Whatshap**.



Kesimpulan:

Setelah mengerjakan LKPD tentang mengurutkan mata uang logam di atas saya dapat mengurutkan nilai mata uang dari yangsampai yang