


LKPD Kelas 3



NAMA : _____

NO. ABSEN : _____

Kelas/ Semester : III (Tiga) / 1 (satu)
Tema : 4. Kewajiban dan Hakku
Subtema : 1. Kewajiban dan Hakku di Rumah
Pembelajaran : 6 (Bahasa Indonesia, PPkN, Matematika)

A. Judul Kegiatan

Mengidentifikasi kewajiban dan hak sebagai anggota keluarga di lingkungan rumah.

B. Tujuan Kegiatan

1. Dengan mengamati teks, siswa dapat menemukan ungkapan atau kalimat saran, masukan, dan penyelesaian masalah (sederhana) dengan tepat.
2. Mengidentifikasi kewajiban dan hak sebagai anggota keluarga di lingkungan rumah
3. Menemukan masalah di lingkungan rumah, siswa dapat menuliskan kewajiban dan hak yang ada di rumah
4. Menceritakan pengalamannya tentang pelaksanaan kewajiban dan hak sebagai anggota keluarga berkaitan dengan makanan

C. Alat dan Bahan

1. Alat : Alat tulis dan smartphone
2. Bahan : Modul dan smartphone.

D. Petunjuk Langkah-langkah Kegiatan

1. Tuliskan namamu pada kolom yang telah disediakan!
2. Amatilah gambar hak dan kewajibanmu di rumah tentang makanan !
3. Kerjakanlah latihan soal berikut dengan sungguh-sungguh!Petunjuk Mengerjakan!

E. Hasil pengamatan

Untuk mengukur kemampuan dirimu dalam menerapkan konsep hak dan kewajibanmu di rumah, amatilah kegiatan dibawah ini dan kerjakanlah soalnya!
Kirim tugasmu melalui google classroom!



Ayo Mengamati

Bacalah Teks berikut Dan berilah Saran kepada Rani !

Lingkungan Rumahku yang Nyaman



Nina tinggal di rumah bersama kedua orang tuanya. Setiap hari minggu kami membersihkan rumah bersama-sama. Rumah Nina yang bersih membuat Nina dapat bermain, belajar dan beristirahat dengan baik. Ibu Nina suka dengan rumah yang bersih.

Tuliskan Saran yang akan kamu berikan kepada Nina supaya rumahnya selalu bersih !


















Ayo Mengerjakan

Pak Robi ingin membuat rumahnya nyaman. Ia berencana membuat pagar rumahnya. Pak Robi membutuhkan 970 batu bata. Ia memiliki batu bata di rumah. Pak Robi membeli kekurangannya di took bangunan. Berapa bata yang mungkin Pak Robi miliki dan berapa yang harus dibeli?

**Tuliskan jawabanmu di tempat yang tersedia !
Buatlah 5 kemungkinan !**



1.  +  =  .
2.  +  =  .
3.  +  =  .
4.  +  =  .
5.  +  =  .



Ayo Mencoba

Lengkapilah Tabel di bawah ini !

No.	Kegiatan yang dilakukan	Tuliskan saran kamu
		
		
		
		
		



Ayo Menulis

Amatilah gambar dibawah ini !

Ceritakanlah gambar yang telah kamu amati tentang Hak dan Kewajiban dengan bahasamu sendiri !



	<hr/> <hr/> <hr/> <hr/> <hr/> <hr/> <hr/> <hr/> <hr/> <hr/>	
--	---	--

KESIMPULAN

Tuliskan kesimpulan apa yang kamu dapatkan pada materi ini !

A large, empty, rounded rectangular box with a dashed brown border, intended for writing the conclusion.



Semangat Mengerjakan