

Sehat itu Penting

LEMBAR KERJA PESERTA DIDIK (LKPD)

TEMA 5

SEHAT ITU PENTING

SUBTEMA 2

GANGGUAN KESEHATAN PADA ORGAN PEREDARAN DARAH

PEMBELAJARAN 1

MATA PELAJARAN :

BAHASA INDONESIA, DAN IPA

NAMA :

NO. ABSEN :



LEMBAR KERJA PESERTA DIDIK

(LKPD 1)



JUDUL KEGIATAN

Pantun

TUJUAN KEGIATAN

1. Siswa dapat menjelaskan amanat dan isi pantun yang ditayangkan melalui powerpoint
2. Siswa dapat membuat pantun sesuai dengan tema



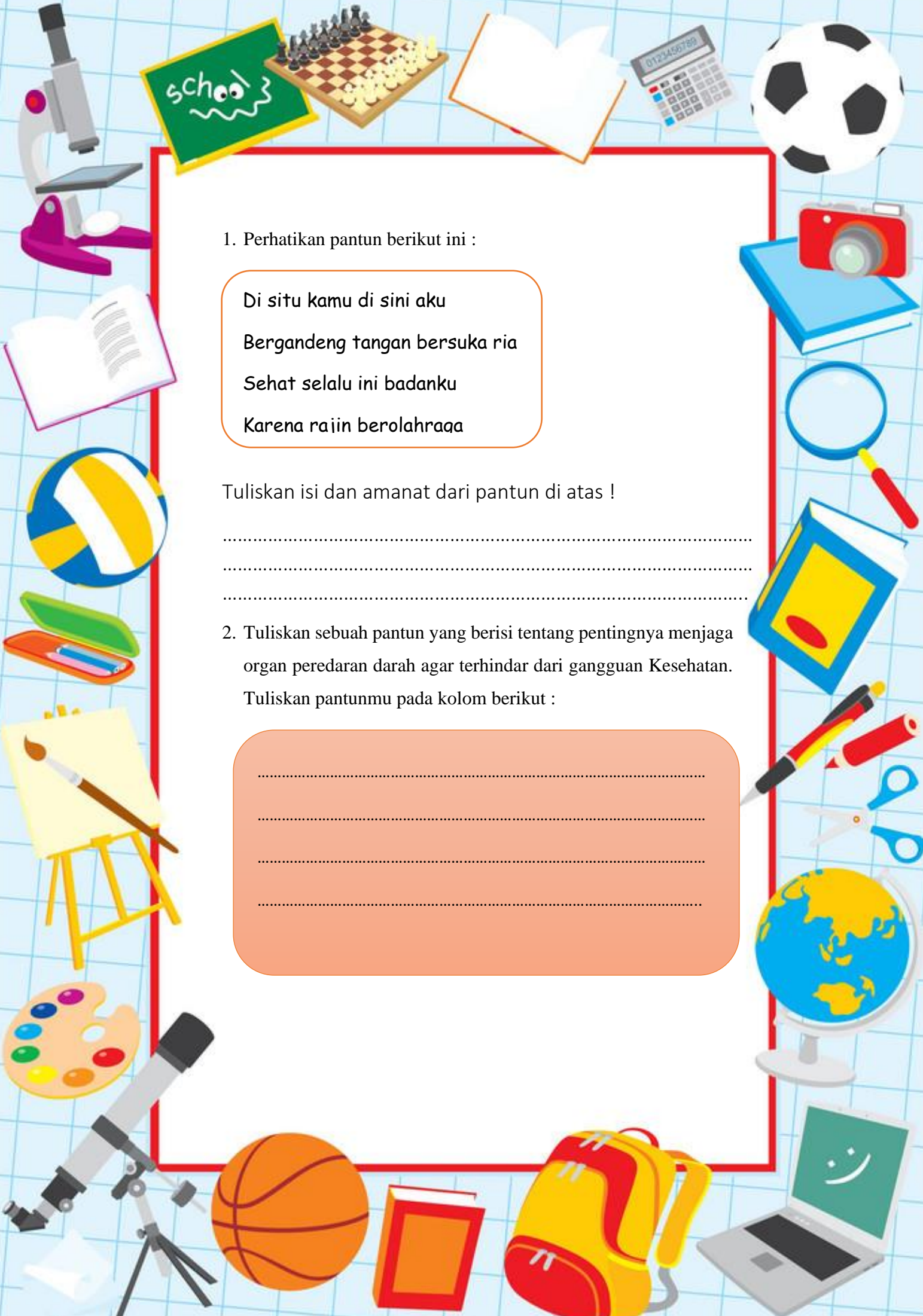
PETUNJUK Mengerjakan

1. Amati tayangan power point yang ditampilkan oleh guru
2. Tuliskan amanat dan isi dari pantun yang ditampilkan.
3. Tuliskan sebuah pantun pada kolom yang sudah disediakan yang berisikan tentang mengenai menjaga organ peredaran darah manusia.



Manusia rentan dengan berbagai macam gangguan pada organ tubuhnya, di antaranya gangguan pada organ peredaran darah. Apa penyebab gangguan pada organ peredaran darah manusia? Apa saja jenis gangguan pada organ peredaran darah manusia?





1. Perhatikan pantun berikut ini :

Di situ kamu di sini aku
Bergandeng tangan bersuka ria
Sehat selalu ini badanku
Karena rajin berolahraga

Tuliskan isi dan amanat dari pantun di atas !

.....
.....
.....

2. Tuliskan sebuah pantun yang berisi tentang pentingnya menjaga organ peredaran darah agar terhindar dari gangguan Kesehatan. Tuliskan pantunmu pada kolom berikut :

.....
.....
.....
.....



LEMBAR KERJA PESERTA DIDIK

(LKPD 2)




JUDUL KEGIATAN

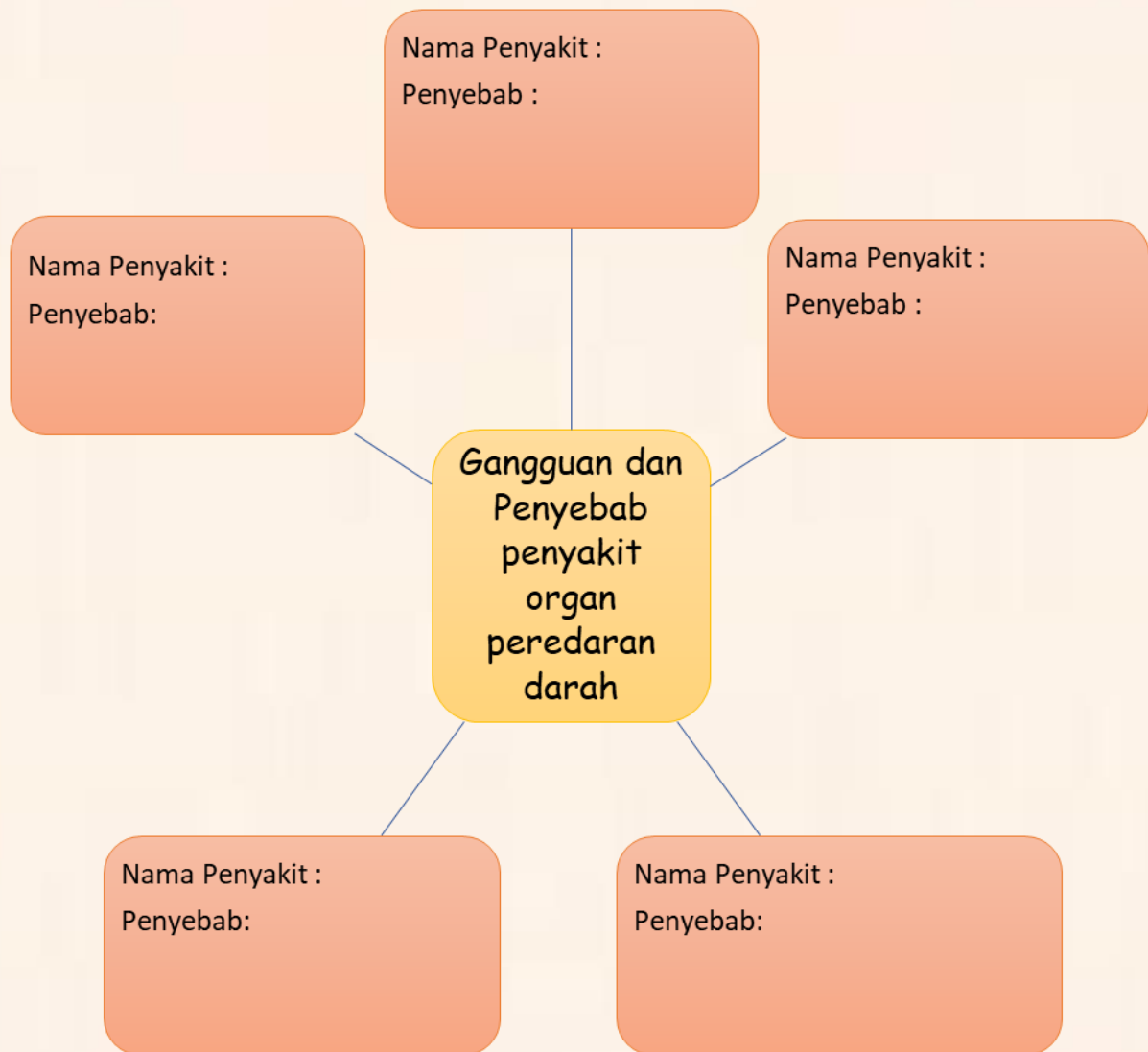
Membuat diagram gangguan dan penyebab pada organ peredaran darah manusia

TUJUAN KEGIATAN

- siswa dapat menyebutkan dan membedakan gangguan peredaran darah manusia.
- Siswa dapat menganalisis penyebab gangguan peredaran darah pada manusia
- siswa dapat membuat diagram mengenai gangguan peredaran darah manusia dan penyebabnya

PETUNJUK MENGERJAKAN

1. Amati video yang ditampilkan oleh guru melalui zoom mengenai gangguan peredaran darah manusia. Agar lebih jelasnya buka link berikut <https://www.youtube.com/watch?v=ym8QSAIuH0o>
 2. Setelah mengamati coba tuliskan macam-macam gangguan dan penyebab nya pada organ peredaran darah manusia dalam diagram berikut.
 3. Tuliskan pada diagram berikut :
- 



NILAI	PARAF ORANG TUA	PARAF GURU