

LEMBAR KERJA PESERTA DIDIK (LKPD)

KELAS I SEMESTER 1

TEMA 4 KELUARGAKU

SUBTEMA 2 KEGIATAN KELUARGAKU

PEMBELAJARAN 5



OLEH :


**KETUT SUCI ANTARI
PPG DALJAB ANGGKATAN IV
TAHUN 2021**





Nama Siswa : _____

No. Absen : _____



A. Tujuan Kegiatan

1. Siswa dapat menguraikan teks percakapan ungkapan tolong dan terima kasih dengan tepat. *(HOTS/C4)*
2. Siswa dapat membuat cerita kegiatan dirumah menggunakan ungkapan tolong dan terima kasih dengan santun. *(HOTS/P5)*
3. Siswa dapat memecahkan soal pola bilangan berdasarkan pola tertentu. *(HOTS/C4)*
4. Siswa dapat membuat pola bilangan dengan teliti. *(HOTS/P5)*.



B. Petunjuk Kegiatan

1. Tulislah nama dan nomor absen pada kolom yang telah disediakan!
2. Siapkan alat dan bahan yang diperlukan!
3. Bacalah setiap petunjuk yang terdapat pada LKPD!
4. Kerjakan soal pada LKPD sesuai dengan langkah-langkah kegiatan!
5. Periksa kembali jawabanmu apabila telah selesai dikerjakan!
6. Setelah selesai, LKPD dikirim melalui *WhatsApp (WAG)*





KEGIATAN 1



A. Alat / Bahan

1. Pensil
2. Penghapus



B. Langkah-langkah Kegiatan

1. Diskusikan bersama kelompok.
2. Tuliskan jawaban kalian pada lembar kerja yang disiapkan.

Ayo Berlatih



Lengkapilah kalimat dibawah ini dengan kata terima kasih dan tolong!

PERILAKU

Saat kalian akan meminta bantuan, maka ucapkan dahulu

Saat diberi hadiah oleh orang lain, segera ucapkan ...

Saat pulang sekolah, Ibu sudah menyiapkan makanan kesukaan, maka segera ucapkan ...

Saat kamu akan mengambil buku di rak, tanganmu tidak sampai karena raknya tinggi, maka kamu memohon bantuan dengan mengatakan kepada kakak



A. Alat / Bahan




1. Pensil
2. Penghapus
3. Pensil Warna/ crayon



B. Langkah-langkah Kegiatan

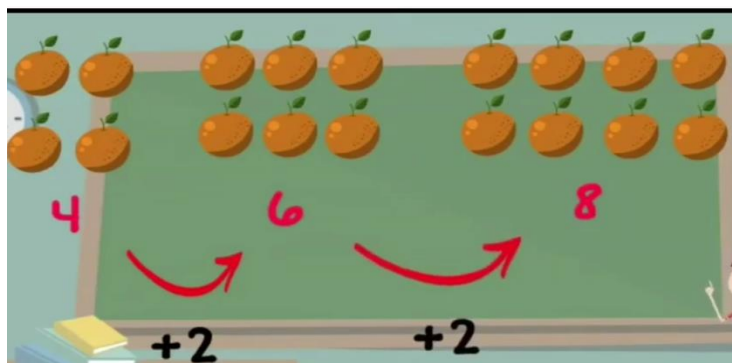
1. Perhatikan gambar di bawah ini! Kemudian lengkapi pola bilangan berdasarkan gambar berikut!



2. Lengkapilah pola bilangan berikut!

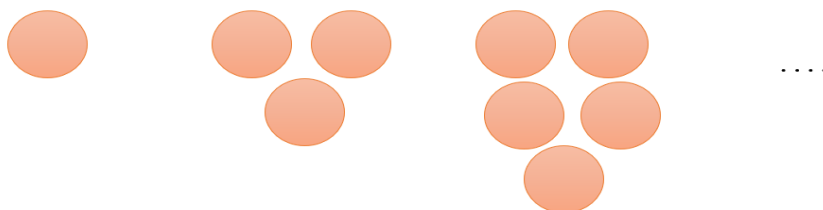


3. Perhatikan gambar pola bilangan berikut!



Pola bilangan yang terbentuk adalah ...

4. Gambarlah lingkaran sesuai dengan pola gambar berikut!



5. Bilangan yang tepat untuk melengkapi pola bilangan berikut 4, 7, 10, 13,



