


TEMA 3 TUGAS KU SEHARI – HARI


SUBTEMA 2 TUGASKU SEHARI – HARI DI SEKOLAH

PEMBELAJARAN 1

SDN II SERUNAI




LINGKUNGAN GEOGRAFIS SEKOLAH



Sawah



SDN Nusantara 01



Sawah

Jalan Nusantara



Puskesmas



Toko



Rumah warga



Fotokopi



Balai kelurahan

Ayo Mengamati





▪ Sekolah Dasar Negeri Nusantara 01

SD Nusantara 01 terletak di Jalan Nusantara Nomor 10. Sebelah kanan dan kiri sekolah terdapat sawah.

Di depan sekolah terdapat rumah warga, toko, dan tempat fotokopi.

Jarak tempuh dari kota ke sekolah sekitar lima kilometer.

Beberapa siswa berangkat ke sekolah diantar orang tuanya. Beberapa siswa berjalan kaki.

Ada juga siswa yang berangkat naik angkutan umum. Jalan Nusantara dilalui angkutan umum.

Jawablah dengan denah dan teks bacaan tersebut!

Ayo Berlatih



1. SDN Nusantara 01 terletak di jalan ...

2. Di samping kanan dan kiri SDN Nusantara 01 terdapat ...

3. Di seberang SDN Nusantara 01 terdapat ...

4. Tempat yang terletak di antara rumah warga dan Puskesmas adalah ...

5. Tempat yang terletak di antara rumah warga dan Balai Kelurahan adalah ...

6. Jarak antara SDN Nusantara 01 dengan kota adalah ...

7. Siswa berangkat ke sekolah dengan ...



Sawah



SDN Nusantara 01



Sawah

Jalan Nusantara



Puskesmas



Toko



Rumah warga



Fotokopi



Balai kelurahan

8. Sebutkan tempat antara fotokopi dan Puskesmas!

9. Sebutkan nama tempat antara Balai Kelurahan dan Puskesmas!

10. Sebutkan nama tempat dua bangunan sebelah kanan Puskesmas!

UANG SAKU

Uang Saku

Setiap hari, Siti mendapat uang saku.

Uang saku dapat digunakan untuk membeli makanan atau minuman di sekolah.

Jika membawa bekal, uang saku Siti ditabung.

Setelah kegiatan upacara, Siti merasa kehausan.

Siti dan teman-teman membeli minuman di kantin sekolah.

Uang saku setiap siswa berbeda.

Siti, Dayu, dan Beni memperoleh uang logam dengan pecahan berbeda.



Ayo Mengamati



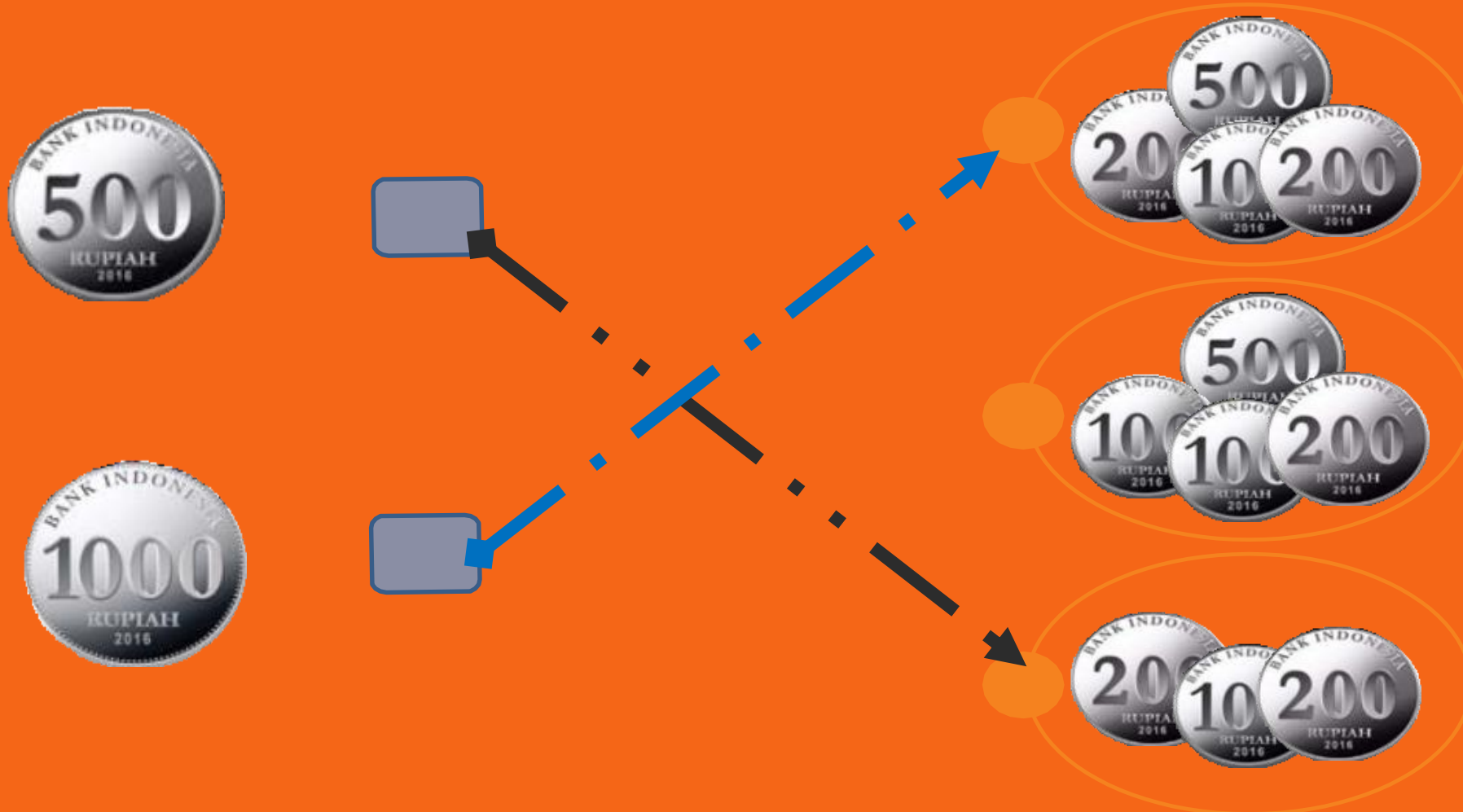
500		$2 \times 500 = 1.000$	1.000
500		$5 \times 200 = 1.000$	1.000
500		_____ +	_____ +
500		Total = 2.000	Total = 2.000
_____ +			
2.000			
= 4×500			
= 2.000			

Uang Siti, Dayu, dan Beni bernilai sama, yaitu Rp2.000,00.

MENGENAL NILAI KELOMPOK PECAHAN UANG

	Ditulis	Nilai Uang
	dua ratus rupiah	Rp. 200,00
	enam ratus rupiah	Rp. 600,00
	empat ratus rupiah	Rp. 400,00

PASANGKAN KELOMPOK UANG LOGAM BERIKUT YANG BERNILAI SAMA!



GERAK DASAR TARI



Posisi sikap awal menari kaki merapat badan tegap



Posisi tangan lurus ke bawah badan tegap



Gerak menekuk tangan ke samping



Gerak menekuk tangan ke atas



Posisi kaki berjingkat



Gerak mengangkat kaki



Gerak menekuk tangan ke depan



Posisi tangan lurus ke bawah badan tegap

Gerak dasar tari ini dapat kalian coba di rumah

<https://youtu.be/guWILxwu7vQ>



SELAMAT BELAJAR