



TEMA 1 HIDUP RUKUN



Subtema 2



Hidup Rukun dengan Teman Bermain

PEMBELAJARAN 3



Udin mempunyai banyak teman.

Ada Edo, Lani, Made, dan banyak lagi. Udin sering bermain Bersama teman-temannya. Mereka bermain setelah pulang sekola atau pada hari libur.

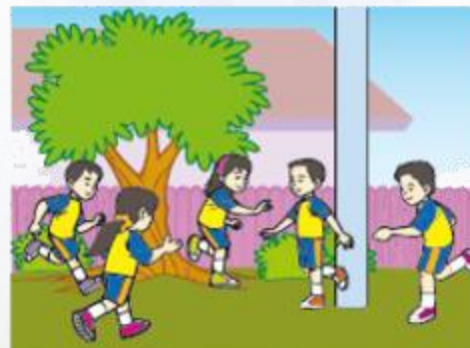

Udin dan teman-teman bermain dengan rukun.



Ayo Mengamati



**Coba kamu lihat gambar-gambar berikut ini!
Beri tanda silang (x) untuk gambar yang menunjukkan sikap rukun!**



**Dengarkan lagu Peramah dan Sopan!
Perhatikan syair lagunya!**

Ayo Mengamati



**Peramah dan Sopan
Ciptaan: Pak Dal**



**Bukan yang congkak
Bukan yang sombong
Yang disayangi handai dan taulan
Hanya anak yang tak pernah bohong
Rajin belajar
Peramah dan sopan**



Ayo Mengamati



Temukan kata-kata yang artinya sama dengan ungkapan berikut!

Tinggi Hati

=

Peramah dan Sopan
Ciptaan: Pak Dal

Bukan yang congkak
Bukan yang sombong
Yang disayangi handai dan taulan
Hanya anak yang tak pernah bohong
Rajin belajar
Peramah dan sopan



Cepat kaki
ringan tangan

=

Ayo Menulis




Tuliskan kalimat yang mengandung ungkapan!

1. Tinggi hati

2. Cepat kaki ringan tangan

1. _____

2. _____



Ayo Membaca



Mutiara senang menyanyi.
Udin senang menggambar.
Udin pernah menjadi juara menggambar.
Mutiara belum pernah menjuarai lomba menyanyi.
Namun, Udin tidak sombong



Ayo Mengamati



Amatilah gambar di bawah ini!

Udin meraih juara pertama lomba menggambar.

Nomor peserta Udin 232



232 dibaca
200 + 30 + 2



Ayo Mengamati



Perhatikan bilangan 245 dan 265.

$$245 = 200 + 40 + 5$$

$$265 = 200 + 60 + 5$$

Nilai angka pada tempat **puluhan** tidak sama

Nilai angka pada tempat **ratusan** sama

Nilai angka pada tempat ratusan kedua bilangan tersebut sama, yaitu 200.

Nilai angka pada tempat puluhannya tidak sama, yaitu 40 dan 60.

Karena 40 kurang dari 60, maka 245 kurang dari 265.


Perbandingan kedua bilangan dapat ditulis dalam bentuk simbol.

Simbol "**<**" menunjukkan bilangan **kurang dari**.

Simbol "**>**" menunjukkan bilangan **lebih dari**.

Simbol "**=**" menunjukkan bilangan **sama dengan**.

Jadi, dapat ditulis **245 < 265**.



Ayo Berlatih



1. Bandingkan dua bilangan berikut dengan memperhatikan angka penyusunnya!

$$336 = \dots + \dots + \dots$$

$$383 = \dots + \dots + \dots$$

Bilangan kurang dari

Jadi, 336 383

$$786 = \dots + \dots + \dots$$

$$678 = \dots + \dots + \dots$$

Bilangan lebih dari

Jadi, 786 678

$$315 = \dots + \dots + \dots$$

$$542 = \dots + \dots + \dots$$

Bilangan kurang dari

Jadi, 315 542

$$549 = \dots + \dots + \dots$$

$$560 = \dots + \dots + \dots$$

Bilangan kurang dari

Jadi, 548 560



2. Lengkapi titik-titik dengan tanda "< , = , atau > "!

$$287 \dots 227$$

$$540 \dots 549$$

$$977 \dots 907$$

$$408 \dots 480$$

$$315 \dots 351$$

$$364 \dots 438$$

Selamat Belajar



SDI BLORO
AYO #BERSAMA
LAWAN CORONA



Nama : LUSIA DALIMA, S.Pd
Telp./HP : 0813-5320-2678
Email : lusiadalima06@gmail.com
PPG Universitas Hamzanwadi
Angkatan 1 Tahun 2020

